



# Modul

# PATRIOT

*Sejarah Kertas 1*



**Progresif**

**A+**

**Tekun**

**Rajin**

**Intelek**

**Optimis**

**Tanggungjawab**

**Modul PATRIOT**

© Hak Cipta Bahagian Pendidikan Menengah MARA

Hak cipta terpelihara, tiada mana-mana bahagian daripada buku ini boleh diterbitkan semula, disimpan untuk pengeluaran atau ditukar kepada apa-apa bentuk dengan sebarang cara sekalipun tanpa izin daripada penerbit.

# Sekapur Sireh



Dengan Nama Allah Yang Maha Pengasih Lagi  
Maha Penyayang

Alhamdulillah, syukur kepada Allah swt kerana diizinkan oleh-Nya dan diberi kekuatan untuk pasukan panel menghasilkan Modul PATRIOT ini sebagai kegunaan kepada guru Sejarah MRSM Se-Malaysia dalam usaha membimbing pelajar bagi memantapkan penguasaan dan pemahaman subjek Sejarah. Kandungan modul ini merangkumi 800 item soalan objektif yang mencakupi 20 bab Sejarah tingkatan 4 dan tingkatan 5, KSSM.

Sesungguhnya penghasilan modul PATRIOT merupakan wadah penting dalam usaha memastikan pelajar MRSM Se-Malaysia bersedia dan mampu membawa kecemerlangan dalam peperiksaan. Di kesempatan ini, sekalung penghargaan kepada Bahagian Pendidikan Menengah MARA atas usaha menyediakan platform kepada guru-guru Sejarah MRSM Se-Malaysia menggembleng idea dan tenaga bagi menghasilkan modul ini.

Usaha murni yang digabung jalin ini ibarat *belayar sambil memapan, merapat sambil belayar* bagi warga pendidik meningkatkan profesionalisme keguruan disamping menyediakan buah tangan kepada pelajar sebagai persediaan berjuang dalam peperiksaan yang akan datang.

Syabas dan setinggi-tinggi ucapan terima kasih atas usaha dan keringat semua pihak yang terlibat dalam penghasilan modul PATRIOT ini. Besarlah harapan agar ianya dapat diteruskan pada masa akan datang sebagai wahana pendidikan yang akan melonjakkan prestasi mata pelajaran Sejarah.

# Kata Alu-Aluan

**Pengarah**  
Bahagian Pendidikan Menengah MARA

***Bismillahir Rahmanir Rahim***  
***Assalamualaikum Warahmatullahi Wabarakatuh***

Bersyukur ke hadrat Allah S.W.T. atas limpah dan kurnia-Nya kerana memberikan kesempatan untuk merakamkan sepatah dua kata dalam Modul PATRIOT ini.



Terlebih dahulu saya ingin mengambil kesempatan ini untuk mengucapkan setinggi-tinggi penghargaan dan tahniah kepada semua guru yang terlibat dalam penyediaan modul yang amat bermakna ini.

Saya percaya daya usaha guru-guru yang terlibat dalam menyediakan modul ini akan memberi input yang berguna dan pastinya dapat membantu guru-guru Sejarah MRSM Se-Malaysia meningkatkan lagi mutu pengajaran mata pelajaran Sejarah. Seterusnya di harap modul ini juga dapat memberi impak yang besar ke atas keputusan peperiksaan secara keseluruhannya. Usaha-usaha sebegini amatlah dialu-alukan untuk membolehkan kita bersama-sama memberi yang terbaik kepada pelajar kita di samping untuk mencapai misi 100 % A.

Akhir kata, adalah menjadi harapan saya agar modul ini akan dapat memberi faedah dan manfaat kepada semua guru dan seterusnya dapat membantu pelajar mempelajari mata pelajaran Sejarah dengan mudah. Saya berdoa agar segala usaha dan pengorbanan para guru diberkati Illahi.

Abd Manab bin Abdul Majid  
Pengarah  
Bahagian Pendidikan Menengah MARA


# Kata Alu-Aluan

Pertama-tamanya setinggi-tinggi kesyukuran dipanjatkan ke hadrat Ilahi kerana dengan izinNya modul PATRIOT dapat dihasilkan dalam misi membantu pelajar MRSM dalam perjuangan menghadapi peperiksaan SPM.

Ribuan terima kasih kepada Puan Zarina bt Fauzi KPP Sejarah BPM dan pasukan guru sejarah MRSM atas inisiatif menghasilkan modul ini. Pihak BPM sentiasa menyokong usaha guru-guru membantu pencapaian pelajar dalam subjek Sejarah sama ada kepada pelajar tingkatan empat mahupun calon-calon SPM.

Dari semasa ke semasa, pihak Bahagian Pendidikan Menengah MARA sentiasa mengambil inisiatif dan strategi bagi menyediakan ruang dan peluang kepada warga pendidik MRSM untuk meningkatkan tahap profesionalisme melalui seminar, perkongsian amalan terbaik dan bengkel penggubalan soalan. Saya percaya tahap profesionalisme guru yang tinggi secara tidak langsung mampu membantu pelajar menguasai teknik terbaik sebagai persediaan untuk menduduki peperiksaan. Justeru saya percaya modul PATRIOT ini adalah bukti kesungguhan semua untuk meningkatkan prestasi subjek ini pada masa akan datang seterusnya merealisasikan hasrat untuk mendapat 100 A % subjek sains sosial. InsyaAllah.



  
**Dr Zulkifli Hussain**  
 Timbalan Pengarah  
 (Sains Sosial)  
 BPM, MARA





**Zarina Fauzi**  
 Ketua Penolong Pengarah  
 Sejarah  
 BPM. MARA

Alhamdulillah dengan limpah izinNya misi menyiapkan modul Patriot akhirnya dapat direalisasikan.

Saya mengambil kesempatan ini untuk mengucapkan terima kasih yang tidak terhingga kepada pihak pengurusan Bahagian Pendidikan Menengah MARA kerana memberi peluang kepada kami guru Sejarah MRSM menyiapkan buku modul PATRIOT ini. Modul ini memberi makna Progresif, A+, Tekun, Rajin, Intelek, Optimis dan Tanggungjawab. Diharapkan nilai ini dapat dihayati sebaiknya oleh guru dan pelajar.

Pada ksempatan ini juga, saya ingin mengucapkan terima kasih kepada guru-guru Sejarah yang terlibat atas komitmen terbaik yang telah diberikan. Sesungguhnya perjalanan menyiapkan modul ini menghadapi pelbagai cabaran namun dengan izinNya dapat juga disiapkan. Semangat juang yang tinggi tanpa mengenal erti letih dan putus asa akhirnya merealisasikan PATRIOT sebagai buah tangan untuk pelajar MRSM.

Semoga pembikinan modul ini bakal memberi manfaat kepada semua guru dan pelajar MRSM dan saham akhirat kepada para penggubal. Hanya Allah yang dapat membalas jasa guru-guru semua.

# Panel Penggubal



**Zarina Fauzi**  
KPP Sejarah, BPM



**Isni Isa**  
MRSM Kuala Kubu Bharu



**Tajun Niswa Tajul Ariffin**  
MRSM Kuala Berang



**Zakaria Ibrahim**  
MRSM Kuala Terengganu



**Norizan Awang**  
MRSM Pasir Tumboh



**Nor Saliza Mohd Zain**  
MRSM Alor Gajah



**Sarina Abdul Rahman**  
MRSM Baling



**Hazza Haslina Napiah**  
MRSM Tun Ghazalie Shafie



**Azizan Talib**  
MRSM Parit



**Mohd Adnan Zaroei**  
MRSM Arau



**Norsiah Majid**  
MRSM Serting



**Syariah bt Besah@Sitam**  
MRSM Tun Dr Ismail



**Sulaima Sulaiman**  
MRSM Bagan Datuk



**Mohamad Fitri Abdullah**  
MRSM Sultan Azlan Shah



**Mohd Radzi Abdul Kassim**  
MRSM Tun Ghafar Baba



**Siti Mariam Abdullah**  
MRSM Gerik

# Isi Kandungan

Tingkatan 4		TEMA : PEMBINAAN NEGARA	Halaman
Tajuk	Bab		
9	1	Warisan negara bangsa	8-20
	2	Kebangkitan nasionalisme	21-32
10	3	Konflik dunia dan pendudukan Jepun di negara kita	33-43
	4	Era peralihan kuasa British di negara kita	44-56
	5	Persekutuan Tanah Melayu 1948	57-66
	6	Ancaman komunis dan pengisytiharan darurat	67-78
11	7	Usaha ke arah kemerdekaan	79-89
	8	Pilihan raya	90-101
	9	Perlembagaan Persekutuan Tanah Melayu 1957	102-112
	10	Pemasyuran Kemerdekaan	113-121

Tingkatan 5		TEMA : MALAYSIA DAN MASA DEPAN	Halaman
Tajuk	Bab		
12	1	Kedaulatan negara	122-132
	2	Perlembagaan Persekutuan	133-141
	3	Raja Berperlembagaan dan Demokrasi Berparlimen	142-150
	4	Sistem Persekutuan	151-162
13	5	Pembentukan Malaysia	163-173
	6	Cabaran selepas pembentukan Malaysia	174-185
14	7	Membina kesejahteraan negara	186-196
	8	Membina kemakmuran negara	197-206
15	9	Dasar luar Malaysia	207-218
	10	Kecemerlangan Malaysia di persada dunia	219-229

## BAB 1 WARISAN NEGARA BANGSA

- 1 Konsep negara bangsa telah wujud di Alam Melayu sebelum kedatangan Barat. Bagaimanakah pernyataan tersebut dapat dibuktikan?

ms 4

- A Kelahiran kerajaan Alam Melayu
- B Kemajuan perdagangan antarabangsa
- C Kewujudan hubungan dengan China
- D Kelahiran tokoh berwibawa

- 2 Senarai berikut berkaitan dengan ciri-ciri negara bangsa kerajaan Alam Melayu.

ms 4

- Raja
- Undang-undang
- Wilayah pengaruh
- Rakyat

Apakah fungsi raja dalam kerajaan Alam Melayu?

ms 4

- A Menetapkan cukai
- B Membina monumen
- C Melaksanakan hukuman
- D Menjadi tonggak kerajaan

- 3 Maklumat berikut merujuk kepada kerajaan-kerajaan Alam Melayu.

- Srivijaya
- Kedah Tua
- Gangga Nagara

Apakah persamaan kerajaan tersebut?

ms 4

- A Menentang kuasa Barat
- B Mengasaskan kerajaan Islam
- C Mewariskan ciri negara bangsa
- D Mempunyai monumen agung

- 4 Gambar berikut merupakan batu bersurat yang terdapat dalam kerajaan Srivijaya.



Inskripsi Telaga Batu

Apakah kepentingan inskripsi tersebut?

ms 4

- A Menceritakan kehebatan kerajaan
  - B Menerangkan tatacara pelantikan raja
  - C Mencatat salasilah keturunan pemimpin
  - D Memperkukuh kesetiaan kepada pemerintah
- 5 Maklumat berikut merujuk kepada undang-undang kerajaan Majapahit.

*Kutara Manawa*

Mengapakah undang-undang tersebut digubal?

ms 4

- I Menjadi panduan pentadbiran
  - II Meluaskan wilayah pengaruh
  - III Membentuk hubungan diplomatik
  - IV Memastikan kesejahteraan kerajaan
- A I dan II
  - B I dan IV
  - C II dan III
  - D III dan IV
- 6 Maklumat berikut berkaitan dengan satu upacara yang diamalkan dalam kerajaan Srivijaya.

Minum air sumpahan

Apakah tujuan upacara tersebut dijalankan?

ms 4-5

- A Menyucikan dosa
- B Menzahirkan kesyukuran
- C Membuktikan kesetiaan
- D Merawat penyakit

7 Bagaimanakah rakyat kerajaan Srivijaya membuktikan kesetiaan mereka?

ms 5

- A Melakukan upacara persetiaan
- B Menghasilkan karya kesusuteraan
- C Mengahwini kerabat diraja
- D Membina kompleks kota

8 Maklumat berikut berkaitan Kesultanan Johor Riau pada abad ke-16.

Kesultanan Johor-Riau berusaha meneruskan ciri-ciri negara bangsa yang diasaskan oleh Kesultanan Melayu Melaka.

Apakah aspek yang diberi penekanan oleh kerajaan tersebut?

ms 5

- A Agama Islam
- B Lambang negeri
- C Bahasa pertuturan
- D Khazanah warisan

9 Antara berikut, yang manakah ciri negara bangsa Kesultanan Melayu Melaka?

ms 6

- I Rakyat
- II Pembesar
- III Perwarisan
- IV Kedaulatan

- A I dan II
- B I dan IV
- C II dan III
- D III dan IV

10 Apakah faktor kemunculan sesebuah kerajaan Alam Melayu?

ms 6

- A Penetapan sempadan
- B Kewujudan Raja
- C Kedaulatan undang-undang
- D Pengukuhan lambang-lambang

11 Maklumat berikut berkaitan perubahan gelaran pemerintah Melaka.



Mengapakah berlaku perubahan gelaran tersebut?

ms 6

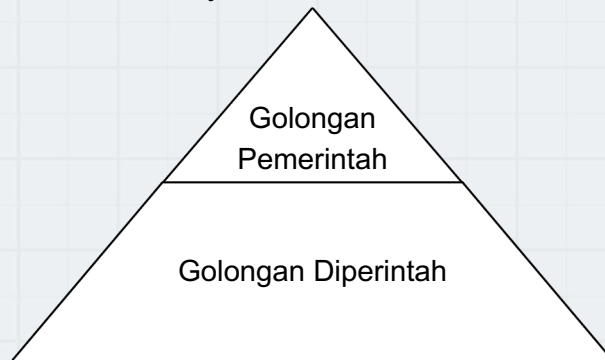
- A Perluasan kuasa
- B Kedatangan Islam
- C Arahan pemerintah
- D Pertukaran budaya

12 Apakah peranan golongan rakyat dalam Kesultanan Melayu Melaka?

ms 6

- A Menguruskan pentadbiran
- B Melaksanakan undang - undang
- C Mengukuhkan ekonomi
- D Melantik pemerintah

13 Rajah berikut menunjukkan hierarki sosial Kesultanan Melayu Melaka.



Siapakah golongan diperintah?

ms 6

- A Bangsawan
- B Pembesar
- C Hamba
- D Sultan

14 Bagaimanakah sistem pemerintahan Kesultanan Melayu Melaka diperkukuhkan?

ms 6

- A Mendapatkan pengiktirafan negara jiran
- B Memperoleh nasihat daripada kerajaan lain
- C Melaksanakan sistem Pembesar Empat Lipatan
- D Mengamalkan konsep Raja Berperlembagaan

15 Maklumat berikut menjelaskan maksud kedaulatan.

Lambang kekuasaan tertinggi raja

Apakah kepentingan konsep tersebut dalam perkembangan Kesultanan Melayu Melaka?

ms 6

- A Menentukan hubungan diplomatik
- B Memastikan pelaksanaan undang-undang
- C Mengikat hubungan pemerintah dengan rakyat
- D Merupakan hak mutlak sultan mengawal rakyat

16 Bagaimanakah rakyat mengakui kekuasaan seseorang raja?

ms 6

- I Menguasai kawasan naungan
- II Menjadi nakhoda kapal
- III Menumpahkan taat setia
- IV Mematuhi undang-undang

- A I dan II
- B I dan IV
- C II dan III
- D III dan IV

17 Apakah kepentingan lambang kebesaran berikut?

ms 7

- Nobat
- Regalia

- A Membuktikan keturunan
- B Memperlihatkan keaslian
- C Menunjukkan kedaulatan
- D Menggambarkan kemewahan

18 Mengapakah Kesultanan Melayu Melaka berusaha meluaskan wilayah pengaruhnya?

ms 7

- A Membuktikan kewibawaan pemerintah
- B Melambangkan kehebatan penduduk
- C Memperlihatkan kekayaan negeri
- D Mendapatkan taat setia rakyat

19 Peta berikut menunjukkan empayar Kesultanan Melayu Melaka.



Bagaimanakah Melaka memperoleh wilayah-wilayah tersebut?

ms 7

- I Naungan
- II Anugerah
- III Perjanjian
- IV Perkahwinan

- A I dan II
- B I dan IV
- C II dan III
- D III dan IV

20 Senarai berikut merupakan wilayah pengaruh kerajaan Kesultanan Melayu Melaka.

- Pahang
- Kampar
- Rokan

Bagaimanakah kawasan tersebut diperoleh?

ms 7

- A Melalui peperangan
- B Melalui penerimaan ketuanan
- C Melalui perjanjian perdagangan
- D Melalui hubungan persahabatan

21 Bagaimanakah kerajaan Melaka memperoleh wilayah berikut daripada kerajaan Majapahit?

ms 7

Wilayah Siantan

- A Perjanjian persahabatan
- B Hubungan sejarah
- C Pertukaran wilayah
- D Hadiah perkahwinan

22 Apakah kesan pelaksanaan undang-undang berikut kepada Kesultanan Melayu Melaka?

ms 7

- Hukum Kanun Melaka
- Undang-Undang Laut Melaka

- A Kekuatan tentera
- B Pertambahan penduduk
- C Keunggulan kerajaan
- D Pengiktirafan masyarakat

23 Apakah kepentingan lambang berikut?

ms 7

- Adat istiadat
- Nobat
- Cap mohor

- I Identiti kerajaan
- II Keistimewaan pemerintah
- III Simbol kemakmuran wilayah
- IV Lambang kekuatan ekonomi

- A I dan II
- B I dan IV
- C II dan III
- D III dan IV

24 Gambar berikut merupakan lambang kebesaran Kesultanan Melayu Melaka.



Cap Mohor

Apakah kepentingan lambang kebesaran tersebut?

ms 7

- A Mengesahkan arahan sultan
- B Meluaskan empayar kerajaan
- C Memperkukuh ketaatan rakyat
- D Menentukan status kerajaan

25 Apakah kepentingan alat kebesaran berikut?

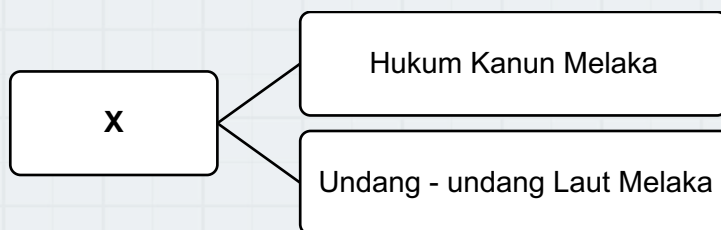
ms 7



Tengkolok

- A Simbol kekuasaan
- B Simbol kedaulatan
- C Lambang kekuatan
- D Lambang kemewahan

26 Maklumat berikut berkaitan perundangan Kesultanan Melayu Melaka.



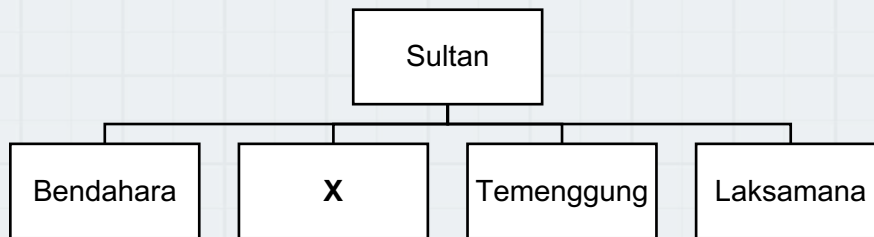
Apakah X?

ms 7

- A Undang-undang bertulis
- B Undang-undang tradisi
- C Undang-undang raja
- D Undang-undang adat

- 27 Siapakah yang diberikan kuasa oleh Sultan Melaka untuk memerintah sesebuah wilayah? ms 8
- A Ulama
  - B Syahbandar
  - C Utusan khas
  - D Pembesar Berempat

- 28 Rajah berikut menunjukkan sistem pentadbiran Kesultanan Melayu Melaka.



Sistem Pembesar Empat Lipatan

Apakah X?

- A Penggawa
  - B Syahbandar
  - C Ketua Kampung
  - D Penghulu Bendahari
- 29 Apakah yang dimaksudkan dengan 'kawasan pegangan'? ms 8
- A Kawasan kurniaan raja kepada pembesar
  - B Kawasan pungutan kutipan cukai pelabuhan
  - C Kawasan pusat pentadbiran negeri
  - D Kawasan perdagangan yang pesat
- 30 Buktikan kebijaksanaan pemerintah Kesultanan Melayu Melaka mentadbir kerajaan. ms 9
- I Mendapatkan khidmat tentera luar
  - II Membahagikan kawasan wilayah taklukan
  - III Mempunyai sistem pentadbiran teratur
  - IV Mendapat pengiktirafan kerajaan lain
- A I dan II
  - B I dan IV
  - C II dan III
  - D III dan IV

31 Ilustrasi berikut merupakan tokoh yang pernah berkhidmat dalam Kesultanan Melayu Melaka.



Bendahara Tun Perak

Apakah peranan beliau dalam sistem pentadbiran Melaka?

ms 9

- A Mengutip cukai di pelabuhan
- B Mengetuai angkatan tentera
- C Menjatuhkan hukuman pesalah
- D Menjaga keselamatan kota

32 Pilih pasangan yang betul berkaitan peranan pembesar-pembesar Kesultanan Melayu Melaka.

ms 9

A	Bendahara	Menjadi pemangku sultan
B	Penghulu Bendahari	Mengutip cukai
C	Temenggung	Menjaga keselamatan kota Melaka
D	Laksamana	Panglima Angkatan Tentera Laut Melaka

33 Antara berikut perkara yang manakah terdapat dalam Hukum Kanun Melaka?

ms 10

- I Pelayaran
  - II Percukaian
  - III Ekonomi
  - IV Kekeluargaan
- A I dan II
  - B I dan IV
  - C II dan III
  - D III dan IV

34 Maklumat berikut berkaitan dengan peraturan jenayah dalam Hukum Kanun Melaka.

Fasal 4-Hukuman Bunuh

Apakah kesalahan yang boleh dijatuhkan hukuman tersebut?

ms 10

- I Memalsukan titah raja
- II Mengingkari arahan raja
- III Menyamar menjadi pembesar
- IV Mengubah haluan pelayaran

- A I dan II
- B I dan IV
- C II dan III
- D III dan IV

35 Maklumat berikut merupakan undang-undang yang diguna pakai oleh Kesultanan Melayu Melaka.

- Hukum Kanun Melaka
- Undang-undang Laut Melaka

Mengapakah undang-undang tersebut dipraktikkan?

ms 10

- A Menghargai warisan tradisi
- B Mengetengahkan peranan penduduk
- C Melancarkan urusan pentadbiran
- D Mempertingkatkan pemikiran masyarakat

36 Maklumat berikut berkaitan Fasal 6.3 Undang-undang Laut Melaka.

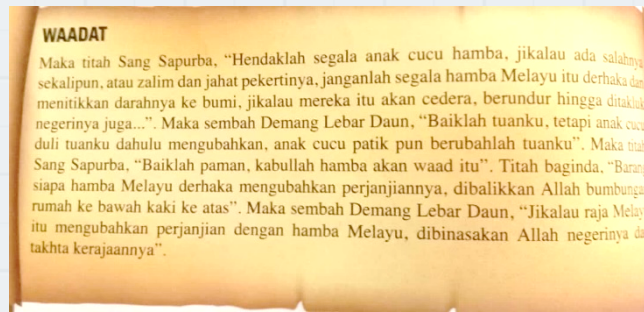
Setiap penumpang kapal akan dikenakan cukai 1/10 hasil penumpang.

Siapakah yang menentukan jumlah cukai tersebut?

ms 11

- A Nakhoda
- B Bendahara
- C Syahbandar
- D Penghulu Bendahari

37 Teks berikut merupakan waadat antara Sang Sapurba dengan Demang Lebar Daun.



Sumber: W.G.Shellabear. 1995. *Sejarah Melayu*.  
Shah Alam: Fajar Bakti Sdn.Bhd

Apakah yang dimaksudkan dengan waadat?

ms 12

- A Perjanjian antara pemerintah dengan rakyat
- B Penjelasan peranan rakyat dan pembesar
- C Pengukuhan hubungan antara negara
- D Perutusan raja kepada rakyat jelata

38 Maklumat berikut merujuk kepada maksud tulah.

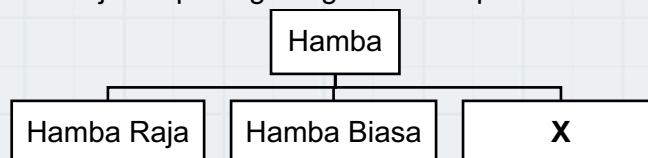
Tulah bererti kecelakaan yang menimpa seseorang

Mengapakah seseorang itu boleh ditimpa tulah?

ms 13

- A Melanggar titah raja
- B Membunuh rakyat raja
- C Mengingkari arahan pembesar
- D Melakukan perbuatan jenayah

39 Rajah berikut merujuk kepada golongan hamba pada zaman Kesultanan Melayu Melaka.



Apakah X?

ms 13

- A Hamba abdi
- B Hamba sahaya
- C Hamba berhutang
- D Hamba tawanan perang

40 Perumpamaan berikut merujuk kepada hubung kait pemerintah dan rakyat.

“Rakyat itu umpama akar, yang raja itu umpama pohon,  
Jikalau tiada akar nescaya pohon tidak akan dapat berdiri,  
demikian lagi raja itu dengan segala rakyatnya”.

Sumber: W.G.Shellabear.  
1995.*Sejarah Melayu*. Shah Alam: Fajar Bakti Sdn.Bhd

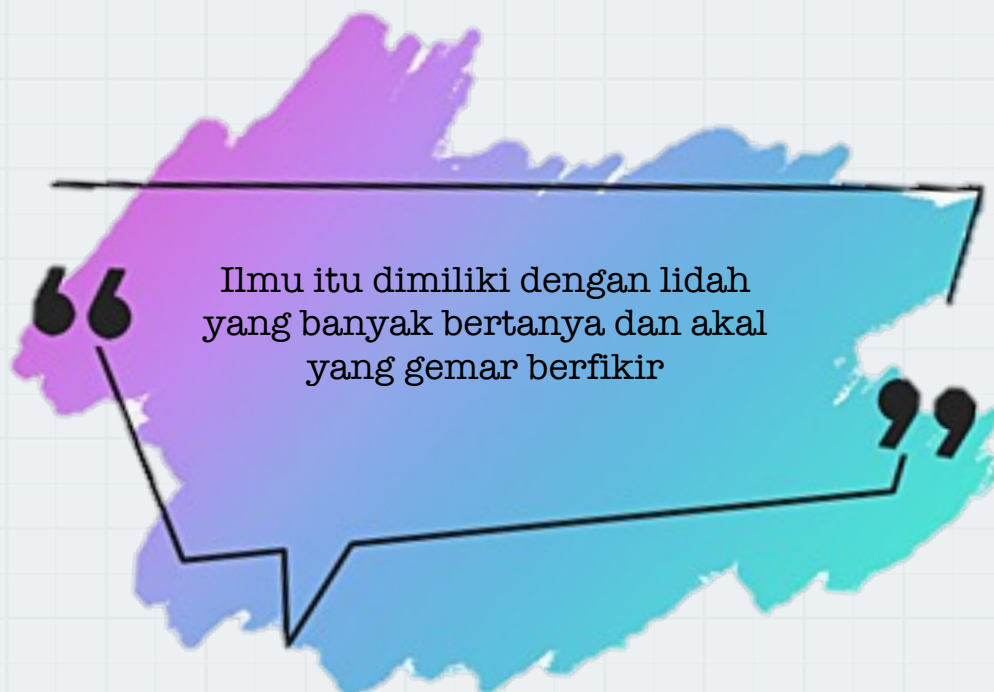
Apakah yang dapat disimpulkan daripada perumpamaan tersebut?

ms 13

- A Rakyat perlu mentaati raja
- B Pemerintah menjaga kebajikan rakyat
- C Rakyat menderhaka akan ditimpa tulah
- D Pemerintah dan rakyat saling memerlukan

**PERATURAN PEMARKAHAN  
BAB 1**

NO. SOALAN	KUNCI	MUKA SURAT	NO. SOALAN	KUNCI	MUKA SURAT
1	A	4	21	D	7
2	D	4	22	C	7
3	C	4	23	A	7
4	D	4	24	A	7
5	B	4	25	B	7
6	C	4-5	26	A	7
7	A	5	27	D	8
8	A	5	28	D	8
9	B	6	29	A	9
10	B	6	30	D	9
11	B	6	31	B	9
12	C	6	32	A	9
13	C	6	33	D	10
14	C	6	34	A	10
15	D	6	35	C	10
16	D	6	36	A	11
17	C	7	37	A	12
18	A	7	38	A	13
19	B	7	39	C	13
20	A	7	40	D	13



## BAB 2 KEBANGKITAN NASIONALISME

- 1 Apakah tafsiran tokoh tersebut terhadap nasionalisme?

ms 22



Profesor William R.Roff

- A Kesetiaan kepada raja  
 B Kesatuan rakyat tempatan  
 C Kebangkitan bangsa yang kuat  
 D Kebimbingan terhadap sekularisme
- 2 Pernyataan berikut berkaitan dengan idea nasionalisme yang dikemukakan oleh seorang tokoh.

Perjuangan menentang penjajah hendaklah ada persatuan dan perpaduan yang kuat.

Siapakah tokoh tersebut?

ms 23

- A Dr. Burhanuddin al Helmi  
 B Tan Sri Dr. Khoo Kay Kim  
 C Profesor William R. Roff  
 D Dato Onn Jaafar
- 3 Karya berikut berkaitan hasil penulisan John Locke, ahli falsafah Inggeris pada abad ke-17.

*Treaties of Government*

Apakah prinsip yang dipopularkan dalam karya tersebut?

ms 24

- A Konsep negara republik  
 B Demokrasi berperlimen  
 C Raja berpelembagaan  
 D Hak rakyat bersuara

- 4 Jadual berikut berkait dengan peristiwa perjuangan rakyat British di England pada abad ke-17.

Tarikh	Peristiwa
1688	Revolusi tercetus kerana Raja James II telah membelakangkan parlimen semasa membuat undang-undang.

Mengapakah peristiwa tersebut dikenali sebagai Revolusi Keagungan?

ms 24

- A Peralihan kuasa berlaku dengan aman  
 B Penentangan melibatkan seluruh rakyat  
 C Perjuangan memulihkan kuasa raja  
 D Penghapusan sistem birokrasi
- 5 Bagaimanakah Amerika Syarikat memperoleh kemerdekaan?
- A Kuasa parlimen  
 B Mogok umum  
 C Pilihan raya  
 D Revolusi
- 6 Mengapakah gerakan nasionalisme di India adalah lebih tersusun pada penghujung abad ke-19?
- A Perkembangan pendidikan Barat  
 B Peningkatan sistem perhubungan  
 C Pengaruh golongan agama  
 D Pengenalan Birokrasi Barat
- 7 Mengapakah Mahatma Gandhi berpegang teguh kepada konsep “satyagraha” dalam perjuangan nasionalisme di India?
- A Penekanan pembaharuan dalam negara  
 B Pemeliharaan budaya tempatan  
 C Pendekatan gerakan parti politik  
 D Perjuangan tanpa keganasan
- 8 Rajah berikut menerangkan perubahan pemerintahan di China pada abad ke-19.



Apakah faktor yang membawa kepada perubahan tersebut?

ms 26

- A Kemasukan pelabur barat  
 B Kelahiran ideologi kapitalis  
 C Kebangkitan rakyat  
 D Kematian pemimpin

- 9 Dr. Sun Yat Sen mempelopori perjuangan nasionalisme di China dengan mengemukakan prinsip berikut.

Tiga Prinsip Rakyat (San Min Chu-i)
<ul style="list-style-type: none"> <li>• Nasionalisme</li> <li>• Demokrasi</li> <li>• X</li> </ul>

Apakah X?

ms 26

- A Mandat rakyat
- B Kebajikan sosial
- C Ekonomi sejagat
- D Keamanan bersama

- 10 Tokoh berikut telah berjuang menentang penjajah Barat pada awal abad ke-20.



Sheikh Muhammad Abduh

Apakah idea yang dibawa oleh tokoh tersebut?

ms 27

- A Pemulihan pemikiran
- B Perpaduan antara kaum
- C Perjuangan secara radikal
- D Persaudaraan umat sejagat

- 11 Bagaimanakah Maharaja Meiji mengelakkan ancaman imperialisme Barat?

ms 27

- A Memperkasa perpaduan rakyat
- B Melaksanakan dasar tutup pintu
- C Mengukuhkan hubungan diplomatik
- D Melancarkan gerakan pemulihan Jepun

- 12 Apakah prinsip "**semangat bushido**" yang wajar menjadi contoh kepada generasi muda hari ini?

ms 27

- A Bersedia berkorban untuk negara
- B Memperkukuhkan amalan demokrasi
- C Bekerjasama dengan semua golongan
- D Menghormati golongan yang lebih dewasa

- 13 Gerakan nasionalisme di Filipina menjadi lebih radikal semasa pimpinan Bonifacio. Apakah faktor yang mendorong perubahan tersebut?

ms 28

- A Kekuatan golongan muda
- B Bantahan siswazah universiti
- C Bantuan daripada negara luar
- D Kegagalan Gerakan Propaganda

- 14 Apakah kesan peristiwa berikut terhadap gerakan nasionalisme di Filipina?

ms 28

Pada tahun 1899 Amerika Syarikat menggantikan penjajah Sepanyol di Filipina

- A Gerakan politik lebih sederhana
- B Kebangkitan gerakan revolusi
- C Pembentukan gerakan gerila
- D Perjuangan lebih tersusun

- 15 Gerakan nasionalisme Burma ialah manifestasi perjuangan golongan berikut.

- Golongan Kelas Menengah
- Golongan Sami Buddha
- Golongan Kelas Pertengahan Berpendidikan Barat
- **X**

Apakah **X**?

ms 29

- A Golongan bangsawan
- B Golongan pentadbir
- C Golongan petani
- D Golongan pelajar

- 16 Apakah peranan tokoh berikut dalam gerakan nasionalisme Burma?

ms 29



Aung San

- A Membela nasib pedagang
- B Menyebarkan idea revolusi
- C Memperjuangkan kemerdekaan
- D Mengetuai pemberontakan rakyat

- 17 Maklumat berikut berkaitan perjuangan gerakan nasionalisme di Vietnam pada awal abad ke-20.

Golongan Intelektual	Meningkatkan kesedaran politik dan gerakan anti Perancis
Golongan Mandarin	<b>X</b>

Apakah **X**?

ms 29

- A Memperjuangkan pemulihan sistem beraja
  - B Mengetengahkan kuasa pembesar
  - C Melaksanakan pentadbiran moden
  - D Menekankan politik sederhana
- 18 Bagaimanakah Perancis melumpuhkan gerakan golongan nasionalis di Vietnam?

ms 29

- 19 Jadual berikut menerangkan novel yang diterbitkan di Indonesia pada awal abad ke-20.

<b>Tahun</b>	1911
<b>Tajuk Novel</b>	Habis Gelap Terbitlah Terang
<b>Pengarang</b>	Raden Adjeng Kartini

Apakah mesej yang disampaikan oleh pengarang dalam novel tersebut?

ms 30

- A Penghargaan warisan bangsa
  - B Pembangunan nasional
  - C Persaudaraan ummah
  - D Penindasan penjajah
- 20 Apakah kepentingan ikrar berikut kepada perkembangan politik Indonesia sebelum Perang Dunia Kedua?

Ikrar Sumpah Pemuda
---------------------

ms 30

- A Memajukan pendidikan kaum wanita
- B Menolak ancaman sekularisme barat
- C Mewujudkan keutuhan negara bangsa
- D Mempertahankan pemerintahan beraja

21 Apakah usaha tokoh berikut dalam mempertahankan kedaulatan Thailand?

ms 31



Raja Mongkut



Raja Chulalongkorn

- A Menggalakkan kedatangan pelabur asing
  - B Melaksanakan pemodenan pentadbiran
  - C Menguatkuasakan kemasukan imigran
  - D Mempergiat pengeluaran pertanian
- 22 Peristiwa berikut berkaitan dengan perkembangan semangat nasionalisme di Thailand pada abad ke-20.

Revolusi Thai

Apakah kesan peristiwa tersebut kepada kerajaan Thailand?

ms 31

- A Pengukuhan peranan golongan bangsawan
  - B Pengenalan sistem Raja Berperlembagaan
  - C Penghapusan kuasa kapitalis Barat
  - D Perkembangan fahaman liberal
- 23 Maklumat berikut berkaitan tokoh yang berusaha menentang penjajah di negara kita.

Pemerintah	Peristiwa
Sultan Mahmud Syah	Tiga kali menyerang Portugis di Melaka
Sultan Abdullah Mukarram Syah	<b>X</b>

Apakah **X**?

ms 32

- A Menuntut Pulau Pinang
- B Menghapuskan ancaman barat
- C Mendaulatkan wilayah Kepulauan Melayu
- D Mengadakan rundingan dengan kuasa luar

- 24 Maklumat berikut berkaitan nasionalis Tanah Melayu pada penghujung abad ke-19 dan awal abad ke-20.

- Dato' Maharaja Lela
- Tok Janggut
- Haji Abdul Rahman Limbong

Apakah matlamat perjuangan tokoh tersebut?

ms 33

- A Menggerakkan pembaharuan pentadbiran
- B Mendaulatkan wilayah masing-masing
- C Mempertahankan golongan intelektual
- D Menghasilkan karya nasionalisme

- 25 Novel berikut merupakan hasil penulisan kreatif Pak Sako atau Ishak Haji Muhammad.



*Putera Gunung Tahan dan Anak Mat*

Apakah perkara yang boleh dikaitkan dengan karya tersebut?

ms 34

- I Memperjuang pendidikan wanita
  - II Mengingatkan kepentingan kebebasan
  - III Menggunakan sindiran terhadap penjajah
  - IV Menyeru rakyat kembali kepada ajaran agama
- A I dan II
  - B I dan IV
  - C II dan III
  - D III dan IV

26 Maklumat berikut merupakan institusi pendidikan penting pada awal abad ke-20 di Tanah Melayu.

- Madrasah al Attas
- Madrasah al Idrisiah
- Madrasah al Masyhur

Apakah kepentingan institusi tersebut?

ms 35

- A Melahirkan golongan pentadbir
- B Menyebarkan idea pemodenan
- C Menekankan pendidikan kemahiran
- D Membantu perjuangan golongan kiri

27 Maklumat berikut berkaitan nasionalis intelektual Melayu pada abad ke-20.

- Muhammad Eunos Abdullah
- Ibrahim Haji Yaakob

Bagaimanakah tokoh tersebut menyedarkan rakyat tentang nasionalisme?

ms 35

- I Menulis dalam akhbar
- II Melawat kawasan pedalaman
- III Menyalurkan bantuan kewangan
- IV Menubuhkan persatuan sosioekonomi

- A I dan II
- B I dan IV
- C II dan III
- D III dan IV

28 Antara berikut tokoh yang manakah memperjuangkan idea Kaum Muda?

ms 36

- A Syed Sheikh al Hadi
- B Muhammad Rakawi Yusuf
- C Raja Chulan Raja Abdullah
- D Muhammad Eunos Abdullah

29 Apakah tuntutan lepasan Maktab Melayu Kuala Kangsar kepada kerajaan British?

ms 36

- A Penubuhan lebih banyak madrasah
- B Peluang pembelajaran kepada wanita
- C Pemerksaan mata pelajaran Kesihatan
- D Peluang pekerjaan kepada orang Melayu

- 30 Maklumat berikut berkaitan sebuah institusi pendidikan sebelum Perang Dunia Kedua di Tanah Melayu.

ms 9

Institusi X	<ul style="list-style-type: none"> <li>• Menitikberatkan subjek Sejarah</li> <li>• Mendedahkan keagungan empayar Melayu di Alam Melayu</li> </ul>
-------------	---

Institusi X ialah

ms 37

- A Maktab Perguruan Sultan Idris  
 B Madrasah al Attas  
 C Raffles Institution  
 D Sekolah Melayu
- 31 Bagaimanakah institusi berikut berperanan membangkitkan kesedaran nasionalisme di Tanah Melayu pada abad ke-20?

ms 37

<ul style="list-style-type: none"> <li>• Raffles Institution</li> <li>• Maktab Melayu Kuala Kangsar</li> <li>• Maktab Perguruan Sultan Idris</li> </ul>
---

- A Melahirkan golongan radikal  
 B Menyalur idea pembaharuan  
 C Melatih kemahiran ketenteraan  
 D Menghantar pelajar ke luar negara
- 32 Maklumat berikut berkaitan puisi yang dihasilkan di Tanah Melayu sebelum Perang Dunia Kedua.

<ul style="list-style-type: none"> <li>• <i>Angan-angan dengan Gurindam</i></li> <li>• <i>Semenanjung</i></li> <li>• <i>Sedarlah</i></li> </ul>
---

Apakah persamaan isu yang diketengahkan oleh karya kreatif tersebut?

ms 39

- A Menyeru perpaduan kaum  
 B Memperjuang persamaan taraf  
 C Menyemai semangat cinta negara  
 D Memperkukuh ekonomi masyarakat

- 33 Maklumat berikut berkaitan persatuan awal yang ditubuhkan di Tanah Melayu pada abad ke-20.

Mohammad Eunus Abdullah menubuhkan Kesatuan Melayu Singapura pada tahun 1926

Apakah kejayaan persatuan tersebut?

ms 40

- A Mendorong penubuhan persatuan negeri
- B Menyatukan pergerakan bumiputera
- C Mengadakan perhimpunan tahunan
- D Meningkatkan kesedaran ekonomi

- 34 Antara berikut, yang manakah benar berkaitan Persaudaraan Sahabat Pena (PASPAM) yang telah ditubuhkan pada tahun 1934?

ms 40

- I Menyeru ahli bersatu
- II Mementingkan pengajian tinggi
- III Melibatkan diri dalam pentadbiran
- IV Menggalakkan ahli bertukar-tukar pendapat

- A I dan II
- B I dan IV
- C II dan III
- D III dan IV

- 35 Tokoh berikut merupakan ahli PASPAM di Sabah.

- Mohammad Yaakob
- Mohammad Shamsudin Osman
- Zakaria Gunn

Apakah mesej yang dibawa oleh mereka?

ms 40

- A Memelihara warisan tradisi
- B Mengkitik golongan pembesar
- C Menekankan kesedaran sosial
- D Menggalakkan pendidikan tinggi

- 36 Mengapakah British menganggap Kesatuan Melayu Muda (KMM) sebagai sebuah persatuan radikal?

ms 40

- A Menentang British secara gerila
- B Bergiat aktif dalam penubuhan persatuan
- C Membangkitkan perasaan anti-British
- D Bekerjasama dengan pihak komunis

- 37 British telah memperkenalkan satu dasar yang cuba mengembalikan kuasa sultan, residen dan Majlis Mesyuarat Negeri yang tercabar akibat pembentukan Negeri-negeri Melayu Bersekutu pada tahun 1896. Apakah dasar tersebut?

ms 42

- A Pecah dan Perintah
- B Desentralisasi
- C Pro-Barat
- D Berkecuali

- 38 Tokoh berikut menyedarkan guru pelatih akan kepentingan kurikulum bahasa Inggeris kepada masyarakat Melayu.



Siapakah beliau?

ms 42

- A Zainal Abidin Ahmad
- B Ishak Haji Muhammad
- C Tan Cheng Lock
- D E.E.C Thuraisingam

- 39 Akhbar berikut berusaha membantu orang Melayu melanjutkan pelajaran ke luar negara sebelum Perang Dunia Kedua.

- *The Malay Mail*
- *The Malaya Tribune*

Apakah usaha tersebut?

ms 42

- A Mengasaskan dana
- B Menyediakan tempat tinggal
- C Menubuhkan badan kebajikan
- D Mendapatkan khidmat guru berkaliber

- 40 Ibu Zain merupakan penggerak utama majalah Bulan Melayu. Apakah saranan beliau terhadap golongan wanita?

ms 43

- A Meningkatkan ilmu pengetahuan
- B Menyertai pentadbiran kerajaan
- C Menubuhkan tabung keluarga
- D Menerbitkan bahan bacaan

**PERATURAN PEMARKAHAN  
BAB 2**

NO. SOALAN	KUNCI	MUKA SURAT	NO. SOALAN	KUNCI	MUKA SURAT
1	D	22	21	B	31
2	A	23	22	B	31
3	C	24	23	A	32
4	A	24	24	B	33
5	D	25	25	C	34
6	A	26	26	B	35
7	D	26	27	B	35
8	C	26	28	A	36
9	B	26	29	D	36
10	A	27	30	A	37
11	D	27	31	B	37
12	A	27	32	C	39
13	D	28	33	A	40
14	A	28	34	B	40
15	C	29	35	C	40
16	C	29	36	C	40
17	A	29	37	B	42
18	C	29	38	A	42
19	D	30	39	A	42
20	C	30	40	D	43

“Masa akan terus berlalu, apa yang penting apa yang anda lakukan dengan masa yang ada”

**BAB 3**  
**KONFLIK DUNIA DAN PENDUDUKAN JEPUN DI NEGARA KITA**

- 1 British memperkenalkan Enakmen Undang-undang Islam pada tahun 1904. Apakah tujuan pengenalan undang-undang tersebut? ms 52
- A Memperkukuh Islam sebagai asas perundangan
  - B Membendung pengaruh idea gerakan Islam
  - C Membenarkan penubuhan sekolah Islam
  - D Meningkatkan perkembangan agama Islam
- 2 Bagaimanakah British mengawal gerakan Islah Islamiah di Tanah Melayu pada awal abad ke-20? ms 52
- A Menghadkan jumlah pelajar ke luar negara
  - B Melaksanakan perintah berkurung
  - C Melarang penubuhan persatuan
  - D Menubuhkan badan penyiasat
- 3 Maklumat berikut berkaitan situasi politik di Tanah Melayu pada awal abad ke-20.
- Orang Melayu dilihat memberikan sokongan terhadap empayar Uthmaniyah dalam Perang Dunia Pertama.
- Mengapakah British berwaspada dengan situasi tersebut? ms 52
- A Penggunaan senjata canggih
  - B Penyatuan dunia Islam dan Barat
  - C Seruan bangkit menentang penjajah
  - D Kehadiran tokoh empayar Uthmaniyah
- 4 Mengapakah kesedaran kebangsaan di Tanah Melayu tidak meluas sebelum Perang Dunia Kedua? ms 53
- A Kewujudan undang-undang
  - B Kemelesetan ekonomi dunia
  - C Ketiadaan pemimpin tempatan
  - D Kelemahan sistem pengangkutan
- 5 “Cerita Tekukur” yang disiarkan dalam akhbar Melayu pada tahun 1920 berunsurkan politik kemerdekaan. Dalam cerita tersebut, “tekukur” menangisi nasibnya kerana ms 53
- A hilang kebebasan
  - B kurang bermotivasi
  - C tidak mempunyai kawan
  - D cemburukan kehidupan manusia
- 6 Perang Dunia Pertama telah tercetus pada tahun 1914. Apakah faktor pemangkin meletusnya perang tersebut? ms 54
- A Penggunaan senjata moden
  - B Penaklukan Jerman ke atas Rhineland
  - C Penaklukan kawasan kaya bahan mentah
  - D Pembunuhan pewaris takhta Austria-Hungary

7 Persidangan Damai Paris pada 18 Januari 1919 telah melahirkan Deklarasi Woodrow Wilson.

Apakah prinsip yang dipersetujui berdasarkan deklarasi tersebut?

ms 56

- I Penentuan nasib negara ditentukan rakyat sendiri
- II Sempadan negara berasaskan bangsa
- III Larangan penggunaan senjata nuklear
- IV Agihan kuasa antara negara

- A I dan II
- B I dan IV
- C II dan III
- D III dan IV

8 Apakah kesan Perang Dunia Pertama terhadap Eropah?

ms 57

- A Pakatan tentera dibentuk
- B Pemerintahan beraja tamat
- C Kerjasama ekonomi dipersetujui
- D Keperluan bahan mentah meningkat

9 Apakah kesan Perang Dunia Pertama terhadap Empayar Uthmaniyah?

ms 57

- A Pengukuhan kerjasama rakyat
- B Pembentukan kerajaan republik
- C Kewujudan pakatan tentera
- D Kemunculan blok dunia

10 Maklumat berikut berkaitan ideologi baharu yang mencetuskan Perang Dunia Kedua di Eropah.

Pilih pasangan yang betul.

ms 58

	<b>Fahaman Fasisme</b>	<b>Fahaman Nazisme</b>
A	Dipimpin Adolf Hitler	Dipimpin Joseph Stalin
B	Mengagungkan bangsa Jerman	Melebihkan kepentingan individu
C	Percaya kepada nasionalisme melampau	Mengagungkan bangsa Jerman
D	Memulihkan nasionalisme rakyat	Berperang untuk meningkatkan imej negara

11 Mengapakah pemimpin berikut mengingkari Perjanjian Versailles?

ms 58



Adolf Hitler

- I Kehilangan tanah jajahan
  - II Pelaksanaan gencatan senjata
  - III Persaingan mendapatkan kawasan pasaran
  - IV Keperluan membayar pampasan perang yang tinggi
- A I dan II
  - B I dan IV
  - C II dan III
  - D III dan IV
- 12 Bagaimanakah Hitler mengembalikan maruah bangsa dan negaranya selepas Perang Dunia Pertama?
- ms 58
- A Membina angkatan tentera
  - B Melaksanakan pilihan raya
  - C Memulihkan sistem monarki
  - D Membangunkan industri baru
- 13 Antara berikut, yang manakah berkaitan dengan kegagalan Liga Bangsa-Bangsa selepas Perang Dunia Pertama?
- ms 59
- I Mengawal inflasi
  - II Mengadakan perjanjian damai
  - III Menangani krisis pencerobohan
  - IV Menguatkuasakan perjanjian pelucutan senjata
- A I dan II
  - B I dan IV
  - C II dan III
  - D III dan IV
- 14 Pilih maklumat yang betul berkaitan faktor tercetusnya Perang Dunia Kedua.
- ms 59
- A Itali - Menguasai Habsyah
  - B Jepun - Menakluk Korea
  - C Jerman - Menakluk Manchuria
  - D Perancis - Menguasai Albania

- 15 Jerman melancarkan serangan berikut bagi menakluk negara Eropah semasa Perang Dunia Kedua.

ms 60

*Blitzkrieg*

Apakah yang dimaksudkan dengan serangan tersebut?

- A Serangan bom nuklear
- B Serangan hendap
- C Serangan udara
- D Serangan kilat

- 16 Maklumat berikut berkaitan Operasi X semasa Perang Dunia Kedua.

Operasi X

- Disertai tentera Finland, Hungary dan Romania
- Pergerakan lebih tiga juta tentera

Apakah tujuan operasi tersebut dilancarkan?

ms 60

- A Menakluk Rusia
- B Menawan Poland
- C Menguasai Jerman
- D Memusnahkan pelabuhan Britain

- 17 Gambar berikut menunjukkan pertemuan tiga tokoh pemimpin Kuasa Bersekutu di Yalta, Rusia ketika Perang Dunia Kedua.



Apakah perkara yang mungkin dibincangkan dalam pertemuan tersebut?

ms 62

- A Rundingan damai
- B Pemulihan ekonomi dunia
- C Lawatan ke kawasan peperangan
- D Keberkesanan strategi peperangan

- 18 Apakah strategi tentera Bersekutu yang berjaya membebaskan Perancis daripada penaklukan Jerman dalam Perang Dunia Kedua?

ms 63

- A Kejayaan operasi "D-Day"
- B Pendaratan tentera di Calais
- C Pelancaran operasi Barbarossa
- D Penggunaan poster propaganda

- 19 Maklumat berikut berkaitan dengan pengenalan dasar luar Jepun pada abad ke-20.

Orde Baharu Asia

Apakah perkara yang terkandung dalam orde tersebut?

ms 64

- I Perluasan kuasa
  - II Penghasilan senjata moden
  - III Penghapusan amalan rasuah
  - IV Penentangan terhadap imperialisme barat
- A I dan II
  - B I dan IV
  - C II dan III
  - D III dan IV

- 20 Maklumat berikut berkaitan usaha Jepun meluaskan kuasanya di Asia semasa Perang Dunia Kedua.

ms 64

Setelah menguasai Korea, Manchuria dan China, Jepun menguasai kawasan strategik di Laut China Selatan termasuk Pulau Hainan dan IndoChina.

Apakah reaksi kuasa barat terhadap situasi tersebut?

- A Mengadakan perjanjian
- B Menggugurkan bom atom
- C Mengenakan sekatan ekonomi
- D Melancarkan serangan bersenjata

- 21 Jadual berikut berkaitan dengan serangan Jepun semasa Perang Dunia Kedua.

Tahun	Peristiwa
8 Disember 1941	Jepun menyerang Pearl Harbour, Amerika Syarikat di Pasifik

Mengapakah Jepun melakukan serangan tersebut?

ms 65

- A Menguasai ekonomi barat
- B Mewujudkan keamanan dunia
- C Melumpuhkan armada laut musuh
- D Memperlihatkan kecanggihan teknologi

- 22 Perang Dunia Kedua di Asia Pasifik (1941-1945) juga dikenali sebagai Perang Pasifik. Mengapakah perang tersebut berlaku?

ms 65

- A Dasar imperialisme Jepun
- B Dasar dekolonisasi negara timur
- C Dasar kapitalisme Amerika Syarikat
- D Dasar neokolonialisasi negara barat

- 23 Slogan berikut berkaitan dengan usaha Jepun menjayakan misi mereka ke negara kita.

Asia untuk Orang Asia

Apakah muslihat Jepun menggunakan slogan tersebut?

ms 68

- A Mewujudkan perpaduan
- B Menambah jumlah tentera
- C Meningkatkan ekonomi penduduk
- D Menaikkan imej sebagai pembela Asia

- 24 Misi utama kedatangan Jepun ke negara kita ialah memenuhi keperluan ekonomi dan kepentingan ketenteraan.

Apakah tindakan Jepun untuk mencapai misi tersebut?

ms 68

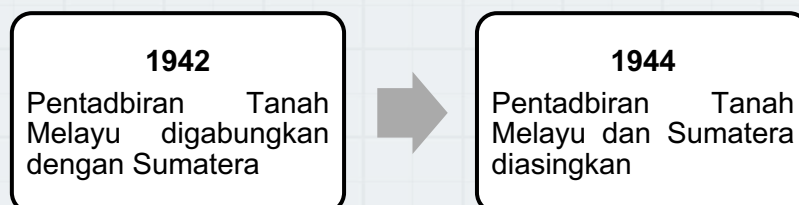
- A Memalsukan dokumen
- B Melakukan tipu muslihat
- C Melaksanakan provokasi
- D Menggunakan propaganda

- 25 Mengapakah penguasaan Pulau Borneo penting bagi Jepun dalam pelan strategik ketenteraannya?

ms 68

- A Membuka laluan menguasai telaga minyak Sumatera
- B Menjayakan operasi penaklukan di Pulau Jawa
- C Memudahkan kemaraan ke Tanah Melayu
- D Menyekat kemaraan tentera Bersekutu

- 26 Rajah berikut berkaitan perubahan pentadbiran tentera Jepun di Tanah Melayu dan Sumatera.



Mengapakah perubahan tersebut berlaku?

ms 70

- A Permintaan penduduk kedua negara
- B Penghapusan pentadbiran Sumatera
- C Penentangan dari negara Belanda
- D Perbezaan sistem politik

- 27 Mengapakah rakyat Tanah Melayu tidak mahu ditangkap oleh pasukan Kempetai Jepun?

ms 70

- A Diseksa dengan kejam
- B Dihantar ke negara Jepun
- C Dikenakan perintah berkurung
- D Dibuang kerakyatan Tanah Melayu

- 28 Mengapakah pentadbiran tentera Jepun menubuhkan Koa Kunrenjo di Tanah Melayu?  
ms 71
- A Menjadi pasukan tentera sukarela
  - B Mengiktiraf kedudukan Raja-raja Melayu
  - C Memperjuangkan semangat politik Jepun
  - D Membantu masyarakat dalam bidang ekonomi

- 29 Maklumat berikut berkaitan jawatankuasa yang ditubuhkan semasa pendudukan Jepun di Tanah Melayu.

- Rancangan Pengeluaran Lima Tahun
- Jawatankuasa Penyelidikan Bahan

Apakah tujuan penubuhan jawatankuasa tersebut?

ms 71

- I Menggabungkan pentadbiran wilayah
  - II Membangunkan industri tempatan
  - III Mengawal selia pelupusan barang
  - IV Menyediakan pusat latihan belia
- A I dan II
  - B I dan IV
  - C II dan III
  - D III dan IV

- 30 Mata wang berikut telah digunakan semasa pendudukan Jepun di negara kita.


ms 71



Apakah kesan pengenalan mata wang tersebut?

- A Menyebabkan inflasi
- B Mengukuhkan ekonomi
- C Meningkatkan pendapatan
- D Meningkatkan penawaran barangan

- 31 Gambar berikut adalah novel karya Ahmad Murad Nasaruddin pada zaman pendudukan Jepun di Tanah Melayu.



Novel Nyawa *di-hujung* Pedang

Apakah mesej yang disampaikan melalui karya tersebut?

ms 73

- A Peluang dalam pentadbiran
  - B Ketabahan seorang pemuda
  - C Pendidikan golongan wanita
  - D Perpaduan antara kaum
- 32 Gambar berikut merupakan tokoh yang telah memberikan sumbangan dalam perkembangan nasionalisme di negara kita



Leftenan Adnan Saidi



Leftenan Ibrahim Alla Ditta

Apakah sumbangan tokoh tersebut?

ms 74

- A Mempertahankan Tanah Melayu
  - B Mencipta senjata baharu
  - C Menubuhkan Force 136
  - D Mengusir komunis
- 33 Operasi Zipper telah dilancarkan oleh British di Tanah Melayu pada tahun 1945. Apakah yang dimaksudkan dengan operasi tersebut?

ms 77

- A Menyebarkan propaganda anti-Jepun
- B Membantu pertahanan pesisiran pantai
- C Melaksanakan tindakan mensabotaj musuh
- D Melancarkan serangan besar-besaran

- 34 Operasi berikut dilakukan oleh Unit Khas Z Australia semasa tentera Bersekutu menentang Jepun di Sarawak.

Operasi Semut

Apakah tujuan pelaksanaan operasi tersebut?

ms 79

- A Menyebarkan risalah
- B Menyediakan ubat-ubatan
- C Membantu mangsa perang
- D Melatih serangan perang gerila

- 35 Mengapakah pentadbiran Jepun membubarkan Kesatuan Melayu Muda (KMM) pada tahun 1942?

ms 80

- A Pemimpin KMM menuntut kemerdekaan
- B Jepun mengalami masalah kewangan
- C KMM bekerjasama dengan British
- D Arahan kepimpinan pusat Jepun

- 36 Apakah peranan Giyu Tai dalam gerakan nasionalisme zaman pendudukan Jepun?

ms 80

- A Menguruskan ekonomi Jepun
- B Menjaga ketenteraman awam
- C Membantu pentadbiran negeri
- D Melancarkan gerakan gerila

- 37 Maklumat berikut berkaitan pentadbiran Jepun di Sarawak.

Orang Melayu dan Iban diberikan jawatan yang lebih tinggi sebagai pegawai daerah yang sebelumnya hanya disandang pegawai British.

Mengapakah Jepun melaksanakan tindakan tersebut?

ms 81

- A Kesedaran politik
- B Permintaan rakyat
- C Kekurangan pegawai
- D Perubahan kepimpinan

- 38 Kelewatan pendaratan semula tentera British selepas Jepun menyerah kalah telah meninggalkan kesan terhadap Tanah Melayu.

Apakah kesan tersebut?

ms 84

- I Kekosongan politik
- II Kemunculan persatuan negeri
- III Pemeriksaan kuasa Raja-raja Melayu
- IV Penguasaan Bintang Tiga

- A I dan II
- B I dan IV
- C II dan III
- D III dan IV

39 Dato' Onn Jaafar berusaha memulihkan keamanan dan kekacauan ekoran pergaduhan kaum di Batu Pahat selepas Perang Dunia Kedua. Apakah tindakan yang dilaksanakan oleh beliau?

ms 85

- A Melaksanakan darurat
- B Mengatur perundingan
- C Menangkap pemimpin terlibat
- D Menghantar orang perantaraan

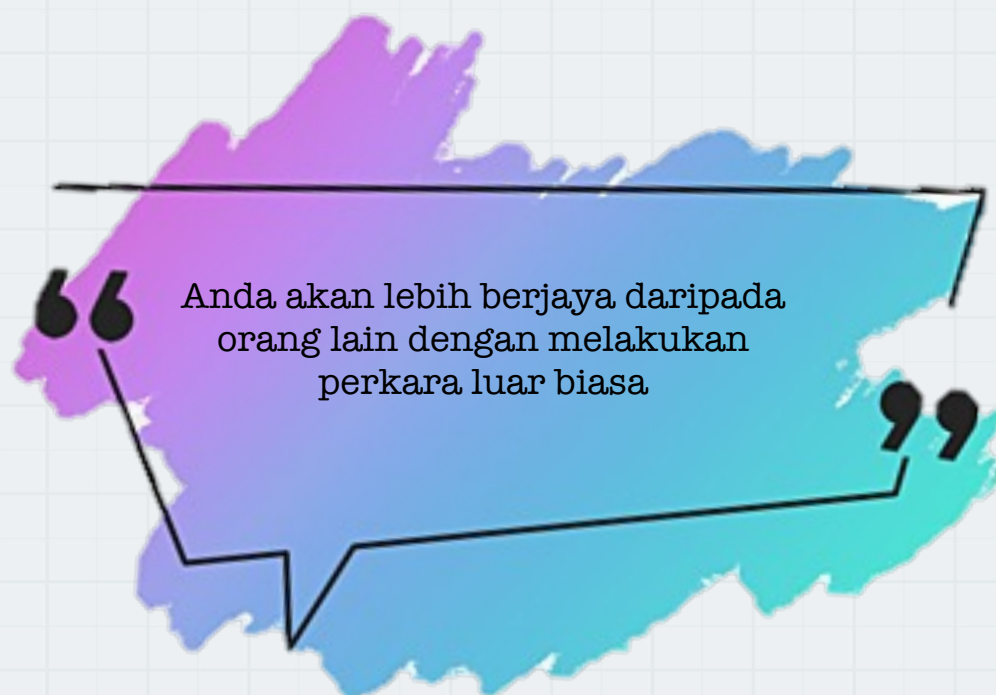
40 Apakah kesan pendudukan Jepun ke atas negara kita?

ms 85

- A Keretakan hubungan antara kaum
- B Pemulihan kuasa pemimpin tempatan
- C Kemusnahan pusat pentadbiran
- D Perkembangan ekonomi negara

**PERATURAN PEMARKAHAN  
BAB 3**

NO. SOALAN	KUNCI	MUKA SURAT	NO. SOALAN	KUNCI	MUKA SURAT
1	B	52	21	C	65
2	D	52	22	C	66
3	C	52	23	D	68
4	A	53	24	D	68
5	A	53	25	B	68
6	D	54	26	D	70
7	A	56	27	A	70
8	B	57	28	C	71
9	B	57	29	C	71
10	C	58	30	A	71
11	B	58	31	B	73
12	A	58	32	A	74
13	D	59	33	D	77
14	A	59	34	A	79
15	D	60	35	A	80
16	A	60	36	B	80
17	D	62	37	C	81
18	A	63	38	B	84
19	B	64	39	B	85
20	C	64	40	A	85



## BAB 4 ERA PERALIHAN KUASA BRITISH DI NEGARA KITA

- 1 Maklumat berikut berkaitan dengan pentadbiran yang diperkenalkan oleh British selepas Perang Dunia Kedua.

ms 94

<b>Tempoh</b>	September 1945 hingga April 1946
<b>Ketua</b>	Lord Mountbatten Pemerintah Tertinggi Tentera Bersekutu Asia Tenggara

Apakah bentuk pentadbiran tersebut?

- A Malayan Union
  - B Persekutuan Tanah Melayu
  - C Malayan Democratic Union
  - D British Military Administration
- 2 Gambar berikut merupakan peristiwa di Georgetown, Pulau Pinang sempena menyambut kedatangan British pada September 1945.



Sekiranya anda sebagai rakyat yang berada di tempat tersebut, apakah harapan anda kepada British?

ms 94

- A Mengembalikan kuasa sultan
  - B Memulihkan ketenteraman awam
  - C Menubuhkan pasukan keselamatan
  - D Mengisytiharkan darurat di seluruh negara
- 3 Apakah tindakan yang dilakukan oleh British terhadap anggota Malayan People's Anti Japanese Army (MPAJA) pada Disember 1945?
- ms 94
- I Menyediakan tempat tinggal
  - II Memujuk menyerahkan senjata
  - III Meminta membubarkan pasukan
  - IV Memberikan latihan ketenteraan
- A I dan II
  - B I dan IV
  - C II dan III
  - D III dan IV

4 Penduduk mengalami pelbagai penderitaan pada zaman pemerintahan Jepun di Tanah Melayu. Apakah bentuk penderitaan tersebut?

ms 94

- I Kekurangan ilmu pengetahuan
- II Ketiadaan sumber kewangan
- III Kesukaran mengawal harga barang
- IV Kelemahan sikap pemimpin tempatan

- A I dan II
- B I dan IV
- C II dan III
- D III dan IV

5 Mengapakah British berhasrat memperkenalkan pentadbiran Malayan Union?

ms 97

- I Kerakyatan berdasarkan tempat lahir
- II Kedudukan pemimpin tempatan diakui
- III Konsep Persekutuan telah dibentuk
- IV Kuasa sultan terhad dalam bidang agama

- A I dan II
- B I dan IV
- C II dan III
- D III dan IV

6 Maklumat berikut berkaitan dengan pelaksanaan gagasan Malayan Union.

Persatuan Pelajar Britain menghantar memorandum ke Parlimen British pada 25 April 1945.

Apakah isi kandungan memorandum tersebut?

ms 96

- A Memelihara keamanan negara
- B Meminda syarat kewarganegaraan
- C Menamatkan penjajahan kuasa barat
- D Memulihkan kuasa pentadbiran sultan

7

Parlimen British telah meluluskan Kertas Putih 6274 yang mengandungi 13 perkara berkaitan gagasan Malayan Union.

Apakah perkara yang terkandung di dalam kertas tersebut?

ms 96

- A Penentuan bentuk pentadbiran
- B Penubuhan pertubuhan kebangsaan
- C Pembubaran Parti Komunis Malaya
- D Penyertaan Singapura dalam gagasan

8 Siapakah yang mengetuai pentadbiran Malayan Union?

ms 97

- A Ketua Menteri
- B Penasihat British
- C Gabenor British
- D Pesuruhjaya Tinggi

9 Senarai berikut merupakan badan pentadbiran Malayan Union di Tanah Melayu.

- Majlis Eksekutif
- Majlis Perundangan

Siapakah yang bertanggungjawab mengawal badan pentadbiran tersebut?

ms 97

- A Pesuruhjaya Tinggi
- B Gabenor Jeneral
- C Residen British
- D Raja Melayu

10 Apakah ciri perlembagaan pentadbiran Malayan Union yang telah diperkenalkan pada 1 April 1946 di Tanah Melayu?

ms 97

- I Kerakyatan berdasarkan tempat lahir
- II Konsep Persekutuan telah dibentuk
- III Kedudukan pemimpin tempatan diakui
- IV Kuasa sultan terhad dalam bidang agama

- A I dan II
- B I dan IV
- C II dan III
- D III dan IV

11 Maklumat berikut menunjukkan tindakan sultan ketika misi mendapatkan tandatangan persetujuan terhadap Malayan Union di Tanah Melayu.

- Cuba melengah-lengahkan masa
- Enggan bersetuju kerana bertentangan dengan undang-undang Tubuh Negeri Terengganu
- Berdebat dengan dengan Sir Harold MacMichael

Apakah kesan tindakan sultan tersebut?

ms 99

- A Dibuang negeri
- B Dibayar ganti rugi
- C Diturunkan takhta
- D Dikenakan paksaan

- 12 Pelaksanaan pentadbiran Malayan Union yang telah diperkenalkan pada 1 April 1946 telah mewujudkan penentangan dalam kalangan Raja-raja Melayu. Mengapakah penentangan tersebut berlaku?

ms 100

- A Kepincangan adat resam peribumi
- B Kesulitan memperoleh kerakyatan
- C Kehilangan kuasa memerintah
- D Kehancuran tamadun bangsa

- 13 Apakah usaha yang dilakukan oleh Raja-raja Melayu untuk menentang pelaksanaan Malayan Union di Tanah Melayu?

ms 101

- I Menerbitkan akhbar Majlis
- II Membiayai Kongres Melayu
- III Memulaukan pelantikan Gabenor
- IV Membuat bantahan di Mahkamah Rayuan

- A I dan II
- B I dan IV
- C II dan III
- D III dan IV

- 14 Gambar berikut menunjukkan perarakan menentang Malayan Union yang dipimpin oleh Permaisuri Perak.



- Apakah ciri kepimpinan yang dapat dicontohi daripada pemimpin tersebut?

ms 101

- A Bertoleransi
- B Bersikap adil
- C Berpandangan jauh
- D Bersemangat kental

- 15 Maklumat berikut berkaitan dengan peranan akhbar dalam usaha menentang Malayan Union.

Akhbar X
<ul style="list-style-type: none"> <li>• Mengutuk Malayan Union kerana merugikan orang Melayu</li> <li>• Menyeru diadakan perhimpunan besar-besaran</li> </ul>

Apakah X?

ms 102

- A Warta Negara
- B Fajar Sarawak
- C Majalah Guru
- D Lembaga Melayu

- 16 Senarai berikut menunjukkan persatuan yang membantah pelaksanaan Malayan Union di Tanah Melayu.

<ul style="list-style-type: none"> <li>• Persatuan Melayu Johor</li> <li>• Persatuan Melayu Kedah</li> <li>• Persatuan Melayu Selangor</li> </ul>
---

Apakah kejayaan yang diperoleh daripada bantahan persatuan tersebut?

ms 103

- A Menyegerakan kemerdekaan
- B Menubuhkan Parti Perikatan
- C Memelihara warisan tradisi
- D Menyatukan orang Melayu

- 17 Senarai berikut merupakan tokoh yang berjasa kepada negara kita.

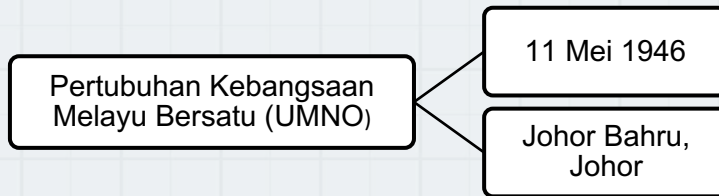
Tokoh
<ul style="list-style-type: none"> <li>• Dato' Onn Jaafar</li> <li>• Zainal Abidin Ahmad</li> <li>• Tunku Abdul Rahman</li> </ul>

Apakah persamaan perjuangan tokoh tersebut?

ms 105

- A Memartabatkan bahasa Melayu
- B Membentuk badan induk UMNO
- C Menentang British secara radikal
- D Menyertai rombongan ke London

18 Pertubuhan berikut ditubuhkan bertujuan menentang Malayan Union pada tahun 1946.



Apakah usaha yang dilakukan untuk mencapai tujuan tersebut?

ms 105

- A Mengadakan tempoh berkabung
- B Membawa kes ke Mahkamah Tinggi
- C Mendesak ke arah berkerajaan sendiri
- D Mengukuhkan perpaduan orang Melayu

19 Senarai berikut berkaitan dengan reaksi penentangan rakyat di Tanah Melayu terhadap Malayan Union.

- Menganjurkan Kongres Melayu
- Membuat bantahan melalui akhbar
- Mengadakan rapat umum di bandar besar

Apakah tindakan yang dilakukan oleh British berdasarkan reaksi tersebut?

ms 102-106

- A Memperkenalkan konsep Persekutuan
- B Mengekalkan syarat kewarganegaraan
- C Mengiktiraf sultan sebagai Ketua Negara
- D Melaksanakan proses berkerajaan sendiri

20 Jadual berikut merujuk kepada perubahan pentadbiran di Sarawak.

Sebelum Perang Dunia Kedua	Selepas Perang Dunia Kedua
Negeri Naungan	Tanah Jajahan

Mengapakah perubahan tersebut berlaku?

ms 107

- A Mengukuhkan kedudukan pemerintah
- B Melatih penduduk berkerajaan sendiri
- C Membanteras ancaman komunis
- D Mengatasi masalah kewangan

21 Jadual berikut menunjukkan perkembangan pemerintahan di Sarawak.

Tahun	Pemerintahan
1841	Keluarga Brooke
1941	Negara Jepun
1945	<b>X</b>

Apakah **X**?

ms 107

- A Pentadbiran Tentera
- B Persekutuan Borneo
- C Persekutuan Malaysia
- D Pentabiran Bintang Tiga

22 Pejabat Tanah Jajahan telah mendesak Charles Vyner Brooke untuk menyerahkan Sarawak kepada British selepas Perang Dunia Kedua.

Mengapakah British membuat desakan tersebut?

ms 107

- A Menguasai sumber kekayaan
- B Melindungi kebajikan penduduk
- C Membentuk kerajaan demokrasi
- D Menjimatkan kewangan kerajaan

23 Charles Vyner Brooke telah menghantar setiausaha peribadinya untuk mendapatkan tandatangan ketua tempatan berkaitan penyerahan Sarawak kepada British. Siapakah setiausaha tersebut?

ms 108

- A Harold MacMichael
- B Gerard T. MacByran
- C David Rees William
- D Charles Arden Clarke

24 Dialog berikut mungkin berlaku dalam kalangan pemimpin tempatan di Sarawak.

<p><b>Tokoh X :</b> Kita mesti menentang penyerahan negeri kita kepada British.</p> <p><b>Tokoh Y :</b> Setuju. Penyerahan tersebut bercanggah dengan Perlembagaan 1941.</p>
--

Apakah perkara yang terkandung dalam perlembagaan tersebut?

ms 109

- A Pelaksanaan pembangunan negeri
- B Pembentukan kerajaan sendiri
- C Penetapan tarikh pilihan raya
- D Pelantikan pewaris takhta

25 British bertindak mengeluarkan Pekeliling Bil.9 pada Disember 1946 di Sarawak. Apakah kesan daripada tindakan tersebut?

ms 110

- A Penubuhan pakatan sulit
- B Pemogokan kesatuan sekerja
- C Pemansuhan kerakyatan terbuka
- D Peletakan jawatan kakitangan awam

26 Senarai berikut berkaitan usaha golongan wanita yang menentang penyerahan Sarawak kepada British.

- Membuat kempen kesedaran di rumah panjang
- Mengorbankan masa dan tenaga untuk mengadakan demonstrasi
- Memperjuangkan kemerdekaan Sarawak

Apakah nilai yang boleh dicontohi daripada usaha tersebut?

ms 111

- I Amanah
- II Berani
- III Cekal
- IV Jujur

- A I dan II
- B I dan IV
- C II dan III
- D III dan IV

27 Gambar berikut merupakan salah seorang anggota Rukun 13 yang terlibat dalam peristiwa Sungkit Berdarah.



Mengapakah masyarakat Sarawak menghargai jasa tokoh tersebut?

ms 112

- A Menyatukan pemimpin tempatan
- B Mempercepatkan kemerdekaan negeri
- C Menyemarakkan semangat kebangsaan
- D Memantapkan sistem pentadbiran

28 Perdana Menteri Britain berpendapat Sabah sesuai dijadikan sebagai Tanah Jajahan British selepas Perang Dunia Kedua.

Mengapakah beliau berpendapat sedemikian?

ms 114

- I Mempunyai pasaran yang luas
- II Menyediakan tenaga buruh mahir
- III Menjadi benteng pertahanan musuh
- IV Memenuhi keperluan bahan mentah

- A I dan II
- B I dan IV
- C II dan III
- D III dan IV

29 Selepas kekalahan tentera Jepun pada tahun 1945, pemerintahan British Military Administration (BMA) telah diperkenalkan di Sabah. Mengapakah pemerintahan BMA diperkenalkan?

ms 114

- A Mengembalikan keamanan negeri
- B Menghapuskan ancaman komunis
- C Mengatasi masalah kewangan
- D Membaiki pulih infrastruktur

30 Maklumat berikut berkaitan peristiwa Penyerahan Sabah.

Tarikh	Peristiwa
26 Jun 1946	Syarikat Borneo Utara British (SBUB) menandatangani satu perjanjian dengan kerajaan British.

Apakah kesan daripada peristiwa tersebut?

ms 114

- A Sabah berstatus tanah jajahan
- B Taraf negeri naungan dikekalkan
- C British telah meninggalkan Sabah
- D Pentadbiran oleh Gabenor Jeneral

31 Maklumat berikut berkaitan dengan tindakan British terhadap ahli persatuan di Sabah.

Memindahkan pemimpin yang aktif

Mengapakah British bertindak sedemikian?

ms 116

- A Mengawal pengaruh komunis
- B Mengelakkan bantahan rakyat
- C Mengurangkan beban kerajaan
- D Mengehadkan peluang pentadbiran

- 32 Pasangan manakah yang betul berkaitan dasar British terhadap pemimpin persatuan di Sabah?

ms 116

A	H.M.Salleh	Berpindah ke Pulau Labuan
B	Imam Suhaili Yaakub	Pulang ke Tanah Melayu
C	Tengku Nordin	Ditawarkan bekerja dengan kerajaan
D	Zakaria Gunn	Dipindahkan ke Jesselton

- 33 Maklumat berikut merupakan persatuan yang ditubuhkan di Sabah pada tahun 1946.

- Barisan Pemuda Sabah (BARIP)
- Persatuan Sahabat Pena Sabah (PASPAS)

Apakah tujuan persatuan tersebut ditubuhkan?

ms 116

- A Memperbaiki ekonomi kaum bumiputera
- B Menggalakkan perpaduan penduduk
- C Memberi kesedaran pendidikan
- D Mempertahan warisan bangsa

- 34 Maklumat berikut berkaitan dengan tindakan British terhadap gerakan nasionalisme di Sabah selepas Perang Dunia Kedua.

Menawarkan jawatan kenaikan pangkat kepada ahli persatuan Barisan Pemuda Sabah (BARIP)

Apakah kesan tindakan British terhadap persatuan tersebut?

ms 116

- A Membangkitkan kesedaran berpolitik rakyat
- B Memberi peluang menyertai pentadbiran
- C Mengurangkan pemimpin berkebolehan
- D Melemahkan pentadbiran negeri

- 35 Jadual berikut berkaitan dengan tindakan British terhadap sebuah persatuan di Sabah.

Persatuan	Pemimpin	Tindakan
Pemimpin Parti Kebangsaan Melayu Labuan (PKML)	Tengku Nordin	Ditawarkan bekerja di Treasury, Jesselton
	Zakaria Gunn	Ditukarkan ke Jesselton
	Apong Kerahu	Ditukarkan dari Tawau ke Sandakan

Mengapakah British bertindak sedemikian?

ms 116

- A Melumpuhkan gerakan nasionalisme
- B Membangkitkan kesedaran berpolitik
- C Mengatasi masalah kekurangan pegawai
- D Mendapatkan sokongan pembesar tempatan

36 Mengapakah penyerahan Sabah kepada British kurang mendapat penentangan daripada rakyat tempatan?

ms 116

- A Kemiskinan dalam kalangan rakyat
- B Penduduk ditawarkan kenaikan pangkat
- C Pentadbiran melibatkan penduduk tempatan
- D Kepelbagaian etnik menyukarkan perpaduan

37 Apakah sumbangan tokoh berikut kepada kegiatan berpersatuan di Sabah?

ms 116



Imam Suhaili Yaakub

- A Melahirkan pemimpin berkebolehan
- B Membangkitkan kesedaran berpolitik
- C Mengatasi masalah kewangan pertubuhan
- D Memperbaiki tahap pendidikan rakyat tempatan

38 Dasar berikut diperkenalkan British di Sabah selepas Perang Dunia Kedua.

Mengehadkan peluang dalam pentadbiran

Apakah kesan dasar tersebut kepada penduduk tempatan?

ms 117

- A Mengurangkan pengalaman mentadbir
- B Melumpuhkan penentangan masyarakat
- C Membuka peluang berkerajaan sendiri
- D Melambatkan pembangunan negeri

39 Terdapat rakyat tempatan yang menyokong penyerahan Sabah kepada kerajaan British. Mengapakah perkara tersebut berlaku?

ms 117

- I Mengatasi ancaman komunis
- II Memajukan bidang perniagaan
- III Meluaskan jaringan perdagangan
- IV Mengurangkan kuasa pembesar

- A I dan II
- B I dan IV
- C II dan III
- D III dan IV

40 Jadual berikut berkaitan dengan tindakan British terhadap negara kita.

Tahun	Tindakan
1 April 1946	Penubuhan Malayan Union
24 Jun 1946	Penyerahan Sabah kepada British
1 Julai 1946	Penyerahan Sarawak kepada British

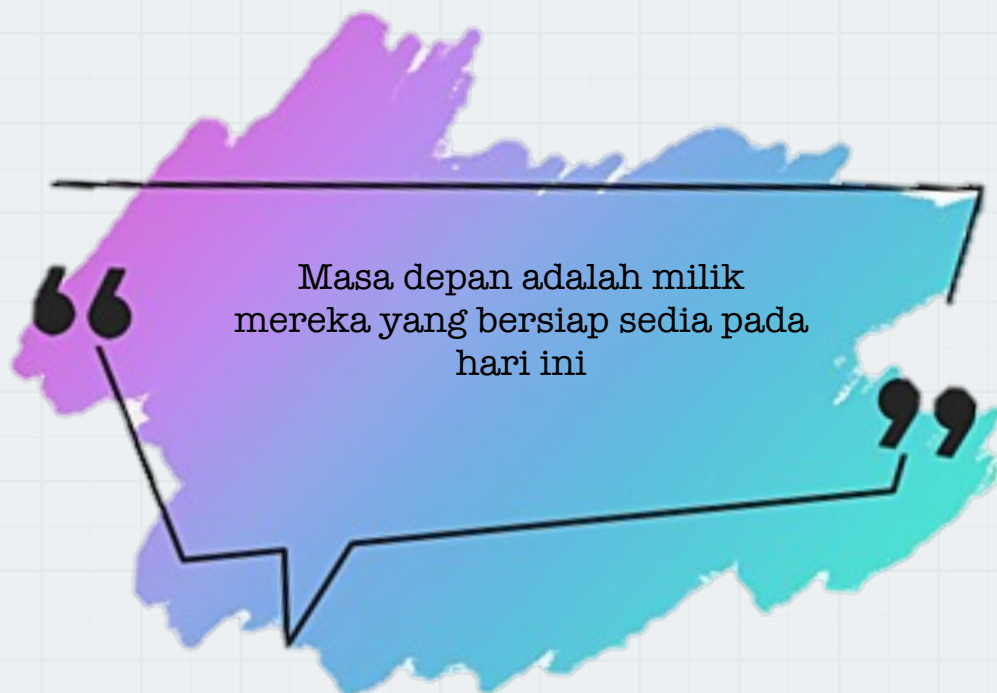
Apakah kesan tindakan tersebut kepada masyarakat tempatan?

ms 117

- A Terhapusnya sistem pemerintahan beraja
- B Terhakisnya kuasa pembesar tempatan
- C Memonopoli sumber kekayaan negara
- D Kebangkitan semangat nasionalisme

**PERATURAN PEMARKAHAN  
BAB 4**

NO. SOALAN	KUNCI	MUKA SURAT	NO. SOALAN	KUNCI	MUKA SURAT
1	A	94	21	A	107
2	B	94	22	A	107
3	C	94	23	B	108
4	C	94	24	B	109
5	C	94	25	D	110
6	B	96	26	C	111
7	A	96	27	C	112
8	C	97	28	B	114
9	A	97	29	A	114
10	B	97	30	A	114
11	D	99	31	B	116
12	C	100	32	D	116
13	C	101	33	A	116
14	D	101	34	C	116
15	A	102	35	A	116
16	D	103	36	D	116
17	B	105	37	B	116
18	D	105	38	A	117
19	D	102-106	39	C	117
20	A	107	40	D	117



**BAB 5  
PERSEKUTUAN TANAH MELAYU 1948**

- 1 Apakah tujuan penubuhan Jawatankuasa Kerja pada 25 Julai 1946? ms 126
- A Mencadangkan Perlembagaan Rakyat
  - B Menentang penubuhan Malayan Union
  - C Menuntut kemerdekaan bagi Tanah Melayu
  - D Merangka Perjanjian Persekutuan Tanah Melayu
- 2 Siapakah yang menganggotai Jawatankuasa Kerja? ms 126
- I Ahmad Boestaman
  - II Dr. Burhanuddin al - Helmi
  - III Dato' Hamzah Abdullah
  - IV Dato' Abdul Rahman Mohd Yassin
- A I dan II
  - B I dan IV
  - C II dan III
  - D III dan IV
- 3 Apakah maksud Persekutuan? ms 126
- I Penyatuan beberapa buah negeri
  - II Pembentukan kerajaan pusat dan negeri
  - III Pengenalan konsep Raja Berperlembagaan
  - IV Pengamalan sistem Demokrasi Berparlimen
- A I dan II
  - B I dan IV
  - C II dan III
  - D III dan IV
- 4 Jawatankuasa Kerja telah ditubuhkan pada 25 Julai 1946 bagi membincangkan asas Perjanjian Persekutuan Tanah Melayu 1948.
- Apakah cadangan yang dikemukakan oleh jawatankuasa tersebut? ms 127
- A Menetapkan hari cuti negeri
  - B Membentuk Majlis Eksekutif
  - C Mengetatkan syarat kewarganegaraan
  - D Melantik Gabenor mengetuai pentadbiran

5 Apakah persamaan tugas pemimpin UMNO berikut?

ms 127

- Dato' Onn Jaafar
- Haji Megat Yunus
- Dato' Abdul Rahman Mohd Yassin

- A Menghalang sistem pentadbiran British
- B Membentuk gabungan persatuan Melayu
- C Menubuhkan Majlis Perundangan Persekutuan
- D Merangka Perjanjian Persekutuan Tanah Melayu

6 Bagaimanakah golongan nasionalis Melayu radikal menentang penubuhan Jawatankuasa Kerja?

ms 128

- A Menubuhkan All Malaya Council of Joint Action
- B Membentuk Pusat Tenaga Rakyat
- C Mengemukakan surat bantahan
- D Melakukan demonstrasi aman

7 Senarai berikut adalah pertubuhan bukan Melayu yang ditubuhkan selepas Perang Dunia Kedua di Tanah Melayu.

- Malayan Democratic Union (MDU)
- Malayan Indian Congress (MIC)
- Pan-Malayan Federation of Trade Union (PMFTU)

Apakah persamaan perjuangan pertubuhan tersebut?

ms 128

- A Menolak perjanjian persekutuan
- B Memperjuangkan kemerdekaan
- C Mempertahankan bahasa ibunda
- D Menuntut hak kebebasan bersuara

8 Mengapakah gabungan PUTERA-AMCJA menentang Jawatankuasa Kerja?

ms 128

- I Dituduh berkompromi dengan British
- II Dianggotai oleh parti berhaluan kiri
- III Ditolak oleh Raja-raja Melayu
- IV Dianggap bersifat perkauman

- A I dan II
- B I dan IV
- C II dan III
- D III dan IV

9 Maklumat berikut berkaitan pertubuhan yang bergabung menentang Jawatankuasa Kerja.

- Gerakan Angkatan Muda (GERAM)
- Angkatan Wanita Sedar (AWAS)
- Barisan Tani Malaya (BATAS)

Mengapakah pertubuhan tersebut bertindak demikian?

ms 128

- A Tidak diwakili semua pihak
- B Memperjuangkan kemerdekaan
- C Menuntut hak kebebasan bersuara
- D Penolakan terhadap Perlembagaan Rakyat

10 Apakah matlamat perjuangan golongan nasionalis Melayu radikal?

ms 129

- I Bebas daripada penjajahan
- II Berkompromi dengan British
- III Penubuhan kesatuan Melayu
- IV Penyatuan seluruh Tanah Melayu

- A I dan II
- B I dan IV
- C II dan III
- D III dan IV

11 Bagaimanakah golongan nasionalis Melayu radikal membuka minda rakyat ke arah proses kemerdekaan?

ms 129

- A Menerbitkan akhbar
- B Menawarkan hadiah
- C Mengadakan lawatan
- D Menubuhkan persatuan

12

Cadangan PUTERA-AMCJA telah digabungkan menjadi Perlembagaan Rakyat.

Apakah persamaan cadangan yang dikemukakan oleh kedua - dua pertubuhan tersebut?

ms 130

- A Syarat kewarganegaraan
- B Kerajaan pusat yang kuat
- C Kedudukan Bahasa Melayu
- D Adat istiadat dan agama Islam

13 Apakah cadangan yang dikemukakan oleh Perlembagaan Rakyat berkaitan isu kerakyatan?

ms 130

- A Sama rata
- B Pendaftaran
- C Permohonan
- D Kuat kuasa undang - undang

14 Apakah warna bendera yang dicadangkan oleh PUTERA-AMCJA dalam Perlembagaan Rakyat?

ms 130

- I Biru
- II Putih
- III Merah
- IV Kuning
  
- A I dan II
- B I dan IV
- C II dan III
- D III dan IV

15 Keratan akhbar berikut berkaitan penganjuran hartal yang dilakukan oleh AMCJA-PUTERA terhadap British.



Bagaimanakah hartal dilaksanakan?

ms 131

- A Menutup kedai
- B Melilit kain putih
- C Menghantar telegram
- D Menulis surat bantahan

16 Maklumat berikut berkaitan dengan tindakan PUTERA-AMCJA terhadap British.

<b>Tarikh</b>	20 September 1947
<b>Peristiwa</b>	Penganjuran hartal

Mengapakah peristiwa tersebut berlaku?

ms 131

- A Pelaksanaan Malayan Union
- B Pelantikan Gabenor Jeneral British
- C Perbalahan masyarakat pelbagai kaum
- D Penolakan terhadap Perlembagaan Rakyat

17 Tokoh berikut telah mengemukakan laporan kepada Dewan Parlimen British berkaitan bantahan orang Melayu terhadap Malayan Union.

- |   |
|---|
| <ul style="list-style-type: none"> <li>• Rees Williams</li> <li>• L.D. Gammans</li> </ul> |
|---|

Apakah pandangan mereka sekiranya Malayan Union dilaksanakan?

ms 132

- A Melicinkan pentadbiran
- B Mencetuskan huru-hara
- C Meningkatkan pelaburan
- D Mengembalikan kuasa raja

18 Mengapakah pertemuan berikut diadakan?

ms 132

<b>Tarikh</b>	27 Mei 1946
<b>Tempat</b>	Kuala Kangsar
<b>Pihak Terlibat</b>	Malcolm MacDonald (Gabenor British) Sir Edward Gent (Gabenor Malayan Union) Raja-raja Melayu

- A Membentuk sistem politik yang stabil
- B Menggubal perlembagaan Tanah Melayu
- C Melaksanakan penubuhan kerajaan Pusat
- D Mengatasi konflik terhadap Malayan Union

19 British menyokong pembentukan Persekutuan Tanah Melayu kerana dasar dekolonisasi. Apakah kebaikan dasar tersebut terhadap negara?

ms 133

- A Pembentukan masyarakat berbilang kaum
- B Berpeluang menubuhkan kerajaan sendiri
- C Menyeragamkan sistem pentadbiran
- D Meningkatkan kerjasama ekonomi

20 Apakah matlamat penggubalan Piagam Atlantik pada bulan Ogos 1941?

ms 133

- A Mewujudkan kerjasama pertahanan
- B Melaksanakan genjatan senjata
- C Memantapkan ekonomi negara
- D Menghalang peluasan wilayah

21 Maklumat berikut berkaitan pihak yang terlibat dalam menandatangani Perjanjian Persekutuan Tanah Melayu 1948.

ms 133

<b>Wakil Tanah Melayu</b>	<b>Wakil British</b>
Raja-raja Melayu	X

Siapakah X?

- A Ralph Hone
- B Edward Gent
- C A.T Newbould
- D Malcolm MacDonald

- 22 Apakah bidang kuasa sultan di peringkat negeri berdasarkan Perjanjian Persekutuan Tanah Melayu 1948? ms 134
- A Mengesahkan undang-undang
  - B Memeriksa aturan perlembagaan
  - C Menangguhkan hukuman pesalah
  - D Membuat pengisytiharan darurat
- 23 Apakah perkara yang terkandung dalam Perjanjian Persekutuan Tanah Melayu 1948? ms 134-135
- I Pentadbiran
  - II Pertahanan
  - III Kebajikan sosial
  - IV Kewarganegaraan
- A I dan II
  - B I dan IV
  - C II dan III
  - D III dan IV
- 24 Siapakah yang mengetuai kerajaan Persekutuan Tanah Melayu 1948? ms 134
- A Gabenor
  - B Gabenor Jeneral
  - C Pesuruhjaya Negeri
  - D Pesuruhjaya Tinggi
- 25 Apakah gabungan negeri yang membentuk kerajaan Persekutuan Tanah Melayu? ms 134
- I Melaka dan Pulau Pinang
  - II Semua Negeri-negeri Melayu
  - III Semua Negeri-Negeri Selat
  - IV Negeri-Negeri Melayu Tidak Bersekutu
- A I dan II
  - B I dan IV
  - C II dan III
  - D III dan IV
- 26 Apakah bidang kuasa Majlis Perundangan Persekutuan? ms 134
- I Pelajaran
  - II Komunikasi
  - III Ketenteraman awam
  - IV Perkhidmatan tempatan
- A I dan II
  - B I dan IV
  - C II dan III
  - D III dan IV

- 27 Rang undang-undang yang dikemukakan dalam Majlis Perundangan Persekutuan perlu mendapat perkenan Raja-raja Melayu melalui
- ms 134
- A Majlis Raja-raja
  - B Majlis Eksekutif
  - C Jawatankuasa Kerja
  - D Dewan Undangan Negeri

- 28 Apakah badan yang ditubuhkan bagi membantu Pesuruhjaya Tinggi British menjalankan pentadbiran kerajaan?
- ms 134
- I Majlis Perundangan Persekutuan
  - II Majlis Mesyuarat Persekutuan
  - III Majlis Mesyuarat Kerajaan
  - IV Majlis Negeri

- A I dan II
- B I dan IV
- C II dan III
- D III dan IV

- 29 Maklumat berikut berkaitan Majlis Mesyuarat Persekutuan pada tahun 1948.

<b>Majlis Mesyuarat Persekutuan</b>	
Ahli Rasmi	Ahli Tidak Rasmi

Siapakah yang melantik ahli tidak rasmi?

ms 134

- A Majlis Raja-raja
- B Pegawai Kanan UMNO
- C Pesuruhjaya Tinggi British
- D Majlis Perundangan Persekutuan

- 30 Apakah syarat untuk memohon kewarganegaraan secara pendaftaran?

ms 135

- I Memahami adat resam
- II Bertutur bahasa setempat
- III Mempunyai tingkah laku yang baik
- IV Dilahirkan dalam Persekutuan Tanah Melayu

- A I dan II
- B I dan IV
- C II dan III
- D III dan IV

31 Apakah ciri-ciri kewarganegaraan secara kuat kuasa undang-undang?

ms 135

- I Bersetuju taat setia kepada Persekutuan Tanah Melayu
  - II Rakyat Raja dan mereka yang telah serasi
  - III Ayahnya rakyat Raja dan rakyat British
  - IV Tidak mempunyai rekod jenayah
- A I dan II
  - B I dan IV
  - C II dan III
  - D III dan IV

32 Apakah yang dimaksudkan dengan rakyat Raja?

ms 135

- I Tinggal di negeri Melayu yang mempunyai sultan
  - II Orang Melayu yang lahir di negeri Melayu
  - III Mempunyai tingkah laku yang baik
  - IV Bersetuju taat setia kepada Persekutuan Tanah Melayu
- A I dan II
  - B I dan IV
  - C II dan III
  - D III dan IV

33 Apakah yang dimaksudkan dengan rakyat British?

ms 135

- I Menguasai bahasa Inggeris
  - II Lahir di Melaka dan Pulau Pinang
  - III Lahir di mana-mana tanah jajahan British
  - IV Taat setia kepada Persekutuan Tanah Melayu
- A I dan II
  - B I dan IV
  - C II dan III
  - D III dan IV

34 Jadual berikut merujuk kepada perubahan pentadbiran di Tanah Melayu selepas Perang Dunia Kedua.

Malayan Union	PTM 1948
Tanah Jajahan	X

Apakah X?

ms 96 & 126

- A Taklukan
- B Naungan
- C Kurniaan
- D Pegangan

35 Maklumat berikut berkaitan kerakyatan Persekutuan Tanah Melayu 1948.

John Lee lahir di Pulau Pinang sebelum tahun 1948.  
Beliau berhasrat untuk menetap di Melaka.

Apakah status kerakyatan beliau?

ms 135

- A Rakyat British
- B Rakyat Raja Melayu
- C Rakyat Negeri-Negeri Selat
- D Rakyat Negeri Naungan British

36 Mengapakah orang Melayu menerima Perjanjian Persekutuan Tanah Melayu 1948?

ms 136

- A Parti politik digabungkan
- B Berkuasa mengawal pentadbiran
- C Syarat kewarganegaraan dipermudahkan
- D Kedudukan istimewa orang Melayu dilindungi

37 Bagaimanakah Persekutuan Tanah Melayu 1948 memelihara kedudukan orang Melayu?

ms 136

- A Menguasai bidang pentadbiran
- B Mengiktiraf kedudukan penduduk asal
- C Mengetuai Majlis Mesyuarat Persekutuan
- D Menentukan bidang kuasa Kerajaan Negeri

38 Bagaimanakah Persekutuan Tanah Melayu 1948 mengiktiraf kedudukan orang bukan Melayu?

ms 136

- A Mendapat hak sebagai warganegara
- B Diiktiraf sebagai penduduk asal
- C Menguasai bidang ekonomi
- D Diberi hak untuk mengundi

39 Apakah kesan penubuhan Jawatankuasa Hubungan Antara Kaum atau Communities Liaison Committee (CLC) kepada negara kita?

ms 137

- A Memperkukuh pertahanan negeri
- B Memberi latihan dalam pentadbiran
- C Mengembalikan status Raja-raja Melayu
- D Memupuk persefahaman antara pemimpin

40 Mengapakah Perjanjian Persekutuan Tanah Melayu 1948 berjaya ditubuhkan?

ms 137

- A Sikap agresif Raja-raja Melayu
- B Tindakan radikal orang Melayu
- C Tolak ansur antara kaum
- D Sokongan negara luar

**PERATURAN PEMARKAHAN  
BAB 5**

NO. SOALAN	KUNCI	MUKA SURAT	NO. SOALAN	KUNCI	MUKA SURAT
1	D	126	21	B	133
2	D	126	22	A	134
3	A	126	23	B	134-135
4	C	127	24	D	134
5	D	127	25	A	134
6	A	128	26	C	134
7	A	128	27	A	134
8	B	128	28	A	134
9	A	128	29	C	134
10	B	129	30	C	135
11	A	129	31	C	135
12	A	130	32	A	135
13	A	130	33	C	135
14	C	130	34	B	96&126
15	A	131	35	A	135
16	D	131	36	D	136
17	C	132	37	B	136
18	D	132	38	A	136
19	B	133	39	D	137
20	D	133	40	C	137

“  
 Jangan menunda sesuatu  
 pekerjaan sehingga esok  
 sekiranya MAMPU disiapkan  
 hari ini  
 ”

## BAB 6

## ANCAMAN KOMUNIS DAN PENGISTIHARAN DARURAT

- 1 Maklumat berikut merupakan usaha menyebarkan pengaruh komunis melalui penulisan.

ms 146

Das Kapital

Siapakah penulis buku tersebut?

- A Karl Marx  
B Adolf Hitler  
C Arthur Walker  
D Benito Mussolini
- 2 Apakah negara yang terlibat dalam menyebarkan ideologi komunis di Tanah Melayu?  
ms 146
- A Laos  
B Filipina  
C Myanmar  
D Indonesia
- 3 Kegagalan Parti Komunis Nanyang (PKN) memberi kesan kepada perkembangan ideologi komunis di Tanah Melayu.  
Apakah kesan tersebut?  
ms 146
- A Penubuhan Barisan Rakyat  
B Penubuhan Parti Komunis China (PKC)  
C Penubuhan Parti Komunis Malaya (PKM)  
D Penubuhan Bintang Tiga
- 4 Senarai berikut merupakan pemimpin komunis dari Indonesia yang menyebarkan fahaman komunis di Tanah Melayu.

ms 146

- Tan Malaka
- Alimin
- Moeso

Mengapakah pemimpin tersebut bertindak sedemikian?

- A Keinginan menguasai Kepulauan Borneo  
B Perluasan pengaruh Parti Komunis China  
C Kegagalan menguasai Pulau Jawa  
D Penubuhan Parti Kuomintang

- 5 Apakah faktor fahaman komunis tidak mendapat sambutan dikalangan orang Melayu?  
ms 146
- Menjatuhkan nilai mata wang
  - Mengutamakan kaum imigran
  - Mengancam pendidikan negara
  - Menggunakan pendekatan kekerasan
- 6 Bagaimanakah Parti Komunis Malaya (PKM) bergerak di Tanah Melayu selepas ditubuhkan secara rasmi pada 30 April 1930?  
ms 147
- Kesatuan Melayu Muda
  - Penerbitan akhbar
  - Kesatuan sekerja
  - Penubuhan sekolah Tamil
- I dan II
  - I dan IV
  - II dan III
  - III dan IV
- 7 Bagaimanakah kedudukan Parti Komunis Malaya (PKM) selepas *British Military Administration* (BMA) mengambil alih pentadbiran di Tanah Melayu?  
ms 147
- Menukar strategi perjuangan
  - Menjadi pertubuhan yang sah
  - Mengubah corak kepimpinan
  - Membentuk kerjasama kaum
- 8 Ordinan berikut telah dilaksanakan oleh British di Tanah Melayu.  
ms 147

Trade Union Ordinance No.9 of 1948

Apakah kesan pelaksanaan ordinan tersebut?

- Pembubaran semua kesatuan sekerja
  - Pengaruh Parti Komunis Malaya disekat
  - Pengharaman Kesatuan Melayu Muda
  - Penerbitan akhbar dimansuhkan
- 9 Jadual berikut berkaitan aktiviti Gerakan Komunis Antarabangsa selepas Perang Dunia Kedua.  
ms 148

Tahun	Peristiwa
Februari 1948	Kongres Belia Asia
Mac 1948	Persidangan Parti Komunis India

Apakah tindakan Parti Komunis Malaya selepas persidangan tersebut?

- Melaksanakan dasar dekolonisasi
- Melancarkan perjuangan bersenjata
- Menjalankan kerjasama dengan barat
- Menjadi sebuah parti politik yang sah

- 10 Maklumat berikut adalah hasil keputusan dalam Jawatankuasa Eksekutif Pusat Parti Komunis Melaya.

ms 148

Menubuhkan Republik Komunis di Tanah Melayu

Bagaimanakah usaha tersebut dapat direalisasikan?

- I Melumpuhkan ekonomi negara
- II Mengancam keselamatan rakyat
- III Menjalinkan kerjasama dengan British
- IV Menubuhkan Bintang Tiga

- A I dan II
- B I dan IV
- C II dan III
- D III dan IV

- 11 Apakah faktor yang menyebabkan darurat diisytiharkan oleh Sir Edward Gent pada bulan Jun 1948?

ms 148

- A Pengawasan ke atas kawasan lombong
- B Pengeboman landasan keretapi
- C Pembunuhan pengurus ladang
- D Pertempuran di balai polis

- 12 Mengapakah lombong bijih timah dan ladang getah menjadi sasaran utama serangan komunis?

ms 149

- A Mengawal tenaga buruh
- B Menimbulkan ketegangan kaum
- C Melambatkan kemerdekaan
- D Melumpuhkan ekonomi

- 13 Senarai berikut merupakan tindakan komunis di seluruh Tanah Melayu.

ms 149

- Melumpuhkan ekonomi
- Merosakkan infrastruktur
- Mengancam pasukan keselamatan

Apakah tujuan tindakan tersebut?

- A Melindungi kepentingan politik
- B Mempertahankan ideologi
- C Menamatkan penjajahan
- D Mencetuskan huru-hara

- 14 Gambar berikut menunjukkan tindakan komunis sejak pelaksanaan Undang-undang Darurat.

ms 149



Apakah kesan situasi tersebut ke atas ekonomi di Tanah Melayu?

- A Menjejaskan kehidupan harian penduduk
  - B Mengancam nyawa pasukan keselamatan
  - C Mencetuskan huru-hara dalam pentadbiran
  - D Menghalang kemasukan imigran luar
- 15 Jadual berikut berkaitan statistik anggota keselamatan yang mempertahankan negara pada zaman darurat.

ms 150

Pasukan	Terkorban	Tercedera	Jumlah
Polis	513	701	1214
Tentera	519	959	1478

Keadaan ini menunjukkan bahawa

- A Kebolehan dalam serangan hendap
  - B Kekuatan peralatan senjata yang dimiliki
  - C Kelemahan penguatkuasaan undang-undang
  - D Ketidakupayaan kerajaan melindungi penduduk
- 16 Penguatkuasaan Undang-Undang Darurat bertujuan untuk menangani ancaman komunis di negara kita  
Antara berikut, manakah yang berkaitan dengan undang-undang tersebut?

ms 152

- I Menubuhkan Min Yuen
  - II Memagar kawasan kampung
  - III Menahan individu yang disyaki tanpa bicara
  - IV Menubuhkan pasukan polis simpanan
- A I dan II
  - B I dan IV
  - C II dan III
  - D III dan IV

- 17 Gambar berikut menunjukkan anggota Cawangan Khas yang sedang merancang strategi untuk memerangi komunis.

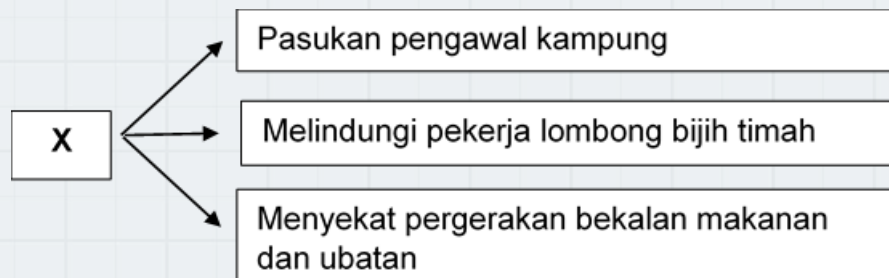
ms 153



Apakah kaedah yang digunakan untuk menjayakan operasi tersebut?

- A Risikan  
B Rundingan  
C Membina kubu  
D Serangan gerila
- 18 Rajah berikut berkaitan pasukan keselamatan sukarelawan yang ditubuhkan untuk membanteras kegiatan komunis di Tanah Melayu

ms 155



Apakah X?

- A Senoi Praaq  
B Home Guard  
C Auxiliary Police  
D Special Constables
- 19 Maklumat berikut berkaitan dengan pasukan yang terlibat dalam memerangi ancaman komunis di negara kita.

ms 155

- Mahir dalam selok belok hutan
- Cogan kata ialah Agi Idup Agi Ngelaban

Apakah kaum yang mendominasi pasukan tersebut?

- A Iban  
B Bidayuh  
C Melanau  
D Kadazan

- 20 Bagaimanakah kerajaan memudahkan pihak keselamatan untuk membezakan orang awam dengan komunis di bawah Undang-undang Darurat?  
ms 156
- I Penggunaan kad pengenalan
  - II Perlaksanaan sistem pendaftaran kebangsaan
  - III Penguatkuasaan perintah berkurung
  - IV Pembinaan Kampung Baru
- A I dan II
  - B I dan IV
  - C II dan III
  - D III dan IV
- 21 Apakah tujuan Rancangan Briggs yang dilaksanakan di Tanah Melayu pada tahun 1950?  
ms 157
- A Mengkukuhkan kuasa politik
  - B Mengekang pergerakan komunis
  - C Melicinkan pentadbiran negara
  - D Menaik taraf hidup rakyat
- 22 Apakah tindakan yang dilakukan oleh Min Yuen untuk mempertahankan pengaruh PKM?  
ms 157
- I Memberikan wang tunai
  - II Menjalankan peras ugut
  - III Mencetuskan situasi huru-hara
  - IV Menyediakan kemudahan kesihatan
- A I dan II
  - B I dan IV
  - C II dan III
  - D III dan IV
- 23 Pada 6 September 1949, Sir Henry Gurney mengisytiharkan pengampunan kepada komunis.  
Apakah saluran yang digunakan untuk menyebarkan maklumat tersebut?  
ms 158
- I Kesatuan
  - II Penerbitan akhbar
  - III Radio Malaya
  - IV Poster
- A I dan II
  - B I dan IV
  - C II dan III
  - D III dan IV

- 24 Gambar berikut menunjukkan perarakan sempena Kempen Bulan Rakyat Melawan Penjahat tahun 1949.

ms 158



Apakah kejayaan kempen tersebut?

ms 158

- A Pelaksanaan pengagihan kuasa
  - B Peningkatan semangat bekerjasama
  - C Pengisytiharkan gencatan senjata
  - D Penyediaan kemudahan asas
- 25 Pada bulan Jun 1951, penduduk di Kawasan Labis, Johor dikenakan perintah berkurung. Mengapakah arahan tersebut perlu dipatuhi?

ms 158

- A Menyekat rusuhan kaum
  - B Mengurangkan wabak penyakit berjangkit
  - C Menjayakan operasi memburu komunis
  - D Melaksana program catuan makanan
- 26 Maklumat berikut merupakan rancangan British yang dilaksanakan di Tanah Melayu pada tahun 1950-an.

ms 159

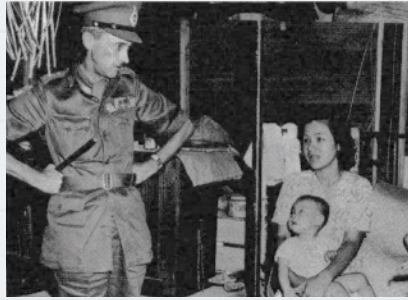
Usaha memenangi hati dan fikiran penduduk

Apakah kesan pelaksanaan rancangan tersebut?

- A Kestabilan ekonomi diwujudkan
- B Taraf hidup rakyat dipertingkat
- C Penubuhan pelbagai parti politik
- D Kerjasama menentang komunis

- 27 Gambar berikut menunjukkan pelaksanaan Perang Saraf oleh Sir Gerald Templer di Tanah Melayu.

ms 159



Apakah strategi yang dilakukan?

- I Melonggarkan syarat kewarganegaraan
  - II Menawarkan hadiah wang tunai
  - III Memperkenalkan kad pengenalan
  - IV Mengisytiharkan pengampunan
- A I dan II
  - B I dan IV
  - C II dan III
  - D III dan IV
- 28 Jadual berikut menunjukkan jumlah yang layak menjadi warganegara di Tanah Melayu.

ms 159

Tarikh	14 September 1952
Orang Cina	1.2 juta
Orang India	180 ribu

Mengapakah situasi tersebut berlaku?

- A Pelaksanaan Pilihan Raya
  - B Kejayaan Rancangan Briggs
  - C Pemberian hadiah wang tunai
  - D Kelonggaran syarat kewarganegaraan
- 29 Maklumat berikut merupakan pilihan raya tempatan pertama yang di adakan di Tanah Melayu pada Februari 1952.

ms 159

Pilihan Raya Majlis Perbandaran Kuala Lumpur

Apakah matlamat pilihan raya tersebut?

- A Mewujudkan semangat setia kawan
- B Melatih penduduk dalam pentadbiran
- C Menggubal undang-undang peringkat negeri
- D Menggalakkan penyertaan orang bukan Melayu

- 30 Jabatan Penerangan dan Perkhidmatan Radio Malaya dijadikan medium untuk menimbulkan kesedaran kepada masyarakat di Tanah Melayu. Apakah tanggungjawab jabatan tersebut?

ms 160

- A Menyedarkan pemimpin radikal
- B Mempercepatkan proses kemerdekaan
- C Memudahkan kubu komunis dikesan
- D Menyebarkan risalah kerajaan

- 31 Apakah negeri yang termasuk dalam Kawasan Putih?

ms 160

<b>Kawasan Putih</b>
Kawasan yang diisytiharkan bebas ancaman komunis

- I Terengganu
  - II Pahang
  - III Johor
  - IV Kedah
- A I dan II
  - B I dan IV
  - C II dan III
  - D III dan IV

- 32 Gambar berikut berkaitan peristiwa Rundingan Baling pada 28 Disember 1955 di Kedah.

ms 160



Apakah isu yang membawa kepada kegagalan rundingan tersebut?

- A Perakuan sebagai parti yang sah
- B Pemimpin menganggotai kabinet
- C Penduduk mengadakan demonstrasi
- D Pembunuhan pegawai tinggi British

- 33 Pada tahun 1952 kerajaan telah melonggarkan syarat kewarganegaraan bagi menangani isu komunis.

Apakah nilai yang dapat dikaitkan dengan situasi tersebut?

KBAT

- A Kerjasama masyarakat pelbagai kaum
- B Perpaduan antara pemimpin tempatan
- C Kesepakatan membentuk sebuah kerajaan
- D Pengorbanan penduduk peribumi terhadap kaum lain

34 Bagaimanakah Malayan Chinese Association (MCA) membantu memerangi komunis di Tanah Melayu?

ms 161

- A Menjalankan kutipan derma
- B Menyertai pasukan keselamatan
- C Menyebarkan risalah pengampunan
- D Menurunkan harga bekalan makanan

35 Apakah peranan Jawatankuasa Hubungan Antara Kaum (CLC) yang ditubuhkan di Tanah Melayu pada tahun 1949?

ms 161

- A Mengukuhkan hala tuju negara
- B Meningkatkan kesedaran politik
- C Menstabilkan sosioekonomi negara
- D Menamatkan undang-undang darurat

36 Pada tahun 1948 hingga tahun 1960 kerajaan telah membelanjakan sebanyak \$250 ribu hingga \$300 ribu sehari untuk pertahanan negara. Mengapakah keadaan sedemikian berlaku?

ms 162

- A Menamatkan konfrontasi
- B Membendung rusuhan kaum
- C Membanteras ancaman komunis
- D Mengurangkan penderitaan rakyat

37 Semasa zaman darurat, pengeluaran tanaman padi dan makanan lain semakin berkurangan.

Apakah kesan situasi tersebut?

ms 162

- A Kenaikan harga barang
- B Kawalan barangan import
- C Kemasukan buruh asing dihadkan
- D Kemudahan pinjaman diperkenalkan

38 Apakah kesan pengisytiharan undang-undang darurat?

<b>Tahun</b>	1948 - 1960
<b>Peristiwa</b>	Darurat

ms 162

- I Meningkatkan jumlah kematian
- II Menambahkan bilangan pegawai British
- III Menggugat kedudukan orang Melayu
- IV Menjejaskan hubungan antara kaum

- A I dan II
- B I dan IV
- C II dan III
- D III dan IV

- 39 Petempatan baharu berikut dilancarkan oleh Sir Henry Gurney di Tanah Melayu pada tahun 1950.

ms 163

Kampung Baru
--------------

Apakah kesan pelaksanaan rancangan tersebut?

- A Mendatangkan ancaman kuasa luar
  - B Mengakibatkan keruntuhan ekonomi
  - C Merenggangkan hubungan antara kaum
  - D Menimbulkan perasaan curiga kepada kerajaan
- 40 Apakah nilai yang dapat dijadikan iktibar pada zaman darurat selama 12 tahun di negara kita?

KBAT

- A Bertanggungjawab
- B Berketerampilan
- C Berdaya saing
- D Berwawasan

**PERATURAN PEMARKAHAN  
BAB 6**

SOALAN	JAWAPAN	MUKA SURAT	SOALAN	JAWAPAN	MUKA SURAT
1	D	146	21	B	157
2	D	146	22	A	157
3	C	146	23	D	158
4	C	146	24	B	158
5	D	146	25	C	158
6	C	147	26	D	159
7	B	147	27	A	159
8	B	147	28	D	159
9	B	148	29	D	159
10	A	148	30	D	160
11	C	148	31	B	160
12	D	149	32	A	160
13	D	149	33	D	KBAT
14	A	149	34	A	161
15	D	150	35	B	161
16	C	152	36	C	162
17	A	153	37	A	162
18	B	155	38	B	162
19	A	155	39	C	163
20	A	156	40	A	KBAT

“ Bukalah jiwa kamu kepada  
perkara-perkara yang baik-  
baik sahaja ”

## BAB 7 USAHA KE ARAH KEMERDEKAAN

- 1 Maklumat berikut berkaitan perjuangan kesatuan di Tanah Melayu

ms 172

Tahun	Kesatuan
1938	Kesatuan Melayu Muda (KMM)
1945	Parti Kebangsaan Melayu Malaya (PKMM)

Apakah konsep perjuangan kesatuan tersebut?

- A Merdeka  
 B Melayu Raya  
 C Hidup Melayu  
 D Tanah Melayu Untuk Malayan
- 2 Apakah kesatuan yang meneruskan perjuangan Kesatuan Melayu Muda (KMM) selepas diharamkan pada tahun 1930-an?

ms 172

- A Pergerakan Pemuda Melayu (PPM)  
 B Independence of Malayan Party (IMP)  
 C United Malays National Organisation (UMNO)  
 D Kesatuan Rakyat Indonesia Semenanjung (KRIS)

- 3 Maklumat berikut merujuk kepada perjuangan Angkatan Pemuda Insaf (API).

ms 172

- Dasar ekonomi yang mengutamakan rakyat
  - Keadilan sosial
  - X

Apakah X?

- A Meneruskan pemerintahan demokrasi  
 B Memelihara hak istimewa orang Melayu  
 C Menyatukan penduduk pelbagai kaum  
 D Menubuhkan sebuah negara Islam
- 4 Pertubuhan manakah yang memperjuangkan kemerdekaan negara berdasarkan slogan berikut?

ms 172

Merdeka dengan darah

- A Hizbul Muslimin  
 B Kesatuan Melayu Muda  
 C Angkatan Pemuda Insaf (API)  
 D Parti Kebangsaan Melayu Malaya (PKMM)

5 Mengapakah rakyat Sarawak menentang penyerahan negeri tersebut kepada British pada tahun 1946?

ms 172

- I Penggunaan kekerasan untuk mendapatkan Sarawak
  - II Bertentangan dengan Perlembagaan 1941
  - III Berhasrat untuk berkerajaan sendiri
  - IV Penindasan terhadap aktiviti berpersatuan
- A I dan II
  - B I dan IV
  - C II dan III
  - D III dan IV

6 Apakah sumbangan tokoh berikut dalam kegiatan politik di Sarawak selepas Perang Dunia Kedua?

ms 172

Datu Patinggi Abang Haji Abdillah
-----------------------------------

- A Menyatukan masyarakat pelbagai kaum
- B Menubuhkan pakatan sulit menentang British
- C Mempertahankan aspek persamaan rumpun Melayu
- D Mempelopori gerakan menentang penyerahan negeri

7 Pergerakan Pemuda Melayu di Sibul rela berkorban untuk mendapatkan kemerdekaan penuh Sarawak.

ms 172

Apakah tindakan pergerakan tersebut?

- A Membunuh gabenor Sarawak
- B Menganjurkan tunjuk perasaan
- C Menghantar surat bantahan ke London
- D Meletak jawatan dalam perkhidmatan awam

8 Maklumat berikut merujuk kepada slogan yang digunakan UMNO sebelum merdeka.

ms 172

Slogan UMNO	
1946	Hidup Melayu
1951	Merdeka

Mengapakah berlaku perubahan slogan parti tersebut pada tahun 1951?

- A Memperjuangkan penubuhan negara republik
- B Membuktikan kebencian terhadap penjajah
- C Menggunakan kekerasan sekiranya terpaksa
- D Mendapatkan kemerdekaan melalui rundingan

- 9 Apakah matlamat perjuangan tokoh berikut dalam Parti Kebangsaan Melayu Labuan (PKML)?

ms 173

- Tengku Noordin
- Zakaria Gunn

- A Menyokong Malayan Union
- B Mewujudkan negara Islam
- C Mendapatkan kemerdekaan
- D Menjayakan konsep Melayu Raya

- 10 Maklumat berikut berkaitan situasi di Tanah Melayu selepas Perang Dunia Kedua.

ms 174

- Ketegangan hubungan antara kaum
- Kepentingan perpaduan untuk kestabilan politik, ekonomi dan sosial

Apakah kesan situasi tersebut?

- A Pengasingan petempatan penduduk
- B Penyusunan semula masyarakat
- C Penghantaran pulang imigran
- D Pelaksanaan darurat

- 11 Apakah objektif penubuhan Jawatankuasa Hubungan Antara Kaum (CLC)?

ms 174

- I Mewujudkan keadaan muhibah dalam kalangan penduduk
- II Mengkaji hubungan kaum secara mendalam
- III Melaksanakan pemerintahan demokrasi
- IV Mencadangkan undang-undang baharu

- A I dan II
- B I dan IV
- C II dan III
- D III dan IV

- 12 Rajah berikut menunjukkan Anggota Jawatankuasa Hubungan Antara Kaum (CLC). Siapakah X?

ms 175



- A Wakil orang Ceylon  
B Wakil British  
C Ahli lain  
D Ahli Perikatan
- 13 Apakah peranan Jawatankuasa Hubungan Antara Kaum (CLC) selepas Perang Dunia Kedua di Tanah Melayu.

ms 176

- A Menubuhkan jawatankuasa perunding kemerdekaan  
B Mewujudkan keharmonian dalam kalangan penduduk  
C Mengukuhkan pentadbiran negara  
D Menghapuskan ancaman komunis

- 14 Berikut ialah perkara yang dibincangkan oleh Jawatankuasa Hubungan Antara Kaum (CLC).

ms 176

- I Kedudukan ekonomi orang Melayu  
II Penyeragaman sistem pendidikan  
III Kedaulatan Raja-raja Melayu  
IV Syarat kerakyatan diperketatkan

- A I dan II  
B I dan IV  
C II dan III  
D III dan IV

- 15 Bagaimanakah Jawatankuasa Hubungan Antara Kaum (CLC) berperanan untuk merealisasikan matlamat berikut?

ms 177

Persediaan ke arah berkerajaan sendiri

- A Memberi latihan pentadbiran
- B Mewujudkan sistem pendidikan seragam
- C Mengukuhkan taat setia penduduk tempatan
- D Mencadangkan pilihanraya secara berperingkat

- 16 Maklumat berikut merujuk kepada pilihanraya yang telah dilaksanakan di negara kita sebelum merdeka.

ms 177

- Peringkat X
- Peringkat Majlis Negeri
- Peringkat Majlis Perundangan Persekutuan

Apakah X?

- A Bandaran
- B Jajahan
- C Daerah
- D Mukim

- 17 Mengapakah orang Melayu menuntut kedudukan istimewa mereka dipertahankan melalui Jawatankuasa Hubungan Antara Kaum (CLC)?

ms 176

- A Membentuk negara demokrasi
- B Merupakan penduduk asal
- C Memelihara budaya tempatan
- D Mengikut peruntukan perlembagaan

- 18 Apakah peranan Lembaga Pembangunan Industri Desa (RIDA yang ditubuhkan pada tahun 1950 kepada orang Melayu?

ms 177

- A Meningkatkan taraf pendidikan
- B Membuka kawasan tanah baharu
- C Memajukan penyelidikan pertanian
- D Menaiktaraf perkhidmatan kesihatan

- 19 Maklumat berikut berkaitan rundingan dalam Jawatankuasa Hubungan Antara Kaum (CLC) pada tahun 1949.

Dato' Onn Jaafar berpendapat bahawa bantuan ekonomi dan kemajuan luar bandar perlu sebagai tolak ansur terhadap orang Melayu.

Apakah tolak ansur tersebut?

ms 177

- A Kewangan
- B Perubatan
- C Pengangkutan
- D Kewarganegaraan

20 Kedudukan politik diberikan kepada kaum bukan Melayu melalui kerjasama dalam Jawatankuasa Hubungan Antara Kaum (CLC).

Apakah kesan situasi tersebut?

KBAT

- I Memupuk semangat patriotik
- II Menghadkan penubuhan parti politik
- III Mengawal penubuhan sekolah vernakular
- IV Melahirkan sikap bertanggungjawab kepada negara

- A I dan II
- B I dan IV
- C II dan III
- D III dan IV

21 Maklumat berikut berkaitan sistem pendidikan di Tanah Melayu sebelum merdeka.

- Sistem persekolahan yang berbeza
  - Penggunaan bahasa pengantar yang berbeza
  - Sukatan pelajaran yang berlainan

Apakah cadangan Jawatankuasa Hubungan Antara Kaum (CLC) terhadap perkara tersebut?

ms 177

- A Mewujudkan sistem pendidikan seragam
- B Mempertahankan sekolah pelbagai aliran
- C Menambahkan bilangan sekolah kebangsaan
- D Menggalakkan penubuhan institusi kemahiran

22 Selepas Perang Dunia Kedua, British menjalankan dasar dekolonisasi di Tanah Melayu.

Apakah maksud dekolonisasi?

ms 178

- A Langkah berkerajaan sendiri
- B Latihan dalam pentadbiran
- C Penyatuan tanah jajahan
- D Kecekapan pengurusan

23 Apakah kepentingan Sistem Ahli yang dilaksanakan di Tanah Melayu pada tahun 1951?

ms 178

- A Melatih penduduk tempatan dalam pentadbiran
- B Mewujudkan pendidikan bercorak tempatan
- C Melonggarkan syarat kewarganegaraan
- D Meningkatkan taraf hidup penduduk

- 24 Portfolio berikut kekal di bawah pentadbiran British semasa Sistem Ahli dilaksanakan di Tanah Melayu.

ms 178

- Hal Ehwal Ekonomi
- Perindustrian dan Perhubungan Sosial
- **X**

X ialah

- A Penyariran dan pencetakan
- B Pertanian dan Perhutanan
- C Perumahan dan Kerja Raya
- D Pendaftaran dan kerakyatan

- 25 Berikut adalah ciri-ciri Sistem Ahli

ms 179

- I Diletakkan di bawah Pesuruhjaya Tinggi
- II Menjaga portfolio sesebuah jabatan
- III Menyediakan peruntukan kewangan
- IV Dipilih oleh tokoh masyarakat

- A I dan II
- B I dan IV
- C II dan III
- D III dan IV

- 26 Apakah tanggungjawab anggota Sistem Ahli?

ms 179

- A Melonggarkan syarat kewarganegaraan
- B Melaksanakan pilihan raya dengan sistematik
- C Memastikan keadilan agihan kekayaan negara
- D Mencadangkan undang-undang berkaitan jabatan

- 27 Maklumat berikut berkaitan Sistem Ahli pada tahun 1951.

ms 179

Menteri Hal Ehwal Dalam Negeri
<ul style="list-style-type: none"> <li>• Menjaga hal ehwal imigran</li> <li>• Menjaga hal ehwal menunaikan haji</li> <li>• <b>X</b></li> </ul>







Apakah X?

- A Lesen kenderaan
- B Eksport bijih timah
- C Pendaftaran kerakyatan
- D Perbelanjaan kesihatan

28 Pilih padanan portfolio yang betul dalam Sistem Ahli pada tahun 1951.

ms 178

	Tokoh	Portfolio		Tokoh	Portfolio
A	 Dr Lee Tiang Keng	Ahli Tanah, Lombong dan Perhubungan	B	 Dato' Nik Ahmad Kamil	Ahli Hal Ehwal Dalam Negeri
C	 Dato Onn Jaafar	Ahli Pertanian dan Perhutanan	D	 Tun H.S.Lee	Ahli Pengangkutan

29 Mengapakah Sistem Ahli penting dalam usaha mencapai kemerdekaan Tanah Melayu?

ms 179

- A Memupuk perpaduan kaum
- B Meningkatkan pertahanan negara
- C Menyelaras perkembangan teknologi
- D Membentuk hubungan baik dengan negara jiran

30 Keanggotaan ahli dalam Sistem Ahli dilantik oleh

ms 179

- A Pesuruhjaya Tinggi British
- B Majlis Mesyuarat Kerajaan
- C Pegawai tadbir Tanah Melayu
- D Majlis Perundangan Persekutuan

31 Pihak manakah yang menganggotai kabinet bayangan dalam Sistem Ahli 1951?

ms 179

- I Tokoh masyarakat
- II Pegawai tadbir
- III Pemimpin parti
- IV Ketua peribumi

- A I dan II
- B I dan IV
- C II dan III
- D III dan IV

- 32 Bagaimanakah Sistem Ahli membantu proses berkerajaan sendiri di Tanah Melayu?  
ms 179
- A Memperkukuh kedudukan ekonomi tempatan
  - B Mempertingkatkan sistem pertahanan negara
  - C Memastikan perpaduan kaum tercapai
  - D Memperketat syarat kerakyatan
- 33 Apakah kesan sistem persekolahan vernakular yang dilaksanakan di Tanah Melayu sebelum Perang Dunia Kedua?  
ms 180
- A Kurikulum pendidikan seragam
  - B Parti politik berasaskan kaum
  - C Jurang perbezaan ekonomi
  - D Budaya tradisi terhakis
- 34 Manakah berkaitan dengan kandungan Laporan Barnes 1951?  
ms 180
- A Menambahbaik sekolah vernakular Cina
  - B Menumpukan taat setia kepada Tanah Melayu
  - C Menjadikan Bahasa Inggeris sebagai bahasa utama
  - D Memastikan semua penduduk mendapat pendidikan
- 35 Mengapakah Ordinan Pelajaran 1952 tidak dapat dilaksanakan di Tanah Melayu?  
ms 181
- A Kegagalan memenuhi aspirasi semua kaum
  - B Kelemahan kandungan kurikulum
  - C Kepadatan silibus mata pelajaran
  - D Kemudahan prasarana terhad
- 36 Apakah cadangan Laporan Woodhead yang diperkenalkan di Sarawak pada tahun 1955?  
ms 182
- A Mewujudkan sekolah aneka jurusan
  - B Menekankan penggunaan bahasa Inggeris
  - C Mengekalkan penggunaan bahasa ibunda
  - D Memperkenalkan Sejarah sebagai mata pelajaran wajib
- 37 Penyata Jawatankuasa Pelajaran 1956 telah mengemukakan usaha memupuk integrasi dan perpaduan sebagai teras sistem pendidikan kebangsaan.  
ms 183
- Bagaimanakah matlamat tersebut boleh dicapai?
- A Pemerksaan sekolah vernakular
  - B Penubuhan pusat pengajian tinggi
  - C Pengambilan guru dari luar negara
  - D Penggunaan kurikulum yang seragam
- 38 Pakatan PUTERA-AMCJA merintis kerjasama politik antara kaum di Tanah Melayu. Apakah bukti kesepakatan mereka?  
ms 186
- A Penubuhan Jawatankuasa Hubungan Antara Kaum
  - B Penghasilan manifesto Perlembagaan Rakyat
  - C Penggubalan Laporan Fenn-Wu
  - D Pembentukan Sistem Ahli

- 39 Maklumat berikut berkaitan kerjasama politik ke arah kemerdekaan pada tahun 1954.  
ms 187

Persidangan Kebangsaan

- Diketuai Dato' Panglima Bukit Gantang Wahab
- Membincangkan langkah membentuk gabungan parti politik kebangsaan Tanah Melayu

Apakah tuntutan persidangan tersebut?

- A Pilihanraya persekutuan dilaksanakan  
B Kemerdekaan negara disegerakan  
C Kewarganegaraan terbuka dipraktikkan  
D Penubuhan parti politik pelbagai kaum dibenarkan
- 40 Parti Perikatan yang ditubuhkan pada tahun 1954 menggunakan logo berikut sebagai lambang perjuangan mereka.



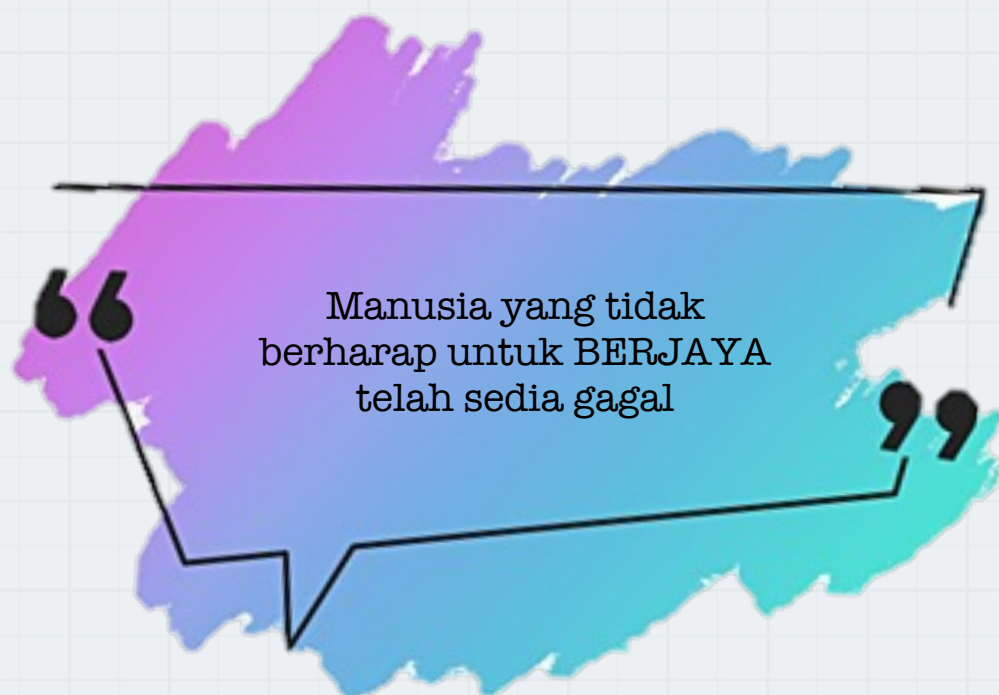
Mengapakah logo tersebut menjadi pilihan?

ms 187

- A Peranan masyarakat membantu perjuangan  
B Kepentingan kebersamaan dalam perjuangan  
C Penerokaan perjalanan jauh menuju destinasi  
D Kesiediaan menempuh cabaran demi kemerdekaan

**PERATURAN PEMARKAHAN  
BAB 7**

SOALAN	JAWAPAN	MUKA SURAT	SOALAN	JAWAPAN	MUKA SURAT
1	B	172	21	A	177
2	D	172	22	A	178
3	A	172	23	A	178
4	C	172	24	C	177
5	C	172	25	A	179
6	D	172	26	D	179
7	A	172	27	C	179
8	D	172	28	D	179
9	D	173	29	A	179
10	A	174	30	A	179
11	A	174	31	A	179
12	C	175	32	C	179
13	B	174	33	C	140
14	A	176-177	34	C	180
15	D	177	35	A	181
16	A	177	36	B	182
17	B	176	37	D	183
18	A	177	38	B	186
19	D	177	39	A	186
20	B	KBAT	40	D	187



**BAB 8**  
**PILIHAN RAYA**

- 1 Pelaksanaan pilihan raya di negara kita membuktikan pengamalan sistem ms 194
- A tirani  
B birokrasi  
C aristokasi  
D demokrasi

- 2 Apakah kepentingan pelaksanaan pilihan raya di sesebuah negara? ms 196
- A Meningkatkan taraf hidup rakyat  
B Mengekalkan raja berkuasa mutlak  
C Mengukuhkan hubungan diplomatik  
D Memberi peluang rakyat memilih wakil

- 3 Maklumat berikut berkaitan undang-undang yang terdapat di Tanah Melayu pada tahun 1950.

Ordinan Pilihan Raya Pihak Berkuasa Tempatan

Berdasarkan ordinan tersebut, apakah badan yang diberi kuasa untuk mengadakan pilihan raya? ms 196

- A Kerajaan Negeri  
B Majlis Tempatan  
C Kerajaan Persekutuan  
D Suruhanjaya Pilihanraya
- 4 Maklumat berikut berkaitan dengan pilihan raya pertama di negara kita.

**Pilihan raya Majlis Perbandaran**

Memilih Sembilan orang ahli Pesuruhjaya Perbandaran

Apakah kawasan pilihan raya tersebut? ms 197

- A Alor Setar  
B George Town  
C Kuala Lumpur  
D Johor Bahru
- 5 Apakah kepentingan pilihan raya Majlis Perbandaran Kuala Lumpur pada tahun 1952? ms 197
- A Memajukan ekonomi moden  
B Menjalankan sistem birokrasi Barat  
C Membentuk kerjasama antara kaum  
D Meneruskan pelaksanaan Sistem Ahli

6 Rajah berikut berkaitan dengan peringkat pilihan raya di negara kita sebelum merdeka.



Apakah X?

ms 197

- A Zon
- B Negeri
- C Daerah
- D Wilayah

7 Maklumat berikut berkaitan pilihan raya peringkat negeri pada tahun 1954.

Perikatan	Pencapaian
UMNO – MCA	Memenangi 226 daripada 268 kerusi yang dipertandingkan

Apakah kepentingan keputusan tersebut?

ms 197

- A Perubahan komposisi kaum
- B Peningkatan keselamatan penduduk
- C Pemantapan pentadbiran negara
- D Penerimaan kerjasama kaum

8 Apakah tujuan Pilihan Raya Umum pertama diadakan pada tahun 1955?

ms 198

- A Memilih Ketua Menteri
- B Merangka perlembagaan
- C Merintis jalan kemerdekaan
- D Menubuhkan Majlis Negeri

9 Jawatankuasa Pilihan Raya telah mengeluarkan dua bentuk penyata susunan Majlis Perundangan Persekutuan (MPP) iaitu bentuk A dan bentuk B.

Apakah persamaan penyata tersebut?

ms 198

- I Seorang speaker
- II Sebelas orang wakil negeri
- III Keahlian melalui pilihan raya
- IV Tempoh pilihan raya persekutuan

- A I dan II
- B I dan IV
- C II dan III
- D III dan IV

- 10 Senarai berikut merupakan tokoh yang telah mengadakan rombongan ke London pada 21 April 1954.

- Tunku Abdul Rahman
- Tan Cheng Lock
- T.H Tan
- Dato' Abdul Razak Hussein

Apakah tujuan rombongan tersebut?

ms 199

- A Menuntut diadakan pilihan raya umum  
B Menentukan bilangan anggota MPP  
C Mengesahkan calon Kabinet Pertama  
D Memohon kemerdekaan dipercepatkan
- 11 Rombongan Tunku Abdul Rahman bersama pemimpin Parti Perikatan berangkat ke London bagi menentukan bilangan keanggotaan dalam Majlis Perundangan Persekutuan (MPP).  
Bagaimanakah keanggotaan MPP tersebut ditentukan?

ms 199

- A Melalui pilhan raya umum  
B Pelantikan oleh kerajaan British  
C Persetujuan Majlis Raja-Raja Melayu  
D Menggunakan pungutan suara

- 12 Gambar berikut merujuk kepada Pesuruhjaya Tinggi British yang mentadbir Tanah Melayu.



Sir Donald MacGillivray

Apakah peranan beliau dalam Pilihan Raya Majlis Perundangan Persekutuan (MPP)1955?

ms 198

- A Memilih calon  
B Menentukan sempadan  
C Membuat pengisytiharan  
D Menjalankan pendaftaran

- 13 Gambar berikut merujuk kepada tokoh wanita yang memberi sumbangan dalam usaha merintis kemerdekaan negara.

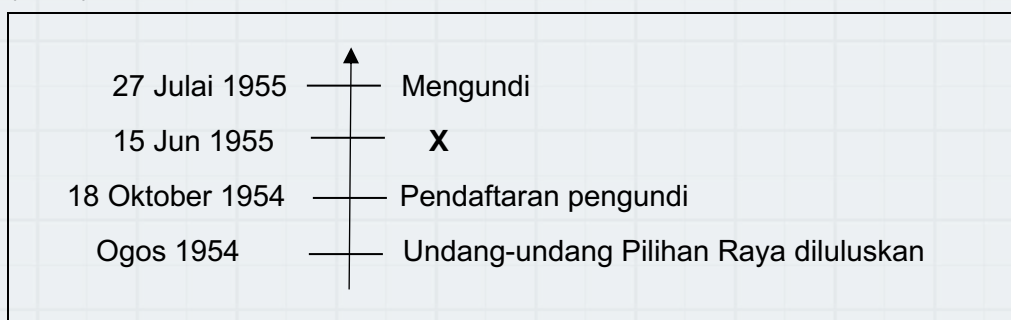


Datuk Siti Rahimah Kassim

Apakah nilai murni yang ditonjolkan oleh beliau?

KBAT

- A Keadilan  
 B Kejujuran  
 C Pengorbanan  
 D Persahabatan
- 14 Garis masa berikut merupakan proses Pilihan Raya Majlis Perundangan Persekutuan (MPP) 1955.



Apakah X?

ms 200-201

- A Penamaan calon  
 B Penetapan sempadan  
 C Pengumuman keputusan  
 D Pembahagian kawasan
- 15 Apakah syarat menjadi calon dalam Pilihan Raya Majlis Perundangan Persekutuan (MPP) 1955?

ms 200

- I Mendapat sokongan raja  
 II Berkhidmat dalam perkhidmatan awam  
 III Berpengetahuan dalam Bahasa Inggeris  
 IV Warganegara Persekutuan Tanah Melayu
- A I dan II  
 B I dan IV  
 C II dan III  
 D III dan IV

- 16 Berapakah kelayakan umur sebagai pengundi dalam Pilihan Raya Majlis Perundangan Persekutuan (MPP) 1955?
- ms 200
- A 18 tahun
  - B 20 tahun
  - C 21 tahun
  - D 23 tahun

- 17 Berapakah tempoh masa berkempen dalam pilihan raya 1955?
- ms 200
- A 40 hari
  - B 45 hari
  - C 50 hari
  - D 55 hari

- 18 Rajah berikut berkaitan proses pilihan raya Majlis Perundangan Persekutuan pada tahun 1955.



Apakah X?

ms 200

- A Pengiraan undi
  - B Penamaan calon
  - C Pembuangan undi
  - D Penetapan sempadan
- 19 Gambar berikut berkaitan dengan suasana hari pengundian di negara kita.



Proses pembuangan undi

Apakah nilai yang dapat diteladani daripada proses tersebut?

KBAT

- A Rasional
- B Berdikari
- C Toleransi
- D Bertanggungjawab

20 Jadual berikut berkaitan keputusan Pilihan Raya Majlis Perundangan Persekutuan (MPP) 1955.

Parti	Bilangan Calon	Kerusi yang Dimenangi
Perikatan	52	51
<b>X</b>	11	1

Apakah parti X?

ms 202

- A Parti Buruh
- B Parti Negara
- C Parti Kebangsaan Perak
- D Parti Islam Se-Tanah Melayu

21 Mengapakah pilihan raya tempatan pertama diadakan di Sarawak pada tahun 1956? ms 203

- A Persediaan awal berkerjaan sendiri
- B Penyatuan hubungan pelbagai kaum
- C Menubuhkan Majlis Undangan Negeri
- D Mewujudkan kerjasama dengan British

22 Antara berikut, manakah kawasan yang terlibat dengan pilihan raya tempatan pertama di Sarawak? ms 203

- I Mukah Municipal Council
- II Sibu Urban District Council
- III Kuching Municipal Council
- IV Miri Urban District Council

- A I dan II
- B I dan IV
- C II dan IV
- D III dan IV

23 Mengapakah pilihan raya tempatan mendapat sambutan baik daripada penduduk pelbagai kaum di Sarawak? ms 203

- A Memenuhi hasrat dalam manifesto
- B Membolehkan wakil kerajaan dipilih
- C Menggabungkan kerajaan campuran
- D Merintis ke arah rundingan kemerdekaan

24 Mengapakah rakyat Sarawak memberi sokongan terhadap pilihan raya berikut? ms 203

- Kuching Municipal Council (KMC)
- Sibu Urban District Council (SUDC)

- A Memantapkan kuasa pemimpin
- B Membanteras amalan rasuah
- C Memilih wakil dalam kerajaan
- D Menubuhkan parti politik

- 25 Pilihan raya kerajaan tempatan pertama di Sabah diadakan pada 16 Disember 1962. Siapakah yang dilantik menjadi penguasa pilihan raya tersebut?  
ms 203
- A Ketua Residen  
B Pegawai Daerah  
C Ketua Anak Negeri  
D Setiausaha Kolonial
- 26 Antara berikut, parti politik yang manakah bertanding dalam pilihan raya kerajaan tempatan di Sabah pada 16 Disember 1962?  
ms 203
- I IMP  
II USNO  
III UNKO  
IV UMNO
- A I dan II  
B I dan IV  
C II dan III  
D III dan IV
- 27 Apakah jawatan ketua pentadbir Persekutuan Tanah Melayu selepas Pilihan Raya Majlis Perundangan Persekutuan 1955?  
ms 204
- A Ketua Menteri  
B Gabenor British  
C Perdana Menteri  
D Pesuruhjaya Tinggi British
- 28 Majlis Perundangan Persekutuan (MPP) telah dibentuk pada tahun 1955. Apakah peranan majlis tersebut?  
ms 204
- A Mengetuai pentadbiran negeri  
B Melaksanakan pungutan cukai  
C Menggubal undang-undang  
D Melatih pemimpin tempatan
- 29 Keanggotaan Majlis Perundangan Persekutuan (MPP) membuktikan amalan sistem demokrasi diamalkan di negara kita. Apakah bukti pengamalan sistem demokrasi tersebut?  
ms 204
- A Pemimpin dipilih oleh rakyat  
B Pengurangan kuasa sultan  
C Pemansuhan pentadbiran barat  
D Pembentukan kabinet pertama

30 Petikan berikut berkaitan ucapan Tunku Abdul Rahman ketika merasmikan Majlis Perundangan Persekutuan 1955.



Sumber: Malaysia. Arkib Negara Malaysia, 2007.  
Merintis Denai Demokrasi.

Apakah yang dimaksudkan dengan *hari yang amat penting dalam sejarah Majlis ini* ?  
ms 205

- A Pemilihan ahli oleh rakyat
- B Pengunduran kuasa British
- C Perisytiharaan kemerdekaan negara
- D Pengumuman keputusan pilihan raya

31 Pilih pasangan yang **betul** tentang perbezaan keahlian Majlis Perundangan Persekutuan 1948 dengan Majlis Perundangan Persekutuan 1955.  
ms 204

	<b>Majlis Perundangan Persekutuan 1948</b>	<b>Majlis Perundangan Persekutuan 1955</b>
I	52 Ahli tidak rasmi dilantik	52 Ahli dipilih melalui pilihan raya
II	2 orang wakil Negeri-Negeri Selat	3 orang wakil Negeri-Negeri Selat
III	80 orang jumlah keahlian majlis	100 orang jumlah keahlian
IV	11 orang ahli rasmi dalam kalangan pegawai kerajaan	11 orang Menteri Besar mewakili negeri

- A I dan II
- B I dan IV
- C II dan III
- D III dan IV

- 32 Gambar berikut merujuk kepada wanita pertama yang dipilih dalam Majlis Perundangan Persekutuan (MPP).




Halimatun Abd Majid

Apakah nilai yang diperolehi daripada keahlian wanita tersebut?

ms 205

- A Keadilan
  - B Kejujuran
  - C Kasih sayang
  - D Berhemah tinggi
- 33 Gambar berikut berkaitan anggota kabinet Persekutuan Tanah Melayu selepas Pilihan Raya Umum 1955.



Apakah peranan mereka?

ms 206

- A Menggubal perlembagaan
- B Menjaga kebajikan imigran
- C Mengkaji hubungan antara kaum
- D Membincangkan soal keselamatan

34 Antara berikut, apakah isu yang dibincangkan dalam kabinet pertama Persekutuan Tanah Melayu 1955?

ms 206

- I Kerakyatan
- II Kewangan
- III Pertahanan
- IV Hubungan luar

- A I dan II
- B I dan IV
- C II dan III
- D III dan IV

35 Gambar berikut berkaitan dengan tokoh negara yang menganggotai kabinet pertama Persekutuan Tanah Melayu.



Dato' Abdul Razak Hussein

Apakah jawatan tokoh tersebut?

ms 207

- A Menteri Buruh
- B Menteri Pelajaran
- C Menteri Kesihatan
- D Menteri Pengangkutan

36 Maklumat berikut berkaitan tugas Menteri Buruh selepas dilantik menganggotai Kabinet Pertama.

Perkhidmatan awam bercorak tempatan

Bagaimanakah beliau melaksanakan tugas tersebut?

ms 207

- A Mengurangkan pegawai barat
- B Menyekat kemasukan tenaga kerja asing
- C Meningkatkan insentif dalam perkhidmatan
- D Menubuhkan pusat latihan kemahiran

37 Selepas memenangi Pilihanraya Umum 1955 Tunku Abdul Rahman telah mengetuai Kabinet Pertama Persekutuan Tanah Melayu. Apakah jawatan yang disandang oleh beliau?

ms 206

- A Gabenor
- B Presiden
- C Ketua Menteri
- D Perdana Menteri

38 Kabinet pertama Persekutuan Tanah Melayu yang dibentuk pada 1955 adalah berasaskan Model Westminster. Mengapakah model tersebut digunakan?

ms 206

- A Bercorak tempatan
- B Demokrasi acuan penjajah
- C Menepati keperluan negara
- D Pentadbiran lebih sistematik

39 Apakah yang dimaksudkan dengan kuasa veto dalam Kabinet Pertama Persekutuan Tanah Melayu?

ms 206

- A Kuasa Pembatal
- B Model Westminster
- C Perlembagaan Parti
- D Undang-undang Negeri

40 Maklumat berikut berkaitan perkembangan pilihan raya Persekutuan Tanah Melayu.

- Majlis Perbandaran
  - Peringkat Negeri
  - Majlis Perundangan Persekutuan

Apakah tujuan pilihan raya tersebut diadakan?

KBAT

- A Membentuk perpaduan kaum
- B Persediaan berkerajaan sendiri
- C Pemantapan pemerintahan beraja
- D Meningkatkan pembangunan negara

**PERATURAN PEMARKAHAN  
BAB 8**

SOALAN	JAWAPAN	MUKA SURAT	SOALAN	JAWAPAN	MUKA SURAT
1	D	194	21	A	203
2	D	196	22	C	203
3	D	196	23	B	203
4	B	197	24	C	203
5	C	197	25	D	203
6	B	197	26	C	203
7	D	197	27	A	204
8	C	198	28	C	204
9	A	198	29	A	204
10	B	199	30	A	205
11	A	199	31	B	204
12	C	198	32	A	205
13	C	KBAT	33	D	206
14	A	200	34	C	206
15	D	200	35	B	207
16	C	200	36	A	207
17	B	201	37	D	207
18	B	200	38	B	206
19	D	KBAT	39	A	206
20	D	202	40	A	KBAT

“  
Jangan sesekali berfikir untuk  
berhenti dari apa yang telah kamu  
usahakan selama ini kerana  
langkahmu sudah terlalu jauh  
untuk menyerah”

## BAB 9 PERLEMBAGAAN PERSEKUTUAN TANAH MELAYU 1957

- 1 Apakah asas pembentukan perlembagaan di negara kita? ms 216
- A Kewujudan Sistem Ahli
  - B Pilihanraya Umum 1955
  - C Pelaksanaan Jawatankuasa Kerja
  - D Pembentukan Kabinet Pertama 1955
- 2 Apakah kepentingan misi rundingan ke London pada tahun 1956? ms 216
- A Menuntut kerakyatan negeri
  - B Menamakan pemimpin negara
  - C Memohon peruntukan kewangan
  - D Membincangkan hal keselamatan
- 3 Dialog berikut memaparkan situasi politik negara kita sebelum merdeka. ms 216

**Tokoh A :** Kami wakil orang Ceylon dan Serani menyokong perundingan ke arah kemerdekaan.

**Tokoh B :** Ketua Parti Rakyat, Parti Buruh dan Parti Negara juga turut menyokong.

Apakah rumusan yang dapat dibuat daripada dialog tersebut?

- A Kesiediaan menerima adat resam kaum lain
  - B Kesanggupan mengeneipkan ideologi parti
  - C Kesungguhan menamatkan penjajahan
  - D Kepatuhan kepada arahan pemimpin
- 4 Maklumat berikut adalah berkaitan dengan rombongan kemerdekaan ke London. ms 217


Pada 1 Januari 1956, pukul 5.00 petang, rombongan kemerdekaan menaiki kapal laut, M.V. Asia berlepas dari Pelabuhan Tanjung Pagar, Singapura dengan membawa semangat merdeka.

Mengapakah rombongan tersebut menggunakan kapal laut?

- A Memperoleh kemudahan yang banyak
- B Menjamin keselamatan rombongan
- C Mendapat ruang untuk berbincang
- D Menjimatkan kos perjalanan

- 5 Rajah berikut menunjukkan lokasi perjalanan rombongan rundingan kemerdekaan ke London.

ms 217



Apakah X?

- A Beijing  
B Karachi  
C Greece  
D Colombo
- 6 Apakah peranan Tunku Abdul Rahman dalam rundingan kemerdekaan ke London pada tahun 1956?
- A Mengetuai rombongan  
B Menjadi jurubahasa  
C Pemerhati rundingan  
D Pegawai perundangan
- 7 Pihak berikut terlibat dalam rundingan kemerdekaan ke London.

ms 216

- Wakil Raja-Raja Melayu
- X
- Pihak British

Apakah X?

- A Dewan Perniagaan Melayu  
B Persatuan Perniagaan Cina  
C Wakil Persatuan Melayu  
D Wakil Parti Perikatan
- 8 Antara berikut, apakah isu dalam rundingan kemerdekaan di Lancaster House London pada tahun 1956?
- I Kewangan  
II Keselamatan  
III Majlis Tempatan  
IV Dewan Undangan Negeri
- A I dan II  
B I dan IV  
C II dan III  
D III dan IV

ms 218

9 Apakah tuntutan yang dikemukakan dalam rundingan berikut?

Rundingan kemerdekaan berlangsung dari 18 Januari 1956 hingga 6 Februari 1956 di London

ms 218

- A Pengecualian cukai import barangan
- B Pembahagian jawatan dalam pentadbiran
- C Penentuan warna bendera negara merdeka
- D Pemberian gantirugi kepada pegawai British

10 Apakah persetujuan yang dicapai dalam Perjanjian Kemerdekaan Tanah Melayu pada 8hb Februari 1956?

ms 218

- A Pembentukan Sistem Ahli
- B Pembentukan Kabinet Pertama
- C Pembentukan Sistem Jemaah Menteri
- D Pembentukan Suruhanjaya Perlembagaan

11 Apakah perkara yang disepakati dalam Rundingan London 1956?

ms 218

- A Mewujudkan Menteri Kewangan
- B Menetapkan cukai import barangan
- C Mengurangkan tarif komoditi utama
- D Mengurangkan kuasa Setiausaha Kewangan

12 Apakah bentuk bantuan yang dipersetujui oleh British kepada Tanah Melayu berdasarkan rundingan di London pada tahun 1956?

ms 218

- A Pendidikan
- B Pertahanan
- C Perundangan
- D Pengangkutan

13 Maklumat berikut berkaitan dengan hasil rundingan yang telah disepakati di London pada tahun 1956.


Pewakilan Tanah Melayu menginginkan Pengarah Gerakan digantikan dengan jawatan baharu.

Apakah jawatan tersebut?

ms 218

- A Menteri Kewangan
- B Menteri Pertahanan
- C Ahli Majlis Eksekutif
- D Setiausaha Kewangan

- 14 Apakah perkara yang dipersetujui berkaitan jawatan Menteri Hal Ehwal Ekonomi semasa rundingan London 1956? ms 218
- Diberi gaji bulanan
  - Dilatih di luar negara
  - Diketuai oleh pegawai British
  - Dipilih dari rakyat Tanah Melayu
- 15 Siapakah tokoh yang mengetuai perhimpunan di Padang Banda Hilir Melaka pada 20hb Februari 1956? ms 219
- Leong Yew Koh
  - V.T Sambantham
  - Tun Ghafar Baba
  - Tunku Abdul Rahman
- 16 Apakah sumbangan tokoh berikut dalam usaha kemerdekaan Tanah Melayu 1957? ms 218



Sheikh Abdullah Fahim

- Memberi idea sambutan merdeka
  - Merangka perlembagaan merdeka
  - Menyertai rombongan rundingan kemerdekaan
  - Mengemukakan cadangan tarikh kemerdekaan
- 17 Apakah isyarat yang ditunjukkan oleh tokoh berikut dalam perhimpunan di Padang Banda Hilir, Melaka pada 20 Februari 1956? ms 219



Tunku Abdul Rahman Putra al-Haj

- Pengusiran keluar kuasa Barat
- Kemerdekaan dalam genggaman
- Pelantikan sebagai Perdana Menteri
- Kewujudan kerajaan pusat yang kuat

- 18 Gambar berikut berkaitan dengan peristiwa bersejarah di Banda Hilir, Melaka pada 20hb Februari 1956.

ms 219



Mengapakah peristiwa tersebut penting kepada penduduk Tanah Melayu?

- A Penamatan zaman darurat  
 B Penggabungan parti politik  
 C Pelaksanaan kempen pilihan raya  
 D Pengumuman tarikh kemerdekaan
- 19 Apakah bukti British berjanji untuk memberikan kemerdekaan kepada Tanah Melayu pada tahun 1957?
- A Penubuhan suruhanjaya bebas  
 B Pelaksanaan pilihan raya umum  
 C Persetujuan perjanjian kemerdekaan  
 D Penggubalan perlembagaan Persekutuan
- 20 Apakah peranan Suruhanjaya Reid yang ditubuhkan pada Mac 1956?
- A Melatih pemimpin tempatan  
 B Membentuk kabinet pertama  
 C Mengadakan pungutan suara  
 D Merangka perlembagaan merdeka
- 21 Apakah terma rujukan Suruhanjaya Perlembagaan Persekutuan Tanah Melayu pada 1956 dalam menjalankan peranannya?
- A Hal ehwal imigresen  
 B Penetapan sempadan  
 C Peruntukan kewangan  
 D Bentuk kewarganegaraan

ms 220

22 Maklumat berikut berkaitan usaha ke arah kemerdekaan di negara kita.

ms 221

<b>X</b>
<ul style="list-style-type: none"><li>• Mengadakan perjumpaan sebanyak 118</li><li>• Mengkaji dan membuat cadangan berkaitan perlembagaan</li></ul>

Apakah **X**?

- A Sistem Ahli
- B Majlis Raja-Raja
- C Suruhanjaya Reid
- D Kabinet Pertama

23 Apakah latar belakang bidang pengajian anggota Suruhanjaya Reid?

ms 220

- A Pelajaran
- B Pertahanan
- C Perundangan
- D Pengangkutan

24 Antara berikut, manakah merupakan gerak kerja Suruhanjaya Perlembagaan Persekutuan Tanah Melayu?

ms 221

- I Menerima memorandum
  - II Mengadakan persidangan
  - III Melaksanakan aktiviti hebahan
  - IV Menganjurkan konvensyen kebangsaan
- A I dan II
  - B I dan IV
  - C II dan III
  - D III dan IV

25 Maklumat berikut menerangkan gerak kerja Suruhanjaya Reid pada tahun 1956.

<b>Suruhanjaya Reid</b>
<ul style="list-style-type: none"><li>• Meminta cadangan daripada semua penduduk</li><li>• Menerima memorandum daripada pelbagai pihak</li><li>• Mengadakan persidangan untuk membincangkan pelbagai isu</li></ul>

Apakah nilai yang boleh diteladani daripada usaha tersebut

ms 222

- A Berani
- B Pemurah
- C Toleransi
- D Berhemah tinggi

26 Apakah sumbangan rakyat tempatan dalam proses penggubalan Perlembagaan Persekutuan Tanah Melayu?

ms 222

- A Mengadakan lawatan ke seluruh negara
- B Mengumpulkan pandangan parti politik
- C Mencadangkan jawatan ketua negara
- D Mengemukakan cadangan memorandum

27 Senarai berikut merujuk kepada anggota Suruhanjaya Reid

ms 221

- |  |
|--|
| <ul style="list-style-type: none"><li>• Lord Reid</li><li>• Sir William Mckell</li><li>• X</li></ul> |
|--|

Apakah X?

- A Hakim B. Malik
- B Tun Sardon Jubir
- C Tun Muhammad Ghazali Shafie
- D Tan Sri Mohamad Jemuri Serjan

28 Apakah kandungan memorandum Raja-raja Melayu kepada Suruhanjaya Reid?

ms 222

- A Membahagikan kuasa autonomi
- B Melonggarkan syarat kerakyatan
- C Mencadangkan jawatan ketua negara
- D Mewujudkan pendidikan kebangsaaan

29 Pihak manakah yang mengemukakan memorandum berikut?

ms 222

131 memorandum bertulis diterima untuk dipertimbangkan dalam usaha menggubal Perlembagaan Persekutuan Tanah Melayu yang merdeka
---

- I Parti politik
- II Pegawai British
- III Badan berkanun
- IV Raja-Raja Melayu

- A I dan II
- B I dan IV
- C II dan III
- D III dan IV

30 Situasi berikut berlaku dalam negara kita pada tahun 2019.

ms 222

Bagi menjunjung titah Ke Bawah Duli Yang Maha Mulia (KDYMM) Seri Paduka Baginda Yang di-Pertuan Agong XV, Sultan Muhammad V, dengan ini Istana Negara memaklumkan bahawa KDYMM Seri Paduka Baginda Tuanku meletak jawatan sebagai Yang di Pertuan Agong XV berkuatkuasa 6 Januari (Ahad) bersamaan 29 Rabiulakhir 1440H selaras Perkara 32(3) Perlembagaan Persekutuan

*Berita Harian Online 6 Januari 2019*

Pihak manakah yang bertanggungjawab memperakukan perkara tersebut berdasarkan perlembagaan negara?

- A Majlis Raja-Raja
- B Suruhanjaya Khas Diraja
- C Badan tertinggi Istana Negara
- D Penyimpan Mohor Besar Raja-Raja

31 Apakah memorandum yang dikemukakan oleh Dewan Perniagaan Melayu dalam Suruhanjaya Reid?

ms 222

- A Menuntut pelbagai aliran pendidikan
- B Menolak kewarganegaraan *jus soli*
- C Menyeragamkan sistem pentadbiran
- D Menyusun semula agihan ekonomi

32 Apakah tuntutan masyarakat Serani kepada Suruhanjaya Perlembagaan Persekutuan Tanah Melayu?

ms 222

- A Mengetatkan syarat kerakyatan
- B Menjadi anggota dalam kabinet
- C Mempertahankan hak mereka
- D Menambah peruntukan kewangan

33 Antara berikut, manakah merupakan draf perlembagaan yang dikeluarkan oleh Suruhanjaya Reid?

ms 222

- I Kedudukan istimewa orang Melayu
- II Kesepakatan semua parti politik
- III Kewujudan sekolah vernakular
- IV Kedaulatan Raja-Raja Melayu

- A I dan II
- B I dan IV
- C II dan III
- D III dan IV

34 Mengapakah ahli UMNO tidak bersetuju dengan prinsip Jus Soli yang terdapat dalam draf Perlembagaan Persekutuan Tanah Melayu?

ms 223

- A Menghakis budaya tempatan
- B Mengancam pegangan agama
- C Menggugat kedudukan istimewa
- D Menghapus sekolah kebangsaan

35 Apakah reaksi Parti Negara terhadap draf Perlembagaan Persekutuan Tanah Melayu?

ms 223

- A Memelihara kesucian agama Islam
- B Menerima sistem pendidikan vernakular
- C Menuntut kedudukan bahasa Melayu dipelihara
- D Menolak syarat kewarganegaraan yang longgar

36 Apakah perkara yang dipersetujui oleh parti berikut terhadap draf Perlembagaan Persekutuan Tanah Melayu?

ms 223

- United Malays National Organisation (UMNO)
- Parti Islam Se-Tanah Melayu (PAS)

- A Keselamatan
- B Bahasa Melayu
- C Hubungan Luar
- D Raja-Raja Melayu

37 Apakah iktibar yang diperoleh daripada kejayaan penggubalan Perlembagaan Persekutuan Tanah Melayu 1957?

KBAT

- A Bertolak ansur antara kaum
- B Berani menentang penjajah
- C Bijaksana menyusun strategi
- D Berhemah tinggi dalam tindakan

38 Berikut adalah kaedah mendapatkan kewarganegaraan Persekutuan Tanah Melayu.

ms 224

- Penguatkuasaan undang-undang
- Naturalisasi
- X

Apakah X?

- A Permohonan
- B Perjanjian
- C Perkahwinan
- D Penganugerahan

39 Apakah inti pati Perjanjian Persekutuan Tanah Melayu 1957?

ms 224

- A Pendidikan kebangsaan
- B Hal ehwal imigresen
- C Sekolah Vernakular
- D Kewarganegaraan

40 Apakah keistimewaan orang Melayu dalam perlembagaan Persekutuan Tanah Melayu 1957?

KBAT

- I Pelajaran
- II Kewangan
- III Pertahanan
- IV Biasiswa

- A I dan II
- B I dan IV
- C II dan III
- D III dan IV

**PERATURAN PEMARKAHAN  
BAB 9**

SOALAN	JAWAPAN	MUKA SURAT	SOALAN	JAWAPAN	MUKA SURAT
1	B	216	21	D	220
2	D	216	22	C	221
3	C	216	23	C	220
4	C	217	24	A	221
5	B	217	25	C	KBAT
6	A	217	26	D	222
7	D	216	27	A	221
8	A	218	28	C	222
9	D	218	29	B	222
10	D	218	30	A	KBAT
11	A	218	31	B	222
12	B	218	32	C	222
13	B	218	33	B	222
14	D	218	34	C	223
15	C	218	35	D	223
16	D	218	36	B	223
17	B	218	37	A	KBAT
18	D	219	38	A	224
19	C	219	39	D	224
20	D	220	40	A	224



**BAB 10**  
**PEMASYURAN KEMERDEKAAN**

- 1 Apakah takrif kemerdekaan menurut Kamus Dewan? ms 234
- A Bebas daripada naungan
  - B Bersatu memajukan negara
  - C Berintegriti menjalankan tugas
  - D Bangga terhadap negara
- 2 Apakah faktor pembebasan diri daripada pencerobohan pihak luar menurut pandangan tokoh berikut? ms 234




Sayyid Jamal al-Din al-Afghani

- A Kebebasan perhambaan
  - B Menguatkan pertahanan
  - C Semangat bersatu padu
  - D Berkorban harta benda
- 3 Maklumat berikut berkaitan dengan konsep kemerdekaan menurut seorang tokoh di Asia. ms 234

Kemerdekaan akan membentuk masyarakat baharu yang demokratik tanpa kelas dan kasta.

- Siapakah tokoh tersebut?
- A Soekarno
  - B Mahatma Gandhi
  - C Tunku Abdul Rahman
  - D Tun Dr Mahathir Mohamad
- 4 Apakah perkara yang dilakukan oleh Jawatankuasa Persediaan Fizikal untuk menyambut kemerdekaan negara kita? ms 236
- A Perhiasan lampu
  - B Penganjuran kursus
  - C Pengibaran bendera
  - D Pembinaan stadium

- 5 Bagaimanakah Tunku Abdul Rahman menyeru semua rakyat meraikan sambutan Hari Kemerdekaan?  
ms 236
- A Mengedarkan risalah
  - B Membuat ucapan di radio
  - C Melaksanakan kempen
  - D Memasang poster
- 6 Lagu Negaraku telah dipilih sebagai lagu kebangsaan negara kita. Lagu ini diambil dari negeri  
ms 236
- A Perak
  - B Melaka
  - C Kelantan
  - D Terengganu
- 7 Apakah ciri Stadium Merdeka yang direka bentuk oleh S.E. Jewkes?  
ms 236
- I Disiapkan dalam tempoh 1 tahun
  - II Mempunyai 22 ribu tempat duduk
  - III Terdapat 3000 tempat berbumbung
  - IV Menelan belanja 5.2 juta ringgit
- A I dan II
  - B I dan IV
  - C II dan III
  - D III dan IV
- 8 Pihak manakah yang terlibat mendapatkan pandangan rakyat berkaitan bunga kebangsaan negara kita?  
ms 236
- A Radio Malaya
  - B Jabatan Penerangan
  - C Menteri Persekutuan
  - D Kementerian Pertanian
- 9 Siapakah yang mereka bentuk bendera kebangsaan negara kita?  
ms 237



Bendera Persekutuan Tanah Melayu

- A Saiful Bahari
- B Mohamed Hamzah
- C Haji Massood Hayati
- D Abdul Majid Othman

- 10 Apakah tugas 300 orang pegawai kerajaan yang menghadiri kursus selama tiga hari sebelum acara sambutan kemerdekaan Tanah Melayu pada tahun 1957?  
ms 237
- A Pegawai pengiring
  - B Pemandu pelancong
  - C Penyediaan makanan
  - D Penyediaan tempat tinggal
- 11 Apakah peranan Jawatankuasa Sambutan dalam persediaan menyambut pemsyukuran kemerdekaan negara?  
ms 237
- A Menirikan Stadium Merdeka
  - B Membuat tempahan bendera
  - C Menggubah lagu Negaraku
  - D Memilih bunga kebangsaan
- 12 Pakaian berikut diilhamkan oleh Tunku Abdul Rahman untuk dipakai bersempena dengan sambutan kemerdekaan Tanah Melayu 1957.  
ms 237



Apakah nama pakaian tersebut?

- A Baju Melayu
  - B Baju Muskat
  - C Baju Cekak Musang
  - D Baju Teluk Belanga
- 13 Gambar berikut berkaitan peristiwa bendera Union Jack diturunkan di Padang Kelab Selangor.



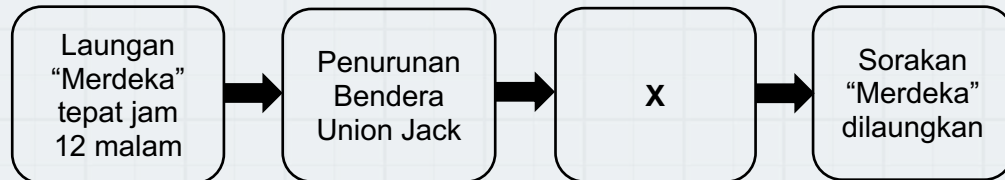
Apakah kepentingan peristiwa tersebut?

- A Perasmian Stadium Merdeka
- B Pengenalan bendera baharu
- C Pentadbiran British berakhir
- D Pembentukan Gagasan Malaysia

ms 238

- 14 Di manakah lokasi permulaan sambutan kemerdekaan pada 30 Ogos 1957?  
ms 238
- A Istana negara
  - B Stadium Merdeka
  - C Bandar Hilir Perak
  - D Padang Kelab Selangor

- 15 Rajah berikut merupakan detik permasyhuran kemerdekaan pada 30 Ogos 1957.



Apakah X?

ms 238

- A Laungan azan diperdengarkan
  - B Pembentukan pembarisan kehormat
  - C Ucapan perasmian oleh Tunku Abdul Rahman
  - D Bendera Persekutuan Tanah Melayu dinaikkan
- 16 Sebutir pingat emas telah dihadiahkan kepada Tunku Abdul Rahman oleh Sardon Jubir pada malam sambutan kemerdekaan Tanah Melayu 1957. Apakah ukiran yang terdapat pada pingat tersebut?

ms 239

- A Jata Negara
- B Bendera Negara
- C Stadium Merdeka
- D Peta Tanah Melayu

- 17 Sambutan kemerdekaan negara dimeriahkan dengan pertunjukan bunga api. Apakah kerajaan yang menghadihkan bunga api tersebut?

ms 239

- A Britain
- B China
- C Jepun
- D Indonesia

- 18 Peristiwa berikut dilakukan semasa sambutan kemerdekaan negara kita pada 31 Ogos 1957.

Sebanyak 101 das tembakan dilepaskan

Apakah simbolik tembakan tersebut?

ms 239

- A Keamanan tercapai
- B Rakyat bersatu padu
- C Negara yang berdaulat
- D Memperolehi kemenangan

- 19 Bagaimanakah negara kita mencapai kemerdekaan pada 31 Ogos 1957. KBAT
- A Rundingan  
B Perjanjian sulit  
C Surat bantahan  
D Gerakan bersenjata
- 20 Bagaimanakah sistem Demokrasi Berparlimen diamalkan di negara kita? ms 242
- A Jemaah Menteri mengetuai kerajaan  
B Raja memerintah berkuasa mutlak  
C Rakyat berkuasa memilih kerajaan  
D Penggiliran jawatan ketua negara
- 21 Apakah bidang kuasa Parlimen selepas negara mencapai kemerdekaan? ms 242
- A Menjalankan pentadbiran  
B Menggubal undang-undang  
C Melaksanakan dasar negara  
D Mempertahankan perlembagaan
- 22 Apakah jawatan yang disandang oleh Tunku Abdul Rahman selepas negara mencapai kemerdekaan? ms 242
- I Menteri Luar  
II Perdana Menteri  
III Menteri Kewangan  
IV Ketua Menteri
- A I dan II  
B I dan IV  
C II dan III  
D III dan IV
- 23 Persekutuan Tanah Melayu telah menandatangani perjanjian Anglo Malayan Defence Agreement (AMDA) pada tahun 1957. Apakah kepentingan perjanjian tersebut? ms 243
- A Mengesahkan kemerdekaan  
B Mengukuhkan pertahanan  
C Melicinkan pentadbiran  
D Meningkatkan ekonomi
- 24 Bendera negara kita dikibarkan di ibu pejabat Pertubuhan Bangsa-bangsa Bersatu (PBB) di New York pada 15 Oktober 1957. Apakah kepentingan peristiwa tersebut? ms 243
- A Memajukan ekonomi  
B Melicinkan pentadbiran  
C Mendapat pengiktirafan  
D Meningkatkan taraf hidup

- 25 Negara kita terlibat dalam misi pengaman Pertubuhan Bangsa-bangsa Bersatu (PBB) di Congo.  
Apakah rumusan hasil pelibatan tersebut? ms 243
- A Memiliki pemimpin berwibawa
  - B Mempunyai kekuatan pertahanan
  - C Memupuk semangat kesukarelaan
  - D Mendapat kepercayaan antarabangsa
- 26 Bagaimanakah Rancangan Malaya Pertama 1956-1960 berperanan meningkatkan ekonomi negara? ms 244
- I Menambah modal saham
  - II Menyediakan peluang pekerjaan
  - III Mengurangkan kadar kemiskinan
  - IV Membina bandar perindustrian
- A I dan II
  - B I dan IV
  - C II dan III
  - D III dan IV
- 27 Apakah peranan agensi berikut dalam pembangunan ekonomi negara?
- Lembaga Kemajuan Tanah Persekutuan Felda (FELDA) ditubuhkan pada tahun 1956.
- ms 244
- A Memperkenal industri kecil sederhana
  - B Menubuhkan institusi kewangan
  - C Melahirkan tenaga kerja mahir
  - D Memajukan tanah baharu
- 28 Apakah peranan Bank Negara bagi menggalakkan pertumbuhan ekonomi negara? ms 244
- I Mempelbagai keluaran ekonomi
  - II Menyelaraskan projek pembangunan
  - III Menyediakan persekitaran kondusif
  - IV Meningkatkan kestabilan kewangan
- A I dan II
  - B I dan IV
  - C II dan III
  - D III dan IV
- 29 Maklumat berikut adalah usaha kerajaan untuk membangunkan ekonomi negara.
- Kementerian Pembangunan Luar Bandar ditubuhkan pada 17 November 1959
- Apakah peranan kementerian tersebut? ms 244
- A Membangunkan infrastruktur
  - B Memasarkan hasil pertanian
  - C Mewujudkan bandar baru
  - D Membuka tanah baru

- 30 Apakah keutamaan kerajaan dalam melaksanakan pembangunan melalui penubuhan Majlis Pembangunan Luar Bandar?  
ms 244
- A Pembukaan zon perdagangan bebas
  - B Peningkatan jaringan telekomunikasi
  - C Penyeragaman sistem pendidikan
  - D Penyediaan kemudahan asas
- 31 Apakah fokus utama Rancangan Buku Merah yang dilancarkan pada 25 Januari 1961?  
ms 244
- A Projek kemudahan asas
  - B Pemasaran hasil ekonomi
  - C Pengenalan koperasi desa
  - D Penggunaan tanah secara optimum
- 32 Mengapakah penyata berikut dianggap penting dalam membina negara bangsa yang bersatu padu?
- Penyata Rahman Talib 1961
- ms 245
- A Pembinaan sekolah vernakular
  - B Pemerksaan Bahasa Melayu
  - C Kurikulum Pendidikan yang seragam
  - D Kemahiran membaca menulis mengira
- 33 Apakah usaha kerajaan untuk memartabatkan bahasa kebangsaan di negara kita?  
ms 245
- A Mewujudkan Jabatan Penerangan
  - B Menubuhkan Dewan Bahasa dan Pustaka
  - C Memperkenalkan Rancangan Buku Merah
  - D Melaksanakan Rancangan Malaya Pertama
- 34 Apakah fungsi Jabatan Penerangan yang telah ditubuhkan di Tanah Melayu?  
ms 245
- A Meningkatkan perkhidmatan awam
  - B Menyeragamkan sistem pendidikan
  - C Membuat hebahan maklumat
  - D Menaiktaraf kemudahan asas
- 35 Antara berikut, manakah prinsip kedaulatan negara kita?  
ms 246
- I Kerajaan
  - II Adat resam
  - III Seni budaya
  - IV Wilayah pengaruh
- A I dan II
  - B I dan IV
  - C II dan III
  - D III dan IV


36 Apakah maksud kedaulatan undang-undang?

ms 247

- A Kepatuhan kepada agama dan bangsa
- B Perlakuan dan tauladan yang mesti diikuti
- C Pemuafakatan antara rakyat berbilang kaum
- D Kerajaan dan rakyat terikat dengan peraturan

37 Apakah kepentingan lambang berikut kepada negara kita?

ms 247



- A Ketelusan pentadbiran
- B Keseimbangan kaum
- C Kedaulatan negara
- D Kemakmuran ekonomi

38 Mengapakah lambang berikut penting kepada negara kita?

ms 247

- Jata Negara
- Lagu Kebangsaan
- Bunga Kebangsaan
- Bendera Kebangsaan

- A Menunjukkan ketelusan
- B Mempamerkan kemasyhuran
- C Melahirkan semangat perpaduan
- D Menzahirkan semangat berdikari

39 Pengiktirafan sebagai rakyat membolehkan kita memperoleh

ms 247

- A hak asasi
- B kebebasan mutlak
- C dwi kerakyatan
- D suaka politik

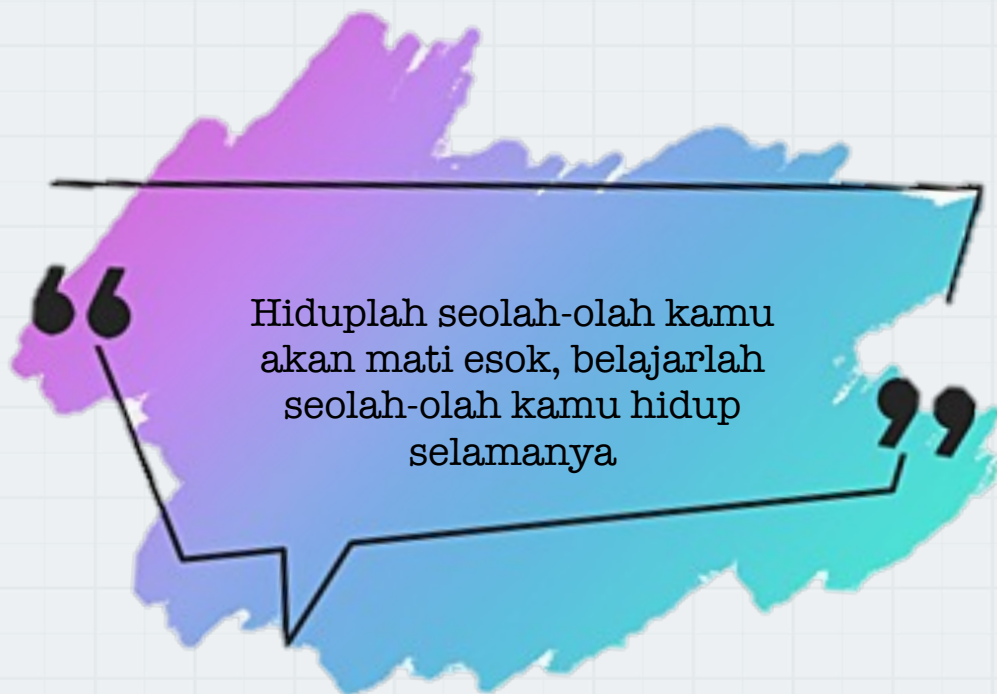
40 Apakah peranan rakyat dalam mengekalkan kemerdekaan negara?

KBAT

- A Meminta bantuan luar
- B Mengamalkan budaya asing
- C Memperkukuhkan perpaduan
- D Memperbaiki sistem pendidikan

**PERATURAN PEMARKAHAN  
BAB 10**

SOALAN	JAWAPAN	MUKA SURAT	SOALAN	JAWAPAN	MUKA SURAT
1	A	234	21	B	242
2	C	234	22	A	242
3	B	234	23	B	243
4	D	236	24	C	243
5	B	236	25	D	243
6	A	236	26	C	244
7	C	236	27	D	244
8	D	236	28	D	244
9	B	236	29	A	244
10	A	236	30	D	244
11	B	237	31	A	244
12	B	237	32	B	245
13	C	238	33	B	245
14	D	238	34	C	245
15	D	238	35	B	246
16	D	239	36	D	247
17	C	239	37	C	247
18	C	240	38	C	247
19	B	KBAT	39	A	247
20	C	242	40	C	KBAT



## BAB 1 KEDAULATAN NEGARA

1 Konsep kedaulatan boleh ditakrifkan sebagai

ms 4

- I Kekuasaan tertinggi
- II Kemerdekaan negara
- III Keagungan pemerintah
- IV Kewibawaan kerajaan

- A I dan II
- B I dan IV
- C II dan III
- D III dan IV

2 Pernyataan berikut berkaitan dengan takrifan kedaulatan.

ms 4

Kuasa pemerintahan sesebuah kerajaan

Apakah istilah yang memberi maksud pada pernyataan tersebut?

- A Daulah
- B Sovereignty
- C Supernuus
- D Superanus

3 Siapakah tokoh yang dikaitkan dengan pernyataan berikut?

Kedaulatan merupakan kekuatan dan kekuasaan sesebuah negara berasaskan semangat kekitaan bangsanya.

ms 5

- A Aristotle
- B Ibn Khaldun
- C Tun Dr. Mohamed Salleh Abas
- D Tunku Abdul Rahman Putra al-Haj

4 Siapakah tokoh yang dikaitkan dengan tafsiran berikut?

ms 5

" Kedaulatan merupakan kuasa tertinggi dalam sesebuah negara"

- A Jean Bodin
- B Ibnu Khaldun
- C Tunku Abdul Rahman Putra al-Haj
- D Tun Dr. Mohamed Salleh Abbas

5 Apakah maksud kedaulatan mengikut pandangan tokoh berikut?



Tunku Abdul Rahman Putra al-Haj

ms 5

- A Kebebasan dan keadilan
- B Kekuatan semangat kekitaan
- C Kekuasaan tertinggi sebuah negara
- D Kerajaan terikat dengan perlembagaan

6 Antara berikut, yang manakah merupakan ciri kedaulatan tradisional.

ms 6

- I Kedaulatan raja-raja Melayu
- II Kesamaan hak sama rata
- III Pengamalan raja berpelembagaan
- IV Pemerintahan berkuasa mutlak

- A I dan II
- B I dan IV
- C II dan III
- D III dan IV

7 Apakah kesan peristiwa berikut kepada sejarah negara kita?

- Revolusi Keagungan
  - Revolusi Perancis

ms 6

- A Pengukuhan sistem beraja
- B Pentadbiran berasaskan biro
- C Pelaksanaan pilihanraya umum
- D Pengamalan konsep Raja Berperlembagaan

8 Apakah konsep kedaulatan yang diamalkan oleh masyarakat dunia selepas Perang Dunia Pertama?

ms 6

- A Hak rakyat untuk bebas bersuara
- B Perlembagaan adalah yang tertinggi
- C Raja adalah asas ketaatan rakyat
- D Nasionalisme berasaskan bangsa

9 Bagaimanakah kerajaan boleh menjayakan matlamat prinsip Rukun Negara berikut?

Kedaulatan Undang-Undang

ms 7

- A Pengukuhan kerajaan persekutuan
- B Pengagihan kuasa secara adil
- C Perlembagaan sebagai panduan
- D Pengekalan institusi raja

10 Apakah kepentingan kedaulatan antarabangsa?

ms 7

- A Memiliki pengesahan oleh UNESCO
- B Mendapat pengiktirafan daripada PBB
- C Mengekalkan sempadan negara
- D Menyekat pengaruh negara asing

11 Maklumat berikut merupakan ciri-ciri negara yang berdaulat.

- Pemerintahan yang wibawa
  - Sempadan yang jelas
  - Perundangan yang adil
  - **X**

ms 8 -9

Apakah **X** ?

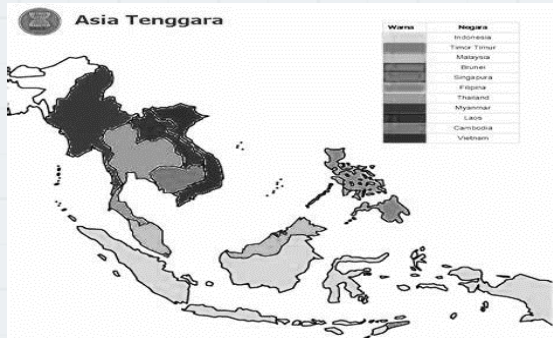
- A Rakyat yang setia
- B Hak untuk bersuara
- C Rumpun yang sama
- D Persamaan bangsa

12 Siapakah yang menjadi ketua kerajaan Malaysia?

ms 7

- A Perdana Menteri
- B Ketua Menteri
- C Yang di Pertuan Besar
- D Yang di Pertuan Agong

13 Peta berikut menunjukkan negara-negara di Asia Tenggara.



Mengapakah kedudukan tersebut menjadi cabaran kepada negara kita?

ms 8

- A Bentuk muka bumi
- B Berlainan ideologi
- C Persaingan ekonomi
- D Berkongsi sempadan

14 Apakah yang dimaksudkan dengan Raja Berperlembagaan?

ms 8

- A Raja tertakluk kepada undang-undang
- B Kekuasaan raja secara mutlak
- C Raja menggubal undang-undang
- D Ketaatan rakyat mengukuhkan raja

15 Rajah berikut berkaitan dengan Raja Berperlembagaan mengikut peruntukan Perlembagaan Persekutuan.

ms 8

Institusi Beraja
<ul style="list-style-type: none"> <li>• Yang di-Pertuan Agong</li> <li>• Raja-raja Negeri</li> <li>• <b>X</b></li> </ul>

Apakah **X**?

- A Majlis Sultan-Sultan
- B Majlis Raja-Raja
- C Suruhanjaya Diraja
- D Penyimpan mohor raja-raja

16 Apakah yang menjadi panduan kepada sistem perundangan negara kita?

ms 9

- A Undang-Undang Kanun Melaka
- B Perlembagaan Persekutuan
- C Undang-Undang Tubuh
- D Perlembagaan Rakyat

17 Apakah badan yang mengubal dan menentukan sistem perundangan negara?

ms 9

- A Mahkamah
- B Parlimen
- C Jemaah Menteri
- D Dewan Undangan Negeri

18 Gambar berikut berkaitan dengan keunikan rakyat Malaysia.

ms 9



Bagaimanakah keunikan tersebut dapat dipelihara?

- A Memperuntukkan sumber kewangan
- B Menguatkuasa undang-undang
- C Mengekalkan warisan Melayu
- D Menjaga hubungan antara kaum

19 Antara berikut, yang manakah menjadi faktor penyatuan rakyat Malaysia?

ms 9

- I Bahasa kebangsaan
- II Ideologi negara
- III Keagamaan
- IV Adat tradisi

- A I dan II
- B I dan IV
- C II dan III
- D III dan IV

20 Apakah ciri pentadbiran negara yang berkesan?

ms 10

- I Peruntukan dana yang besar
- II Mendapat sokongan luar
- III Pengagihan kuasa secara adil
- IV Sistem Jemaah Menteri

- A I dan II
- B I dan IV
- C II dan III
- D III dan IV

- 21 Bagaimanakah kerjasama kerajaan Persekutuan dan kerajaan Negeri dapat dilaksanakan?  
ms 10
- A Kebebasan pemerintah
  - B Sistem Jemaah Menteri
  - C Pengagihan kuasa
  - D Kemajuan ekonomi
- 22 Apakah keunikan pasukan bola sepak negara yang berjaya melayakkan diri ke Sukan Olimpik pada tahun 1972?  
ms 11
- A Permainan yang bermutu
  - B Semangat yang kental
  - C Pemain berbilang kaum
  - D Jurulatih yang hebat
- 23 Kerajaan melaksanakan pelbagai dasar sosial untuk melahirkan generasi yang berkemahiran. Bagaimanakah matlamat tersebut boleh direalisasikan?  
ms 10
- A Kerjasama parti politik
  - B Perpaduan antara kaum
  - C Kemajuan sistem pendidikan
  - D Penyeragaman kurikulum
- 24 Kedaulatan penting bagi memberikan hak kepada negara untuk menjalinkan hubungan dengan negara luar. Apakah kesan hubungan tersebut?  
ms 11
- A Mengamalkan kerakyatan terbuka
  - B Melahirkan generasi berilmu
  - C Mengukuhkan perpaduan kaum
  - D Meningkatkan sistem pertahanan
- 25 Apakah kesan Malaysia menganggotai pertubuhan serantau dan antarabangsa?  
ms 11
- I Mengukuhkan amalan demokrasi
  - II Memantapkan institusi beraja
  - III Mendapat pengiktirafan dunia
  - IV Meningkatkan imej negara
- A I dan II
  - B I dan IV
  - C II dan III
  - D III dan IV

26 Mengapakah Tun Hussein Onn bertemu dengan Anwar Sadat pemimpin Mesir pada tahun 1977?

ms 11

- A Mengukuhkan hubungan diplomatik
- B Membentuk pakatan ketenteraan
- C Memberi bantuan kemanusiaan
- D Meminta perlindungan politik

27 Siapakah tokoh yang mengeluarkan pernyataan berikut?

" Kami kenal pasti bahawa perhatian utama harus diberikan terhadap kelemahan ekonomi kaum bumiputera "

ms 12

- A Tunku Abdul Rahman Putra al-Haj
- B Tun Dr. Mahathir Mohamad
- C Dr. Tan Chee Khoon
- D Tun V.T Sambanthan

28 Apakah peranan kerajaan bagi mencapai matlamat berikut?

- Kestabilan politik
- Kemakmuran ekonomi

ms 12

- I Mengagihkan kekayaan dengan adil
- II Mewujudkan pentadbiran yang cekap
- III Meminta bantuan kuasa asing
- IV Mengamalkan ideologi kapitalis

- A I dan II
- B I dan IV
- C II dan III
- D III dan IV

29 Apakah kesan penghayatan rakyat terhadap Rukun Negara?

ms 13

- A Memupuk perpaduan kaum
- B Memberi kebebasan mutlak
- C Mengamalkan pelbagai budaya
- D Membuka peluang pekerjaan

30 Gambar berikut adalah sampul surat hari pertama Pos Malaysia.



Apakah yang dapat dirumuskan daripada gambar tersebut?

ms 13

- I Kepelbagaian budaya
- II Keunikan adat resam
- III Kebebasan bersuara
- IV Kesetiaan kepada negara

- A I dan II
- B I dan IV
- C II dan III
- D III dan IV

31 Apakah yang dimaksudkan dengan semangat patriotisme?

ms 14

- A Kemajuan ekonomi
- B Kerjasama masyarakat
- C Kewibawaan pemimpin
- D Perasaan cinta akan negara

32 Bagaimanakah pemerintah memupuk nilai patriotisme dalam kalangan rakyat Malaysia?

ms 14

- I Menambah bilangan menteri
- II Memodenkan sistem pertahanan
- III Mengadakan sambutan kemerdekaan
- IV Mengajukan kempen kenegaraan

- A I dan II
- B I dan IV
- C II dan III
- D III dan IV

33 Apakah mesej yang ingin disampaikan daripada lagu berikut?


**Lirik Lagu Keranamu Malaysia**

Buruh, nelayan dan juga petani  
 Gaya hidup kini dah berubah  
 Anak-anak terasuh mindanya  
 Lahir generasi bijak pandai  
 Pakar IT, pakar ekonomi  
 Jaguh sukan dan juga jutawan  
 Berkereta jenama negara  
 Megah menyusur di jalan raya

ms 14

- A Kebanggaan kepada negara
- B Kepentingan aktiviti pertanian
- C Rakyat berjiwa demokratik
- D Toleransi antara kaum

34 Apakah kepentingan gambar berikut?



ms 14

- A Simbol keagungan
- B Nilai kegigihan
- C Bukti kemajuan
- D Lambang kedaulatan

35 Mengapakah kerajaan menganjurkan Sambutan Hari Pahlawan setiap tahun?

ms 14

- A Menarik kedatangan pelancong
- B Menganugerahkan pingat kebaktian
- C Menimbulkan kecintaan kepada negara
- D Memperingati peristiwa penjajahan

36 Pemerintah dan rakyat mempunyai tanggungjawab untuk mempertahankan negara daripada ancaman musuh.

Apakah peranan rakyat bagi mengukuhkan pertahanan negara?

ms 14

- A Memodenkan aset ketenteraan
- B Mengadakan perjanjian pertahanan
- C Menganggotai pasukan keselamatan
- D Menguatkuasakan undang-undang

- 37 Sebagai rakyat Malaysia, mengapakah kita perlu menghormati kepelbagaian budaya dan agama? ms 15
- A Mewujudkan negara yang moden
  - B Mengukuhkan perpaduan bangsa
  - C Memastikan ekonomi berkembang
  - D Meningkatkan hubungan diplomatik

- 38 Mengapakah rakyat perlu mengelakkan berkolaborasi dengan pihak luar? ms15
- A Memajukan negara
  - B Menyatupadukan rakyat
  - C Meningkatkan ekonomi negara
  - D Mengancam keselamatan

- 39 Apakah iktibar daripada peristiwa berikut?

Tarikh	Peristiwa
11 Februari 2013	Krisis pencerobohan Lahad Datu, Sabah

ms 15

- A Sentiasa berpandangan jauh
- B Sedia menerima perubahan
- C Penyatuan rakyat melalui agama
- D Kepentingan mempertahankan negara

- 40 Peta berikut menunjukkan lokasi pencerobohan Lahad Datu, Sabah.



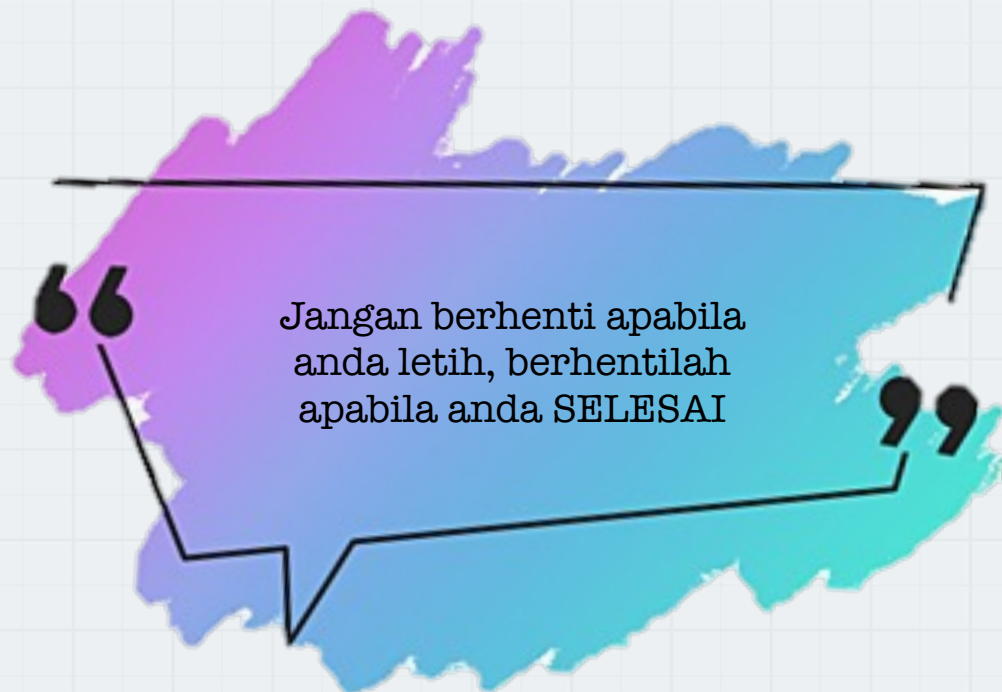
- Apakah usaha kerajaan dalam memastikan peristiwa tersebut tidak berulang?

ms 15

- I Meminta bantuan asing
  - II Memodenkan aset ketenteraan
  - III Memperketatkan kawalan sempadan
  - IV Memutuskan hubungan diplomatik
- A I dan II
  - B I dan IV
  - C II dan III
  - D III dan IV


**PERATURAN PEMARKAHAN  
BAB 1**

NO. SOALAN	KUNCI	MUKA SURAT	NO. SOALAN	KUNCI	MUKA SURAT
1	B	4	21	C	10
2	A	4	22	C	11
3	B	5	23	C	10
4	A	5	24	D	11
5	A	5	25	D	11
6	B	6	26	A	11
7	D	6	27	C	12
8	D	6	28	A	12
9	C	7	29	A	13
10	B	7	30	A	13
11	A	8-9	31	D	14
12	A	7	32	D	14
13	D	8	33	A	14
14	A	8	34	D	14
15	B	8	35	C	14
16	B	9	36	C	14
17	B	9	37	B	15
18	D	9	38	D	15
19	A	9	39	D	15
20	D	10	40	C	15



**BAB 2  
PERLEMBAGAAN PERSEKUTUAN**

- 1 Apakah yang dimaksudkan dengan perlembagaan? ms 22
  - A Kedaulatan raja
  - B Peraturan tambahan
  - C Hak berkerajaan sendiri
  - D Undang-undang tertinggi
  
- 2 Bagaimanakah bentuk sistem pemerintahan sebelum kedatangan British di negara kita? ms 22
  - A Raja berkuasa mutlak
  - B Raja Berperlembagaan
  - C Pelantikan oleh rakyat
  - D Pemilihan oleh pembedar
  
- 3 Gambar berikut merupakan undang-undang yang digunakan semasa zaman Kesultanan Melayu.



Hukum Kanun Melaka

- Apakah kepentingan undang-undang tersebut? ms 22
- A Menjadi asas perlembagaan
  - B Meningkatkan aktiviti perdagangan
  - C Memperkenalkan Raja Berperlembagaan
  - D Memartabatkan Bahasa Melayu
- 
- 4 Apakah asas pembentukan Perlembagaan Persekutuan negara kita? ms 22
    - I Adat tempatan
    - II Undang-undang Islam
    - III Prinsip undang-undang Inggeris
    - IV Nilai tradisi Kesultanan Melayu
    - A I dan II
    - B I dan IV
    - C II dan III
    - D III dan IV

- 5 Hukum Kanun Melaka telah mempengaruhi kandungan undang-undang bertulis di negeri-negeri Melayu yang lain. Apakah undang-undang tersebut?

ms 22

- A Undang-undang Kelantan
- B Undang-undang 99 Perak
- C Undang-undang Perlis
- D Undang-undang Pulau Pinang

- 6 Berdasarkan undang-undang negeri Melayu, siapakah yang menentukan undang-undang dan pemerintahan negara?

ms 22

- A Pembesar
- B Brahmin
- C Hakim
- D Raja

- 7 Undang-Undang Charter of Justice telah digunapakai sejak tahun 1807 di Negeri-Negeri Selat. Apakah tujuan pelaksanaan undang-undang tersebut?

ms 24

- A Memudahkan urusan cukai
- B Melicinkan pentabiran pusat
- C Menjamin kepentingan pelabur
- D Menjaga hak penduduk asal

- 8 Jadual berikut berkaitan dengan badan penggubalan undang-undang zaman penjajahan British.

Tahun	Penggubal	Negeri
1956	Council Negri/Majlis Negeri	Sarawak
1950	<b>X</b>	Sabah

Apakah **X**?

ms 24

- A Gabenor
- B Majlis Negeri
- C Majlis Undangan
- D Pesuruhjaya Tinggi

- 9 Siapakah yang mempengerusikan Majlis Negeri Sarawak?

ms 24

- A Pesuruhjaya
- B Peguam negara
- C Ketua Setiausaha
- D Hakim Negeri

- 10 Apakah badan yang ditubuhkan untuk menjalankan pemerintahan dan pentadbiran di negeri Sabah
- ms:24
- I Majlis Undangan
  - II Council Negri
  - III Dewan Rakyat
  - IV Majlis Kerja
- A I dan II
  - B I dan IV
  - C II dan III
  - D III dan IV

- 11 Apakah badan yang berperanan menggubal undang-undang di Malaysia?
- ms:25
- A Yang di-Pertuan Agong
  - B Majlis Raja-raja
  - C Parlimen
  - D Hakim Negara

- 12 Apakah peranan Majlis Negeri Perak?
- ms: 25
- A Menggubal undang-undang
  - B Meluluskan perbelanjaan
  - C Memberi pengampunan
  - D Melantik pembesar

- 13 Jadual berikut berkaitan sejarah penggubalan undang-undang kerajaan Melayu sebelum merdeka.

Tahun	Peristiwa
1877	Mesyuarat Majlis Negeri Perak yang pertama

Apakah kepentingan peristiwa tersebut?

- ms 25
- A Pelibatan raja dalam perundangan
  - B Pembentukan Majlis raja-raja
  - C Pengenalan Raja Berperlembagaan
  - D Pemulihan sistem beraja
- 14 Siapakah yang menggubal undang-undang di Negeri-Negeri Selat?
- ms:26
- A Ahli Majlis Undangan Negeri
  - B Ahli Majlis Persekutuan
  - C Ahli Majlis Negeri
  - D Ahli Majlis Council
- 15 Apakah kesan Perjanjian Persekutuan Tanah Melayu 1948 kepada Tanah Melayu?
- ms:26
- A Pemasytuhan kerajaan berdaulat
  - B Pembentukan Majlis Raja-Raja
  - C Pembentukan perlembagaan moden
  - D Pengasasan kerajaan Persekutuan

- 16 Maklumat berikut berkaitan badan yang bertanggungjawab menggubal undang-undang di negeri-negeri Melayu pada tahun 1946.

Negeri	Badan
Negeri-negeri Melayu Bersekutu	X
Negeri-negeri Melayu Tidak Bersekutu	Majlis Negeri
Negeri-negeri Selat	Majlis Undangan Negeri

Apakah X ?

ms 26

- A Majlis Eksekutif  
 B Majlis Persekutuan  
 C Dewan Negara  
 D Parlimen
- 17 Apakah yang terkandung dalam Perjanjian Persekutuan Tanah Melayu 1948?
- A Pendidikan  
 B Pertahanan  
 C Kesihatan awam  
 D Kewarganegaraan
- 18 Pada tahun 1957, satu suruhanjaya perlembagaan telah dibentuk bagi melancarkan rancangan kemerdekaan Tanah Melayu. Apakah tugas suruhanjaya tersebut?
- A Menggubal undang-undang Persekutuan  
 B Menguruskan pelantikan Ketua Menteri  
 C Melantik Jemaah Menteri baru  
 D Mewujudkan parti politik
- 19 Apakah yang menjadi terma rujukan semasa pembentukan Perlembagaan Persekutuan Tanah Melayu 1957?
- A Hak sama rata antara kaum  
 B Pembahagian kerusi Parlimen  
 C Kerajaan Persekutuan yang kukuh  
 D Bahasa Melayu sebagai bahasa rasmi
- 20 Perlembagaan Persekutuan Tanah Melayu 1957 disesuaikan dengan
- A Hukum Kanun Melaka  
 B Model Westminster  
 C Undang-undang Tubuh  
 D The Common Law of England
- 21 Apakah peranan Yang di-Pertuan Agong mengikut peruntukan dalam Perlembagaan Malaysia?
- A Menangguhkan hukuman  
 B Menggantung jawatan utama  
 C Meluluskan perbelanjaan  
 D Menggubal undang-undang

22 Antara berikut yang manakah tugas raja bagi setiap negeri?

ms 28

- I Mengampunkan hukuman
- II Melantik Ahli Dewan Undangan
- III Menjamin hak istimewa orang Melayu
- IV Menjaga kedudukan agama Islam

- A I dan II
- B I dan IV
- C II dan III
- D III dan IV

23 Maklumat berikut merujuk kepada kuasa yang mentadbir agama Islam selepas merdeka.

Negeri	Ketua
Negeri-negeri Melayu	Raja
Wilayah Persekutuan dan negeri tidak beraja	X

Apakah X?

ms 29

- A Yang di-Pertuan Agong
- B Yang di-Pertua Negeri
- C Yamtuan Muda
- D Menteri Besar

24 Siapakah yang menjaga kedudukan kaum bumiputera di Sabah dan Sarawak sebelum pembentukan Malaysia?

ms 29

- A Gabenor British
- B Ketua Menteri
- C Ketua peribumi
- D Yang di-Pertua Negeri

25 Apakah sistem pemilihan pemimpin di Sarawak dan Sabah sebelum pembentukan Malaysia?

ms 29

- A Secara tidak langsung
- B Suara rakyat
- C Lantikan
- D Penggiliran

26 Siapakah yang menjaga kedudukan agama Islam bagi negeri-negeri berikut?

- |  |
|--|
| <ul style="list-style-type: none"> <li>• Sabah</li> <li>• Sarawak</li> <li>• Melaka</li> <li>• Pulau Pinang</li> </ul> |
|--|

ms 29

- A Sultan
- B Yang di-Pertua Negeri
- C Yang di-Pertuan Agong
- D Majlis Agama Islam

- 27 Apakah ciri moden dalam Perlembagaan Persekutuan?  
ms 28
- I Kerajaan Persekutuan
  - II Kewarganegaraan
  - III Bahasa Melayu
  - IV Agama Islam
- A I dan II  
B II dan III  
C III dan IV  
D I dan IV
- 28 Apakah bukti negara kita mengamalkan sistem Demokrasi Berparlimen?  
ms 29
- I Perlembagaan adalah kuasa tertinggi
  - II Penglibatan rakyat membentuk kerajaan
  - III Undang-undang negeri boleh melebihi persekutuan
  - IV Negeri berkuasa meminda Perlembagaan Persekutuan
- A I dan II  
B II dan III  
C III dan IV  
D I dan IV
- 29 Apakah tujuan pilihan raya umum pertama pada tahun 1955?  
ms 29
- A Menjaga hak pribumi
  - B Mengurus kewangan
  - C Melantik pembesar
  - D Memilih pemimpin
- 30 Apakah kategori kerakyatan penduduk Tanah Melayu sebelum Perjanjian Persekutuan Tanah Melayu 1948?  
ms 28
- A Kuatkuasa Undang-undang
  - B Naturalisasi
  - C Jus Soli
  - D Rakyat raja
- 31 Mengapakah Perlembagaan Tanah Melayu 1957 dipinda pada tahun 1963?  
ms 30
- A Pembubaran parlimen
  - B Pembentukan Malaysia
  - C Pelaksanaan darurat
  - D Persempadan semula

- 32 Antara berikut, yang manakah termasuk dalam perkara yang dipinda dalam Perlembagaan 1963? ms 30
- I Jawatan yang Dipertua Negeri
  - II Kuasa autonomi negeri
  - III Bidang kuasa Persekutuan
  - IV Struktur Mahkamah Atasan
- A I dan II  
B I dan IV  
C II dan III  
D III dan IV
- 33 Apakah mahkamah yang boleh mendengar persoalan perlembagaan dan pertikaian antara Kerajaan Persekutuan dengan Kerajaan Negeri? ms 30
- A Persekutuan
  - B Rayuan
  - C Seksyen
  - D Tinggi
- 34 Apakah jenis mahkamah yang diwujudkan mengikut model Mahkamah Tertinggi England? ms 30
- I Seksyen
  - II Atasan
  - III Rayuan
  - IV Anak negeri
- A I dan II  
B I dan IV  
C II dan III  
D III dan IV
- 35 Pindaan Perlembagaan 1963 telah menetapkan bahawa Yang di-Pertua Negeri dilantik bagi mengetuai negeri Sabah dan Sarawak. Siapakah yang berkuasa membuat pelantikan tersebut? ms 31
- A Ketua Menteri
  - B Majlis Raja-Raja
  - C Ketua Anak Negeri
  - D Yang di-Pertuan Agong
- 36 Siapakah yang menasihati Yang di-Pertua negeri Sarawak dalam pentadbiran? ms 31
- A Ahli Kabinet Negeri
  - B Ahli Majlis Tertinggi
  - C Jemaah Menteri
  - D Exco Negeri

- 37 Siapakah yang membawa usul pindaan Perlembagaan 1965?  
ms 31
- A Tun Abdul Razak bin Hussein
  - B Tun Hussein bin Onn
  - C Tunku Abdul Rahman Putra al-Haj
  - D Tun Dr Mahathir bin Mohamad
- 38 Dimanakah usul pindaan Singapura pada 7 Ogos 1965 diluluskan?  
ms 31
- A Mahkamah
  - B Parlimen
  - C Istana negara
  - D Dewan Undangan Negeri
- 39 Apakah perkara berkaitan Singapura yang dimansuhkan dalam Perlembagaan Malaysia?  
ms 31
- A Imigresen
  - B Keagamaan
  - C Kerajaan tempatan
  - D Hari kelepasan negeri
- 40 Mengapakah pindaan perlembagaan dibuat pada tahun 1965?  
ms 31
- A Kemasukan Sabah dan Sarawak
  - B Peningkatan kadar jenayah
  - C Mengeluarkan Singapura
  - D Membendung ancaman komunis

**PERATURAN PEMARKAHAN  
BAB 2**

NO. SOALAN	KUNCI	MUKA SURAT	NO. SOALAN	KUNCI	MUKA SURAT
1	D	22	21	A	28
2	A	22	22	D	28
3	A	22	23	A	29
4	D	22	24	C	29
5	B	22	25	A	29
6	D	22	26	C	29
7	D	24	27	A	28
8	A	24	28	A	29
9	C	24	29	D	29
10	B	25	30	D	28
11	C	25	31	B	30
12	A	25	32	B	30
13	A	25	33	A	30
14	A	26	34	C	30
15	D	26	35	D	31
16	B	26	36	B	31
17	D	26	37	C	31
18	A	26	38	B	31
19	C	27	39	A	31
20	B	27	40	C	31

“ Untuk mendapatkan sesuatu yang besar anda mesti sanggup korbankan banyak perkara yang kecil ”

### BAB 3 RAJA BERPELEMBAGAAN DAN DEMOKRASI BERPARLIMEN

1 Apakah persamaan yang terdapat pada kerajaan berikut?

- Kelantan
- Negeri Sembilan
- Perlis

Ms 38

- A Wujud selepas Kesultanan Melayu Melaka
- B Diasaskan oleh Kesultanan Johor Riau
- C Menggunakan undang-undang yang sama
- D Salasilah pemimpin yang sama

2 Apakah peranan Raja-raja Melayu sebelum kedatangan kuasa Barat?

ms 38

- A Ketua istana
- B Ketua kerajaan
- C Mengawal perbendaharaan
- D Mengawal keselamatan perairan

3 Maklumat berikut berkaitan dengan tindakan British di Tanah Melayu.

British telah meterai beberapa perjanjian atau surat perisytiharan dengan raja-raja Melayu.

Apakah kesan peristiwa tersebut kepada sistem pentadbiran di negeri-negeri Melayu?

ms 39

- A Penyatuan wilayah kecil
- B Penerimaan pegawai barat
- C Perlaksanaan sistem cukai
- D Penghapusan sistem raja

4 Apakah tujuan undang-undang berikut digubal?

- Undang-Undang Tubuh Kerajaan Johor (1895)
- Undang-Undang Bagi Diri Kerajaan Terengganu (1911)

ms 39

- A Menjaga kuasa pembesar
- B Mengekalkan warisan tradisi
- C Mempertahankan hak pribumi
- D Mengekalkan kedaulatan negeri

5 Apakah kesan penggubalan Undang-Undang Tubuh Kerajaan Johor tahun 1895?

ms 39

- A Pengukuhan kuasa pembesar
- B Raja berpelembagaan diperkenalkan
- C Pembentukan Majlis Undangan negeri
- D Raja sebagai pemutus undang-undang

6 Raja-raja Melayu berkuasa untuk mengesahkan undang-undang dalam kerajaan Melayu.

Apakah kepentingan tindakan tersebut?

ms 39

- A Meningkatkan kesetiaan rakyat
- B Menunjukkan kebijaksanaan raja
- C Membuktikan kedaulatan raja
- D Mengukuhkan pentadbiran tradisional

7 Mengapakah institusi raja di Tanah Melayu masih bertahan sehingga hari ini?

ms 39

- A Mendapat sokongan luar
- B Kekuatan ketenteraan
- C Kebijaksanaan diplomasi sultan
- D Pengamalan raja berkuasa mutlak

8 Apakah keistimewaan yang diberikan oleh Jepun kepada raja-raja Melayu semasa pendudukan Jepun di Tanah Melayu?

ms 40

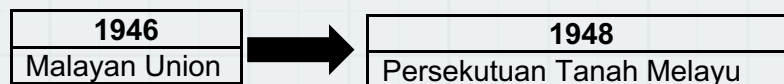
- A Memperoleh pendapatan
- B Meluluskan undang-undang
- C Mendapat hak memungut cukai
- D Mengekalkan kuasa mutlak

9 Apakah kesan pelaksanaan Malayan Union di Tanah Melayu pada tahun 1946?

ms 40

- A Memajukan ekonomi
- B Menjadi negeri naungan
- C Mengekalkan kuasa pembesar
- D Menghapuskan institusi beraja

10 Rajah berikut menunjukkan perubahan pentadbiran di Tanah Melayu.



Mengapakah berlakunya keadaan tersebut?

ms 41

- A Perpaduan semua kaum
- B Persepakatan raja-raja Melayu
- C Perjuangan golongan ulama
- D Pemberontakan golongan radikal

11 Apakah bidang kuasa Yang di-Pertuan Agong selepas disesuaikan dengan konsep demokrasi?

ms 41

- A Ketua Menteri
- B Ketua Hakim Negara
- C Ketua Utama Negara
- D Ketua Jemaah Menteri

12 Mengapakah peristiwa tersebut penting kepada rakyat Tanah Melayu.

Tahun	Peristiwa
1957	Pelaksanaan sistem pemerintahan Demokrasi Berparlimen.

ms 41

- A Pengiktirafan kuasa rakyat
- B Penyatuan antara negeri
- C Pelantikan Perdana Menteri
- D Pengenalan raja berpelembagan

13 Durbar ditubuhkan seiring dengan penubuhan Negeri-negeri Melayu Bersekutu. Apakah peranan institusi tersebut?

ms 42

- A Membincangkan hal ehwal pentadbiran
- B Mendapatkan kuasa pemerintahan
- C Menentukan undang-undang
- D Menjaga kedudukan Islam

14 Siapakah yang mempengerusi Majlis Sultan-Sultan semasa Malayan Union 1946?

ms 43

- A Sultan
- B Residen
- C Gabenor
- D Ketua Setiausaha

15 Bagaimanakah Majlis Sultan-Sultan dibentuk?

ms 43

- A Peruntukkan Perlembagaan Malayan Union
- B Perjanjian Persekutuan Tanah Melayu
- C Perlembagaan Rakyat
- D Majlis Raja-Raja

16 Mengapakah Majlis Sultan-Sultan gagal dilaksanakan pada tahun 1946?

ms 43

- A Pendudukan Jepun
- B Perbelanjaan yang tinggi
- C Penentangan orang tempatan
- D Bantahan Raja-Raja Melayu

17 Maklumat berikut berkaitan dengan Majlis Raja-Raja Melayu 1948.

- |   |
|---|
| <ul style="list-style-type: none"> <li>• Pengerusi mesyuarat ditentukan oleh Majlis Raja-Raja</li> <li>• 9 orang ahli</li> <li>• Penyimpan Mohor Besar akan menyertai persidangan</li> <li>• X</li> </ul> |
|---|

Apakah X?

ms 43

- A Memilih Yang di-Pertuan Agong
- B Membincangkan undang-undang Islam
- C Mengetahui dasar Kerajaan Persekutuan
- D Menasihati gabenor dalam pentadbiran

18 Maklumat berikut berkaitan dengan keanggotaan Majlis Raja-Raja Melayu.


<b>1948</b>	<b>9 orang sultan</b>
<b>1957</b>	9 orang sultan dan Yang di-Pertua Melaka dan Pulau Pinang
<b>1963</b>	Yang di-Pertua Negeri Sabah dan Sarawak

Mengapakah Yang di-Pertua Negeri menjadi ahli dalam majlis tersebut?

ms 43

- A Mengetuai jawatan tertentu
- B Mewakili negeri yang tiada sultan
- C Memperkenalkan undang-undang negeri
- D Memperkenankan sempadan negeri

19 Gambar berikut merupakan Mohor Besar Raja-Raja Melayu yang disimpan oleh Penyimpan Mohor Raja-Raja.



Apakah peranan mohor tersebut?

ms 44

- A Mengesahkan dokumen rasmi
- B Meminda undang-undang
- C Menyelesaikan pertikaian
- D Menubuhkan kerajaan

20 Apakah fungsi Majlis Raja-Raja?

ms 44

- I Memilih Perdana Menteri
- II Melantik Jemaah Menteri
- III Memilih Yang di-Pertuan Agong
- IV Memperkenankan pindaan perlembagaan

- A I dan II
- B I dan IV
- C II dan III
- D III dan IV

21 Raja-raja berperanan mengimbangi kuasa eksekutif dalam sistem demokrasi. Bagaimanakah peranan ini dilaksanakan?

ms 45

- A Membincangkan dasar negara
- B Meluluskan undang-undang
- C Menjadi ahli parti politik
- D Mengampunkan kesalahan

22 Majlis Raja-Raja memberikan nasihat berkaitan dengan pelantikan jawatan tertentu. Apakah jawatan tersebut?

ms 45

- A Peguam Negara
- B Ketua Polis Negara
- C Ketua Hakim Negara
- D Panglima Angkatan Tentera

23 Siapakah yang melantik Menteri dan Timbalan Menteri?

ms 48

- A Majlis raja-raja
- B Perdana Menteri
- C Sultan bagi setiap negeri
- D Yang di-Pertuan Agong

24 Tokoh berikut, mempunyai pengalaman yang luas dan dilantik sebagai Menteri Kewangan Malaysia.



Datuk Seri Utama  
Tengku Zafrul Aziz

Apakah faktor membolehkan beliau dilantik?

ms 48

- A Ahli Dewan Negara
- B Menang pilihanraya
- C Kaedah penggiliran
- D Ahli parti politik

25 Senarai berikut merupakan bidang kuasa Yang di-Pertuan Agong

- Kuasa Esekutif
- Kuasa Perundangan
- X

Apakah X ?

ms 49

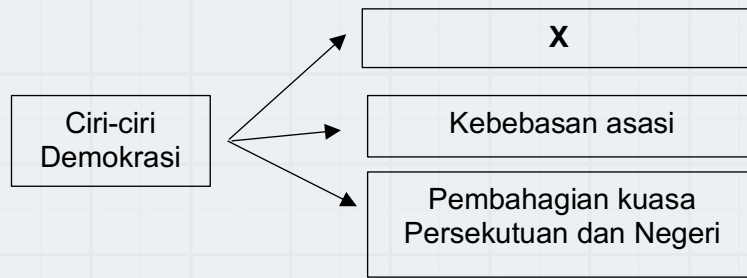
- A Kuasa politik
- B Kuasa ekonomi
- C Kuasa Parlimen
- D Kuasa Kehakiman

26 Yang di-Pertuan Agong berkuasa mengisytiharkan darurat di negara kita. Apakah kepentingan pengisytiharan tersebut?

ms 49

- A Menjaga hak peribumi
- B Menjamin keselamatan negara
- C Meningkatkan ekonomi negara
- D Mewujudkan pakatan ketenteraan

27 Rajah berikut merujuk kepada ciri-ciri demokrasi yang menjadi amalan di negara kita.



Apakah X?

ms 50

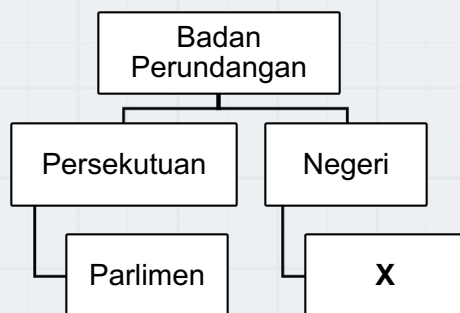
- A Kewangan
- B Pilihan raya
- C Keselamatan
- D Kebudayaan

28 Bagaimanakah ahli Dewan Rakyat dipilih?

ms 53

- A Melalui pilihan raya
- B Melalui Majlis Raja-raja
- C Melalui badan eksekutif
- D Melalui badan perundangan

29 Rajah berikut berkaitan dengan pengubalan undang-undang di Malaysia.

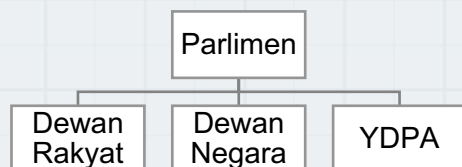


Apakah X?

ms 53

- A Kabinet Negeri
- B Majlis Mesyuarat Negeri
- C Dewan Undangan Negeri
- D Dewan Negara

30 Rajah berikut berkaitan dengan komponen yang terdapat dalam Parlimen.



Apakah tugas ahli Dewan Negara?

ms 53

- A Mentafsir perlembagaan
- B Mengubal undang-undang
- C Membahaskan rang undang-undang
- D Melaksanakan dasar kerajaan

- 31 Apakah tindakan menteri yang tidak bersetuju dengan dasar-dasar kerajaan? ms 54
- A Membuat laporan polis
  - B Meletakkan jawatan
  - C Melompat parti politik
  - D Menggunakan media sosial

- 32 Jadual berikut berkaitan badan yang melaksanakan kuasa eksekutif mengikut perlembagaan.

Persekutuan	Negeri
Jemaah Menteri	Majlis Mesyuarat Kerajaan Negeri

Apakah Badan Eksekutif di Sarawak dan Sabah?

- ms 54
- A Majlis Council
  - B Kabinet Negeri
  - C Majlis Undangan
  - D Majlis Mesyuarat kerajaan
- 33 Apakah tindakan Sultan Muhammad II untuk melancarkan urusan pentadbiran Kerajaan Kelantan pada abad ke-19? ms 54
- A Sistem Jemaah Menteri
  - B Majlis Mesyuarat Kerajaan
  - C Majlis Undangan Negeri
  - D Exco Kerajaan Negeri

- 34 Siapakah yang mengetuai Badan Kehakiman di Malaysia? ms 54

- A Ketua Menteri
- B Jemaah Menteri
- C Perdana Menteri
- D Ketua Hakim Negara

- 35 Siapakah yang terlibat dalam penggubalan undang-undang Islam di Malaysia? ms 55

- A Ahli Dewan Rakyat
- B Majlis Agama Islam Negeri
- C Jabatan Agama Islam Malaysia
- D Ahli Dewan Undangan Negeri

- 36 Apakah tugas Badan Kehakiman di Malaysia? ms 55

- I Mentafsir undang-undang
- II Membahaskan undang-undang
- III Menguatkuasa undang-undang
- IV Mempertahankan perlembagaan

- A I dan II
- B I dan IV
- C II dan III
- D III dan IV

- 37 Antara berikut, yang manakah merupakan mahkamah peringkat negeri? ms 55
- I Mahkamah Atasan
  - II Mahkamah Syariah
  - III Mahkamah Anak Negeri
  - IV Mahkamah Rayuan
- A I dan II  
B I dan IV  
C II dan III  
D III dan IV
- 38 Bagaimanakah pertikaian di antara Kerajaan Negeri dengan Kerajaan Persekutuan diselesaikan? ms 55
- A Merujuk Dewan Negara
  - B Mendengar pandangan Sultan
  - C Mendapat nasihat Majlis Raja-Raja
  - D Ketua Hakim menjadi kuasa pemutus
- 39 Mekanisme semak dan imbang dalam pentadbiran penting bagi mewujudkan kestabilan sistem pentadbiran negara. Bagaimanakah perkara ini dilaksanakan? ms 55
- A Sokongan Majlis Raja-Raja
  - B Desakan badan bukan kerajaan
  - C Penguatkuasaan undang-undang
  - D Pengamalan Demokrasi Berparlimen
- 40 Mengapakah permuafakatan parti politik penting sebelum menghadapi sesuatu pilihan raya? ms 57
- A Menjadi syarat pencalonan
  - B Merupakan tradisi dalam politik
  - C Masyarakat yang berbilang kaum
  - D Memudahkan semak dan imbang

**PERATURAN PEMARKAHAN  
BAB 3**

NO. SOALAN	KUNCI	MUKA SURAT	NO. SOALAN	KUNCI	MUKA SURAT
1	A	38	21	A	45
2	B	38	22	C	45
3	B	39	23	D	48
4	D	39	24	A	48
5	B	39	25	D	49
6	C	39	26	B	49
7	C	39	27	B	50
8	A	40	28	A	53
9	D	40	29	C	53
10	B	41	30	C	53
11	C	41	31	B	54
12	A	41	32	B	54
13	A	42	33	A	54
14	C	43	34	D	54
15	A	43	35	D	54
16	D	43	36	B	55
17	C	43	37	C	55
18	B	43	38	D	55
19	D	44	39	D	55
20	D	44	40	C	57

“ Tidak penting dari mana kita  
bermula, yang penting di  
mana kita berakhir ”

## BAB 4 SISTEM PERSEKUTUAN

- 1 Senarai berikut merupakan wilayah yang disatukan sebagai Konfederasi Seri Menanti, Negeri Sembilan 1895.

- Luak Tampin
- Rembau
- Seri Menanti

Apakah maksud konfederasi ?

ms 66

- A Penyatuan beberapa negara
- B Persamaan latarbelakang bangsa
- C Pembentukan kerajaan pusat
- D Gabungan negeri-negeri berdaulat

- 2 Malaysia merupakan sebuah negara yang mengamalkan sistem Persekutuan. Apakah maksud Persekutuan?

ms 66

- A Mengutamakan institusi beraja
- B Mengamalkan sistem demokrasi
- C Melaksanakan dasar dekolonisasi
- D Menggabungkan beberapa buah negeri

- 3 Apakah ciri keistimewaan dalam sistem Persekutuan?

ms 66

- A Pengagihan kuasa
- B Penubuhan Parlimen
- C Pelaksanaan pilihan raya
- D Pengamalan sistem demokrasi

- 4 Siapakah yang dilantik sebagai ketua Persekutuan Tanah Melayu 1948?

ms 67

- A Residen
- B Gabenor
- C Yang di-Pertuan Agong
- D Pesuruhjaya Tinggi British

- 5 Maklumat berikut berkaitan sistem pentadbiran semasa pemerintahan British di Tanah Melayu.

1896	1946
Negeri-Negeri Melayu Bersekutu	Malayan Union

ms 66-67

Apakah persamaan pentadbiran tersebut?

- A Dikuasai oleh British
  - B Sistem birokrasi diamalkan
  - C Undang-undang disahkan oleh raja
  - D Mendapat nasihat Majlis Mesyuarat Negeri
- 6 Pilih padanan yang betul berkaitan Kerajaan Persekutuan.

ms 66-67

	Pentadbiran	Ketua
A	Negeri-Negeri Melayu Bersekutu	Residen Jeneral
B	Malayan Union	Pesuruhjaya Tinggi
C	Persekutuan Tanah Melayu 1948	Gabenor
D	Persekutuan Malaysia	Yang di-Pertuan Agong

- 7 Maklumat berikut berkaitan latar belakang sistem pentadbiran di negara kita.

Tarikh	Peristiwa
1896	Negeri-negeri Melayu Bersekutu ditubuhkan

Apakah kepentingan peristiwa tersebut kepada negeri-negeri Melayu?

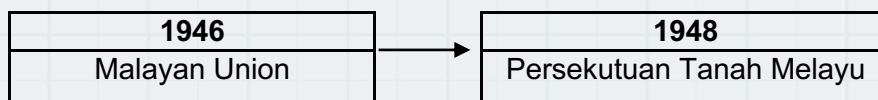
ms 66

- A Pembentukan sebuah persekutuan
  - B Penguatan kerajaan negeri
  - C Pemimpin kehilangan kuasa
  - D Pentadbiran melalui biro
- 8 Mengapakah British memperkenalkan Majlis Mesyuarat Persekutuan pada tahun 1927?

ms 67

- I Mengukuhkan kedudukan
  - II Memperkemaskan pentadbiran
  - III Membentuk kerajaan pusat
  - IV Mewujudkan pengagihan kuasa
- A I dan II
  - B I dan IV
  - C II dan III
  - D III dan IV

- 9 Rajah berikut menunjukkan perubahan sistem pentadbiran di Tanah Melayu sebelum Perang Dunia Kedua.



Mengapa berlaku perubahan tersebut?

ms 67

- A Persekutuan ditubuhkan
- B Penentangan orang Melayu
- C Pengamalan sistem demokrasi
- D Perkembangan politik radikal

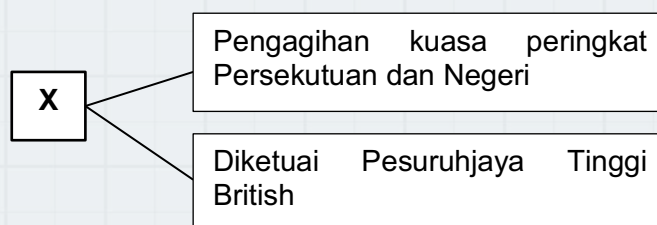
- 10 Apakah kepentingan peristiwa tersebut kepada negara ?

Tarikh	Peristiwa
1999	Perpindahan pentadbiran dari Kuala Lumpur ke Putrajaya.

ms 67

- A Meningkatkan imej negara kepada dunia
- B Menunjukkan kebanggaan senibina negara
- C Memudahkan pembangunan wilayah koridor
- D Membentuk pusat pentadbiran yang sistematik

- 11 Rajah berikut berkaitan sistem pentadbiran yang diperkenalkan oleh British di Tanah Melayu pada tahun 1948.



Apakah X?

ms 67

- A Malayan Union
- B Persekutuan Tanah Melayu
- C Negeri-Negeri Melayu Bersekutu
- D Negeri-Negeri Melayu Tidak Bersekutu

- 12 Bagaimanakah Raja-raja Melayu mentadbir negeri berdasarkan Perjanjian Persekutuan Tanah Melayu 1948?

ms 67

- A Mendapatkan nasihat residen
- B Menggunakan kuasa mutlak
- C Penggubalan undang-undang
- D Berdasarkan perlembagaan negeri

13 Apakah kebaikan pengenalan sistem pemerintahan berikut kepada rakyat Malaysia hari ini?

Tarikh	Peristiwa
1957	Pengamalan Demokrasi berparlimen

ms 67

- A Pembahagian kuasa lebih adil
- B Pemerintah dipilih oleh rakyat
- C Pentadbiran lebih sistematik
- D Pengukuhan sistem persekutuan

14 Maklumat berikut berkaitan latar belakang sistem pentadbiran negara.

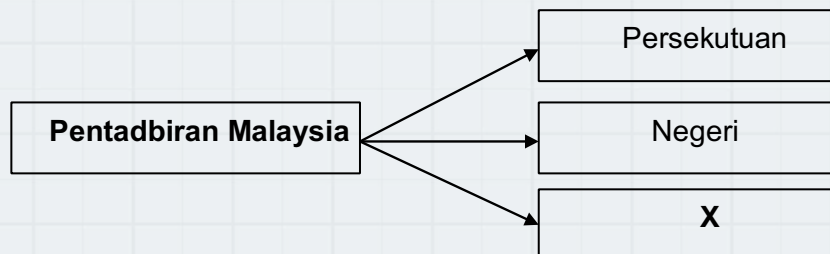
Tarikh	Peristiwa
16 September 1963	Gabungan 11 buah negeri Tanah Melayu, Singapura, Sabah dan Sarawak.

Apakah nama gabungan tersebut?

ms 67

- A Melayu Raya
- B Malaysia
- C Borneo
- D Kalimantan Utara

15 Rajah berikut menunjukkan tiga peringkat pentadbiran dalam kerajaan Malaysia.



Apakah X?

ms 68

- A Jajahan
- B Bahagian
- C Residen
- D Tempatan

- 16 Mengapakah peruntukan kuasa lebih besar diberikan kepada kerajaan Persekutuan?  
ms 68
- I Menjamin kestabilan negara
  - II Menarik kedatangan pelancong luar
  - III Memudahkan pembangunan tanah
  - IV Membentuk sebuah kerajaan yang kuat
- A I dan II
  - B I dan IV
  - C II dan III
  - D III dan IV
- 17 Apakah perkara yang terkandung dalam Senarai Persekutuan mengikut Perlembagaan Malaysia?  
ms 69
- A Kebajikan awam
  - B Kerajaan tempatan
  - C Kebudayaan dan sukan
  - D Keselamatan dalam negara
- 18 Antara yang berikut, perkara manakah yang terkandung dalam Senarai Negeri?  
ms 70
- I Undang-undang Islam
  - II Pertanian dan perhutanan
  - III Pendidikan
  - IV Pertahanan
- A I dan II
  - B I dan IV
  - C II dan III
  - D III dan IV
- 19 Apakah institusi yang menggubal undang-undang dalam senarai berikut ?  
ms 70
- Pertanian
  - Tanah
  - Islam
- A Parlimen
  - B Dewan Negara
  - C Dewan Rakyat
  - D Dewan Undangan Negeri

- 20 Gambar berikut berkaitan dengan kesan bencana alam sekitar yang berlaku di negeri Pahang pada tahun 2022.



ms 70

Siapakah pihak yang bertanggungjawab menangani masalah tersebut?

- A Kerajaan negeri dan kerajaan tempatan
  - B Kerajaan Persekutuan dan kerajaan tempatan
  - C Kerajaan tempatan dan Majlis daerah
  - D Kerajaan Negeri dan Persekutuan
- 21 Antara berikut, manakah perkara yang terletak dalam Senarai Bersama?

ms 70

- I Pelajaran
- II Perumahan
- III Kebudayaan dan sukan
- IV Keselamatan dalam negeri

- A I dan II
- B I dan IV
- C II dan III
- D III dan IV

- 22 Senarai berikut merupakan tambahan pada senarai negeri bagi Sarawak dan Sabah.

- Undang-undang dan adat anak negeri
- Kereta api di Sabah
- X

Apakah X?

ms 70

- A Pengawalan makhluk perosak
- B Mahkamah Anak Negeri
- C Penyelidik Pertanian
- D Perlindungan haiwan liar

23 Maklumat berikut berkaitan peranan pentadbiran Kerajaan Malaysia.

- Membangunkan perumahan awam
- Menyediakan perkhidmatan kecemasan

Apakah peringkat pentadbiran yang menjalankan peranan tersebut?

ms 71

- A Kerajaan Pusat
- B Kerajaan Tempatan
- C Kerajaan Daerah
- D Kerajaan Negeri

24 Bagaimanakah Kerajaan Tempatan boleh mengurangkan masalah banjir di tempat anda?

ms 71

- A Menyelenggara sistem saliran
- B Membangunkan bandar baru
- C Menyediakan pasukan bantuan
- D Mengindahkan kawasan kampung

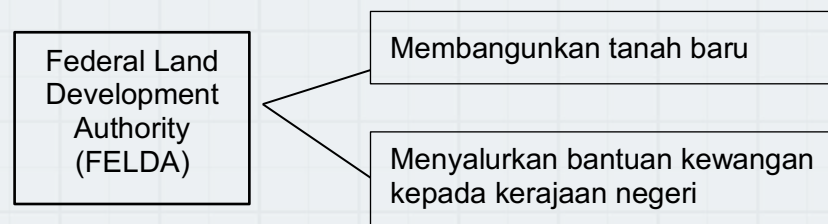
25 Selepas tahun 1970, Kerajaan Persekutuan membuka kawasan yang lebih luas di beberapa buah negeri.

ms 72

Mengapakah tindakan tersebut dilakukan?

- A Menjaga kawalan sempadan
- B Menghapuskan kemiskinan bandar
- C Membangunkan wilayah baharu
- D Meningkatkan pembangunan industri

26 Rajah berikut menerangkan peranan FELDA dalam kesejahteraan kepada rakyat.



Bagaimanakah usaha tersebut memberi manfaat kepada Kerajaan Negeri?

ms 72

- A Memajukan koridor wilayah
- B Membangunkan perumahan
- C Meningkatkan kemajuan ekonomi
- D Meningkatkan pengeluaran makanan

27 Berikut adalah badan berkanun yang ditubuhkan bagi menjayakan pembangunan sosioekonomi negara.

- Lembaga Penyatuan Tanah dan Pemuliharaan Tanah Persekutuan (FELCRA)
- Lembaga Kemajuan Tanah Persekutuan (FELDA)

Apakah faktor kejayaan badan tersebut?

ms 72

- A Keberkesanan Dasar Pertanian Negara
- B Kemajuan teknologi moden dalam pertanian
- C Kepelbagaian kemudahan asas di luar bandar
- D Kerjasama Kerajaan Persekutuan dan Kerajaan Negeri

28 Apakah maksud pembangunan In-Situ?

ms 72

- A Menyelaras kemajuan wilayah
- B Menekankan pembangunan fizikal desa
- C Membangunkan perumahan kos rendah
- D Menstrukturkan semula lokasi penempatan

29 Selepas tahun 2005, kerjasama sosioekonomi dilaksanakan melalui Pembangunan Koridor Wilayah.

Mengapakah rancangan tersebut dilaksanakan?

ms 73

- A Memulihkan kawasan tanah terbiar
- B Membangunkan kawasan perindustrian
- C Meningkatkan daya saing antara kawasan
- D Membangunkan wilayah yang kurang pesat

30 Mengapakah kerajaan menubuhkan agensi berikut?

- Lembaga Kemajuan Wilayah Kedah (KEDA)
- Lembaga Pemuliharaan Tanah Sarawak (SALCRA)
- Lembaga Kemajuan Pahang Tenggara (DARA)

ms 73

- A Membangunkan wilayah baharu
- B Menyeimbangkan pembangunan negeri
- C Memajukan tanah secara berkelompok
- D Memperhebatkan pembukaan tanah

31 Apakah tujuan penubuhan agensi berikut?

- KETENGAH
- PERDA
- KESEDAR

ms 73

- A Meluaskan wilayah baharu
- B Menggabungkan tanah-tanah kampung
- C Memulihkan kawasan produktiviti rendah
- D Membangunkan kawasan bandar

32 Maklumat berikut berkaitan kerjasama Kerajaan Pusat dan Kerajaan Negeri.

Tahun	Rancangan Pembangunan Koridor Wilayah	Wilayah Liputan
2007	Wilayah Ekonomi Pantai Timur atau Esat Coast Economic Region (ECER)	Pahang, Terengganu, Kelantan, Daerah Mersing, Johor.

Apakah peranan Kerajaan Negeri untuk mencapai matlamat tersebut?

ms 73

- A Menghantar tenaga pakar
- B Menyalurkan kewangan
- C Melatih buruh asing
- D Menyediakan tanah

33 Bagaimanakah kerajaan mengekalkan warisan flora dan fauna negara?

ms 74

- I Memperbanyakkan aktiviti penanaman semula
  - II Mempergiatkan pelibatan agensi swasta
  - III Menubuhkan Jabatan Taman Laut Malaysia
  - IV Memperkenalkan Akta Pemuliharaan Hidupan Liar
- A I dan II
  - B I dan IV
  - C II dan III
  - D III dan IV

34 Apakah usaha kerajaan bagi memulihara khazanah laut di negara kita?

ms 75

- A Menguatkuasakan undang-undang
- B Memperbanyakkan aktiviti penyelidikan
- C Membentuk dasar pengurusan taman laut
- D Memberikan insentif kepada kerajaan negeri

35 Apakah matlamat pembinaan projek perumahan berikut?

Program Perumahan Rakyat (PPR)

ms 77

- A Membina perumahan kos rendah
- B Membangunkan kampung baharu
- C Mendirikan rumah mampu milik
- D Membasmi kemiskinan

36 Antara yang berikut, yang manakah merupakan usaha kerajaan untuk menghapuskan kemiskinan?

ms 77

- I Program Perumahan Rakyat (PPR)
  - II Perumahan 1Malaysia (PR1MA)
  - III Pembinaan Rumah Mesra Rakyat
  - IV Program Perumahan Awam Kos Rendah (PAKR)
- A I dan II
  - B I dan IV
  - C II dan III
  - D III dan IV

37 Apakah institusi yang menyelaras kementerian berikut?

- Kementerian Dalam Negeri (KDN)
- Kementerian Pertahanan (KEMENTAH)

ms 78

- A Polis Diraja Malaysia (PDRM)
- B Majlis Keselamatan Negara (MKN)
- C Pertubuhan Keselamatan Sosial (PERKESO)
- D Pejabat Ketua Pegawai Keselamatan Kerajaan (CGSO)

38 Apakah tujuan penubuhan Eastern Sabah Security Command (ESSCOM) pada tahun 2013?

ms 78

- A Membangunkan infrastruktur
- B Membina petempatan baharu
- C Menjaga keselamatan rakyat
- D Memajukan kawasan perairan

39 Apakah majlis yang ditubuhkan untuk menyelaraskan pentadbiran Kerajaan Persekutuan dengan Kerajaan Negeri?

ms 81

- I Majlis Persekutuan Negeri
- II Majlis Khazanah Nasional
- III Majlis Kewangan Negara
- IV Majlis Tanah Negara

- A I dan II
- B I dan IV
- C II dan III
- D III dan IV

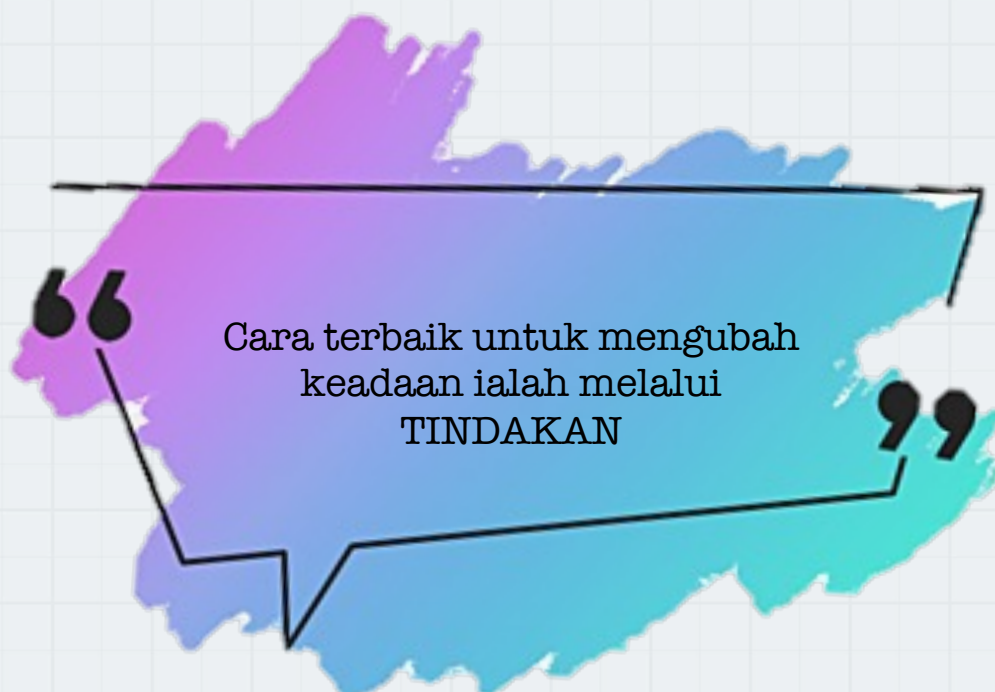
40 Bagaimanakah penyelarasan pentadbiran antara kerajaan persekutuan dengan Kerajaan Negeri berlaku?

ms 80


- A Persidangan dwi tahunan
- B Lawatan kerja secara berkala
- C Pertukaran antara pegawai kerajaan
- D Mesyuarat Menteri Besar dan Ketua Menteri

**PERATURAN PEMARKAHAN  
BAB 4**

NO. SOALAN	KUNCI	MUKA SURAT	NO. SOALAN	KUNCI	MUKA SURAT
1	D	66	21	C	70
2	D	66	22	B	70
3	A	66	23	B	71
4	D	67	24	A	71
5	A	66-67	25	C	72
6	D	65-67	26	C	72
7	A	66	27	D	72
8	A	67	28	B	72
9	B	67	29	D	73
10	D	67	30	A	72
11	B	67	31	A	72
12	D	67	32	D	73
13	B	67	33	D	73
14	B	67	34	C	75
15	D	68	35	D	77
16	B	68	36	B	77
17	D	69	37	B	78
18	A	70	38	C	78
19	D	70	39	C	80
20	D	70	40	D	80



**BAB 5**  
**PEMBENTUKAN MALAYSIA**

- 1 Mengapakah British mengemukakan idea penyatuan wilayahnya di Asia Tenggara? ms 91
- A Memupuk perpaduan
  - B Melakukan imperialisme
  - C Melaksanakan pembaharuan
  - D Memudahkan pentadbiran
- 2 British menyokong rancangan pembentukan Malaysia kerana menyesuaikan dengan dasar dekolonisasi. Apakah maksud dekolonisasi? ms 91
- A Menamatkan darurat
  - B Kuasa autonomi negeri
  - C Proses berkerajaan sendiri
  - D Menghapuskan pemerintahan beraja
- 3 Mengapakah tokoh berikut mencadangkan penggabungan semua tanah jajahan British di Asia Tenggara?
- 

Sir Malcolm MacDonald.
- ms 91
- A Menjamin keselamatan
  - B Menambah pendapatan negara
  - C Membentuk satu entiti politik
  - D Memupuk perpaduan kaum
- 4 Mengapakah Sir Gerald Templer meminta pembentukan Malaysia disegerakan ? ms 91
- A Mengekalkan sistem pemerintahan beraja
  - B Membendung pengaruh komunis
  - C Meningkatkan taraf hidup rakyat
  - D Mengawal kemasukan imigran

5 Berikut adalah Pegawai Tinggi British yang berkhidmat di Tanah Melayu pada abad ke-20.

- Sir Gerald Templer
- Sir Geofroy Tory

Apakah persamaan tokoh tersebut?

ms 91

- A Mencadangkan penggabungan wilayah
- B Merancang pengasingan kuasa
- C Menganggotai Suruhanjaya Cobbold
- D Membubarkan Dewan Parlimen British

6 Tokoh berikut turut mengemukakan idea pembentukan penyatuan wilayah di Asia Tenggara.



Dr. Burhanuddin al-Helmy

Apakah yang beliau perjuangkan?

ms 92

- A Melayu Raya
- B Malaysian Malaysia
- C Borneo Utara
- D Indonesia Raya

- 7 Gambar berikut adalah majalah yang diterbitkan di Tanah Melayu pada tahun 1906.



Apakah seruan majalah tersebut?

ms 92

- A Membantah pengasingan kuasa
  - B Menggesa penyatuan orang Melayu
  - C Menganggotai Suruhanjaya Cobbold
  - D Membubarkan Dewan Parlimen British
- 8 Idea berikut telah diperjuangkan oleh nasionalis radikal di Tanah Melayu sebelum Perang Dunia Kedua.

**Melayu Raya**

Apakah tujuan perjuangan tersebut?

ms 92

- A Memperoleh kemerdekaan
  - B Menyekat pengaruh komunis
  - C Mengukuhkan perpaduan kaum
  - D Melaksanakan sistem demokrasi
- 9 Apakah cadangan Tunku Abdul Rahman terhadap terhadap idea pembentukan Malaysia?

ms 92

- A Mengasingkan Brunei
  - B Memasukkan Sabah dan Sarawak
  - C Menyatukan Tanah Melayu dengan Indonesia
  - D Menggabungkan Tanah Melayu, Sarawak, Sabah, Singapura dan Brunei
- 10 Apakah tujuan Tunku Abdul Rahman Putra al-Haj mencadangkan Singapura menyertai Persekutuan Tanah Melayu?

ms 93

- A Mengukuhkan ekonomi
- B Meningkatkan perpaduan
- C Membendung ancaman komunis
- D Menstabilkan politik serantau

11 Rajah berikut menunjukkan rasional idea pembentukan Malaysia.

- |   |
|---|
| <ul style="list-style-type: none"> <li>• Mempercepat kemerdekaan</li> <li>• Pembangunan wilayah</li> <li>• X</li> </ul> |
|---|

Apakah X?

ms 93

- A Mengelakkan campur luar
- B Menggalakan kemasukan modal asing
- C Mengimbangi komposisi penduduk
- D Memenuhi desakan penduduk tempatan

12 Apakah parti politik di Tanah Melayu yang menyokong idea pembentukan Malaysia?

ms 95

- A SUPP
- B PESAKA
- C BARJASA
- D UMNO

13 Jawatankuasa Setia Kawan Malaysia (JSKM) telah berjaya mengubah pendirian parti politik di Sarawak daripada menentang kepada menyokong idea gagasan Malaysia.

Apakah parti tersebut?

ms 96

- A SNAP
- B PESAKA
- C BARJASA
- D SUPP

14 Senarai berikut merupakan parti politik yang terdapat di Sabah.

Parti
UNKO
USNO
SCA

Apakah persamaan parti tersebut?

ms 96

- A Menuntut wilayah asing
- B Menganjurkan rapat umum
- C Menyokong pembentukan Malaysia
- D Menghantar surat bantahan ke London

15 Mengapakah Presiden Diosdado Pangan Macapagal dari Filipina menentang pembentukan Malaysia?

ms 97

- A Menentang penjajahan baru
- B Dinafikan hak memegang jawatan
- C Menuntut wilayah Sabah
- D Dipengaruhi anasir komunis

- 16 Tokoh berikut telah mengadakan lawatan ke Sarawak dan Sabah semasa proses pembentukan Malaysia.



Dr Burhanuddin al-Helmi



Tun Ghafar Baba

Apakah iktibar yang diperolehi daripada usaha mereka?

ms 98

- A Kecekapan menjalankan tugas  
 B Kemampuan mengekalkan kuasa  
 C Kesepakatan menyelesaikan masalah  
 D Kebijaksanaan mendapatkan sokongan
- 17 Apakah tindakan Tunku Abdul Rahman Putra al-Haj selepas peristiwa berikut?

TARIKH	PERISTIWA
16 Oktober 1961	Usul pembentukan Malaysia diluluskan oleh ahli Dewan Rakyat.

ms 98

- A Membentuk kerjasama politik  
 B Membubarkan Parlimen  
 C Melantik kabinet baharu  
 D Mengadakan lawatan
- 18 Jawatankuasa Setia Kawan Malaysia (JSKM) ditubuhkan pada 23 Julai 1961 semasa Persidangan Ahli-ahli Parlimen Komanwel di Singapura. Apakah tujuan penubuhan jawatankuasa tersebut?

ms 99

- A Mengumpul pandangan tentang pembentukan Malaysia  
 B Menyedia rangka perlembagaan Persekutuan Malaysia  
 C Mencadangkan kuasa autonomi kepada Sabah dan Sarawak  
 D Mengekalkan kuasa imigresen kepada Sabah dan Sarawak
- 19 Siapakah yang dilantik menjadi pengerusi Jawatankuasa Setia Kawan Malaysia (JSKM) ?

ms 99

- A Sir David Watherston  
 B Donald Stephens  
 C Sir Anthony Abell  
 D Temenggung Jugah Anak Barieng

20 Rajah berikut berkaitan usaha pembentukan Persekutuan Malaysia.



ms100

Apakah X?

- A Suruhanjaya Reid
- B Jawatankuasa Eksekutif
- C Suruhanjaya Cobbold
- D Majlis Perundingan Persekutuan

21 Apakah keputusan yang dicapai dalam rundingan London pada bulan November 1961?

ms 100

- A Membentuk suruhanjaya
- B Meluluskan peruntukkan kewangan
- C Menggubal perlembagaan baharu
- D Merangka kerjasama ekonomi

22 Maklumat berikut berkaitan peristiwa yang berlaku pada tahun 1963.

- Referendum Singapura
- Siri lawatan
- Suruhanjaya Cobold

Mengapakah usaha berikut dilaksanakan?

ms 100

- A Menuntut kemerdekaan negara
- B Menubuhkan gagasan Malaysia
- C Menetapkan taraf kewarganegaraan
- D Merangka perlembagaan baharu

23 Rundingan antara kerajaan Persekutuan Tanah Melayu dengan Singapura telah bersetuju satu referendum diadakan pada bulan September 1962.

Apakah tujuan referendum tersebut?

ms 100

- A Mendapat maklum balas penduduk
- B Menyelaras Jawatankuasa Eksekutif
- C Merangka bentuk bantuan ekonomi
- D Memilih ahli Majlis Perundangan

24 Suruhanjaya berikut telah dibentuk secara rasminya pada bulan Januari 1962.

<b>Ahli Suruhanjaya Cobbold</b>
---------------------------------

- |  |
|--|
| <ul style="list-style-type: none"> <li>• Wakil kerajaan British</li> <li>• Wakil Persekutuan Tanah Melayu</li> </ul> |
|--|

Apakah tugas suruhanjaya tersebut?

ms 100

- I Merangka perlembagaan
- II Membuat program penerangan
- III Melawat pusat lawatan
- IV Menyediakan laporan

- A I dan II
- B I dan IV
- C II dan III
- D III dan IV

25 Gambar berikut menunjukkan anggota Suruhanjaya Cobbold yang dibentuk secara rasmi pada bulan Januari pada 1962.



Siapakah tokoh tempatan yang dilantik menganggotai suruhanjaya tersebut?

ms 100

- A Lee Kuan Yew
- B Tun Abdul Razak
- C Tunku Abdul Rahman
- D Muhammad Ghazali Shafie

26 Jawatankuasa berikut telah ditubuhkan pada bulan Ogos 1962.

<b>Jawatankuasa Antara Kerajaan (JAK)</b>
---

Apakah peranan jawatankuasa tersebut?

ms 102

- A Menarik pelaburan asing
- B Membuat kempen penerangan
- C Merangka perlembagaan baharu
- D Menguruskan proses pilihanraya

27 Senarai berikut merujuk kepada Jawatankuasa Antara Kerajaan (JAK).

Jawatankuasa Kecil JAK
<ul style="list-style-type: none"> <li>• Perlembagaan</li> <li>• Kewangan</li> <li>• <b>X</b></li> <li>• Perundangan dan Kehakiman</li> </ul>

Apakah **X**?

ms 102

- A Kebajikan sosial
- B Kewangan
- C Dasar luar
- D Kesihatan Awam

28 Antara berikut, yang manakah merupakan inti pati Perjanjian Malaysia 1963?

ms 103

- I British mengiktiraf hak Filipina ke atas Sabah
- II Brunei dan Singapura sebahagian Malaysia
- III Pembentukan Malaysia pada 31 Ogos 1963
- IV Kelebihan Sarawak menubuhkan kabinet negeri

- A I dan II
- B I dan IV
- C II dan III
- D III dan IV

29 Apakah prinsip utama Perjanjian Malaysia atau Malaysia Agreement (MA63) yang ditandatangani pada Julai 1963?

ms 103

- A Pemerintahan raja berkuasa mutlak
- B Pengagihan kerusi Parlimen sama rata
- C Perhubungan luar di bawah kuasa negeri
- D Pengiktirafan hak yang sama semua negeri

30 Maklumat berikut adalah kandungan dokumen yang ditandatangani oleh kerajaan British, Persekutuan Tanah Melayu, Sarawak, Sabah dan Singapura pada tahun 1963.

- Sarawak, Sabah dan Singapura diterima sebagai ahli dalam Persekutuan Malaysia.
- Kedaulatan Sarawak, Sabah dan Singapura diiktiraf.
- Memberi autonomi kepada Sarawak dan Sabah menubuhkan kabinet negeri.

Apakah dokumen tersebut?

ms 103

- A Persekutuan Tanah Melayu
- B *Malaysia Agreement* (MA63)
- C Pembebasan Sabah dan Sarawak
- D Jawatankuasa Antara Kerajaan (JAK)

- 31 Perjanjian Malaysia 1963 telah memperuntukkan tempoh peralihan masa bagi bidang tertentu di Sabah dan Sarawak. Apakah bidang tersebut? ms 103
- A Kesihatan penduduk
  - B Pentadbiran awam
  - C Pertahanan negeri
  - D Kebudayaan tempatan
- 32 Tarikh asal pembentukan Malaysia 31 Ogos 1963 ditangguhkan kepada 16 September 1963. Mengapakah situasi ini berlaku? ms 104
- A Pembubaran Parlimen Tanah Melayu
  - B Kelewatan laporan Setiausaha PBB
  - C Pemisahan Singapura dari Malaysia
  - D Tindakan ketenteraan Indonesia
- 33 Peristiwa pengisytiharan Malaysia telah dilakukan secara serentak pada 16 September 1963. Di manakah pengisytiharan tersebut dibuat ? ms 104
- I Kuala Lumpur
  - II Singapura
  - III Brunei
  - IV Sarawak
- A I dan II
  - B I dan IV
  - C II dan III
  - D III dan IV
- 34 Siapakah yang diberi tanggungjawab mengumumkan pengisytiharan Malaysia di Sabah? ms 105
- A Datu Mustapha Datu Harun
  - B Tunku Abdul Rahman Putra
  - C Tunku Abdul Razak Hussein
  - D Muhammad Ghazali Shafie
- 35 Mengapakah Indonesia melancarkan konfrontasi? ms 106
- A Menuntut wilayah Sabah
  - B Mengancam kedudukan Indonesia
  - C Mengurangkan kuasa politik Melayu
  - D Menggagalkan konsep Melayu Raya
- 36 Siapakah yang mengumumkan dasar konfrontasi terhadap Malaysia pada 20 Januari 1963? ms 106
- A Soekarno
  - B Suharto
  - C Dr. Subandrio
  - D Adam Malik

37 Mengapakah Parti Komunis Indonesia (PKI) menentang gagasan Malaysia?

ms 106

- A Neokolonialisma baru
- B Tiada persetujuan Belanda
- C Sumber ekonomi terancam
- D Kehilangan jawatan dalam kerajaan

38 Maklumat berikut berkaitan peristiwa penentangan Indonesia terhadap Malaysia.

- Tentera Indonesia mendarat di Tebedu, Sarawak.
- Tembak menembak antara tentera di Kalabakan, Sabah.
- 30 Gerila Indonesia mendarat di Labis, Johor.

Bagaimanakah Malaysia menangani isu tersebut?

ms106

- A Mendesak campur tangan asing
- B Melancarkan sekatan ekonomi
- C Meningkatkan kekuatan persenjataan
- D Membawa usul ke Majlis Keselamatan

39 Tun Abdul Razak Hussein menandatangani perjanjian Persetujuan Normalisasi Hubungan Indonesia-Malaysia di Jakarta pada 11 Ogos 1966. Apakah kesan perjanjian tersebut?

ms 109

- A Hari Malaysia diisytiharkan
- B Hubungan diplomatik terputus
- C Konflik bersenjata tercetus
- D Tamatnya dasar konfrontasi

40 Gambar berikut berkaitan majlis menandatangani Perjanjian Normalisasi di Jakarta pada 11 Ogos 1966.



Apakah kepentingan perjanjian tersebut?

ms 109

- A Pengukuhan hubungan diplomatik
- B Penetapan sempadan perairan
- C Persefahaman dalam budaya
- D Penyelarasan kadar cukai

**PERATURAN PEMARKAHAN  
BAB 5**

NO. SOALAN	KUNCI	MUKA SURAT	NO. SOALAN	KUNCI	MUKA SURAT
1	D	90	21	A	100
2	C	91	22	B	100
3	C	91	23	A	100
4	B	91	24	D	100
5	A	91	25	D	100
6	A	92	26	C	102
7	B	92	27	B	102
8	A	92	28	D	103
9	D	92	29	D	103
10	C	93	30	B	103
11	C	93	31	B	103
12	D	95	32	B	104
13	A	96	33	A	104
14	C	96	34	A	105
15	C	97	35	B	106
16	C	98	36	C	106
17	D	98	37	A	106
18	A	99	38	D	106
19	B	99	39	D	109
20	C	100	40	A	109

“ Perkara yang paling utama  
untuk mencapai MATLAMAT  
ialah mempunyai MATLAMAT ”

**BAB 6**  
**CABARAN SELEPAS PEMBENTUKAN MALAYSIA**

- 1 Persekutuan Malaysia telah ditubuhkan pada 16 September 1963.  
Apakah cabaran dalaman yang dihadapi oleh negara selepas penubuhan tersebut?  
ms 116
- A Kepelbagaian etnik
  - B Kemasukan imigran
  - C Kemelesetan ekonomi
  - D Ketiadaan teknologi
- 2 Sumber ekonomi di Sarawak dan Sabah berjaya meningkatkan jumlah eksport negara pada tahun 1963.  
Apakah sumber tersebut?  
ms 116
- I Koko
  - II Gambir
  - III Bijih timah
  - IV Petroleum
- A I dan II
  - B I dan IV
  - C II dan III
  - D III dan IV
- 3 Apakah usaha yang dilakukan oleh kerajaan dalam membantu penduduk Sarawak dan Sabah menghadapi cabaran sosioekonomi?  
ms 117
- I Menyekat penghijrahan keluar negara
  - II Mengawal kemasukan barangan import
  - III Menyediakan pelbagai tanaman komersial
  - IV Memberikan pendidikan kepada bumiputera
- A I dan II
  - B I dan IV
  - C II dan III
  - D III dan IV
- 4 Apakah masalah yang dihadapi oleh kerajaan untuk membina sistem perhubungan dan pengangkutan di Sarawak dan Sabah?  
ms 117
- A Ketiadaan sokongan penduduk
  - B Kekurangan tenaga buruh
  - C Keselamatan penduduk
  - D Keluasan saiz negeri

- 5 Mengapakah masyarakat di Sarawak dan Sabah tidak mendapat peluang pendidikan yang sempurna pada zaman penjajahan British?
- ms 117
- A Lokasi sekolah di bandar
  - B Perbezaan ideologi politik
  - C Biaya yuran yang tinggi
  - D Terikat dengan adat

- 6 Bagaimanakah kerajaan memastikan penduduk di kawasan pedalaman Sarawak dan Sabah memperoleh pendidikan?
- ms 117
- A Menggalakkan penghijrahan
  - B Memperkenalkan bahasa asing
  - C Memajukan sistem perhubungan
  - D Menyediakan latihan kepada guru

- 7 Maklumat berkaitan krisis perlembagaan di Sarawak pada tahun 1966.

Seramai 21 orang ahli Council Negeri tidak berpuas hati dengan kepimpinan Ketua Menteri Sarawak yang pertama.

Apakah kesan krisis tersebut terhadap Ketua Menteri Sarawak?

ms 118

- A Dipenjarakan
  - B Dibayar pampasan
  - C Dipecat oleh Gabenor
  - D Diminta meletakkan jawatan
- 8 Maklumat berikut berkaitan dengan peristiwa yang berlaku di Sarawak pada Jun 1966.

Stephen Kalong Ningkan telah dipecat sebagai Ketua Menteri Sarawak.

Apakah tindakan beliau selepas peristiwa tersebut?

ms 118

- A Meraih sokongan daripada British
  - B Membawa kes ke Mahkamah Tinggi
  - C Melakukan demonstrasi aman
  - D Mendesak pelantikan semula
- 9 Mengapakah darurat diisytiharkan di Sarawak pada September 1966?
- ms 118
- A Memelihara keamanan negeri
  - B Menamatkan penjajahan barat
  - C Mengatasi masalah perkauman
  - D Membanteras kegiatan kongsi gelap

10 Apakah perkara yang dituntut dalam kempen Malaysian Malaysia yang dilakukan oleh Lee Kuan Yew?

ms 119

- A Pemerintahan bercorak republik
- B Penghapusan institusi beraja
- C Persamaan hak samarata
- D Perubahan sempadan negara

11 Senarai berikut merupakan faktor pemisahan Singapura dalam aspek ekonomi.

- Menuntut pasaran bersama disegerakan
- Mengenakan kadar faedah pinjaman
- X

Apakah X?

ms 119

- A Penguasaan sumber petroleum
- B Penambahan kadar cukai
- C Pembinaan pelabuhan bebas
- D Penubuhan syarikat kerjasama

12 Senarai berikut merupakan tokoh yang terlibat dalam mesyuarat yang diadakan pada 1 Julai 1965.

- Tun Abdul Razak Hussein
- Dr. Ismail Abdul Rahman
- Tan Siew Sin
- V.T. Sambanthan

Apakah perkara yang dipersetujui dalam mesyuarat tersebut?

ms 120

- A Pengisytiharan darurat
- B Pindaan perlembagaan
- C Pemisahan Singapura
- D Pembubaran Parlimen

13 Maklumat berikut berkaitan faktor pemisahan Singapura pada tahun 1965.

- Konflik pemimpin PAP dengan Perikatan
- Menuntut pasaran bersama disegerakan
- Membangkitkan isu antara kaum

Apakah pendekatan yang digunakan oleh Tunku Abdul Rahman dalam menyelesaikan isu tersebut?

ms 120

- A Ugutan
- B Rundingan
- C Manipulasi
- D Desakan

- 14 Ancaman komunis di Sarawak bermula sejak zaman pendudukan Jepun pada tahun 1941.

Bagaimanakah komunis menjalankan kegiatan mereka?

ms 121

- I Melakukan serangan bersenjata
- II Memusnahkan kemudahan awam
- III Mencetuskan sentimen perkauman
- IV Menyekat rancangan pembangunan

- A I dan II
- B I dan IV
- C II dan III
- D III dan IV

- 15 Maklumat berikut berkaitan gerakan politik yang ditubuhkan oleh Parti Komunis Kalimantan Utara.

- Pasukan Rakyat Kalimantan Utara (PARAKU)
- Pasukan Gerila Rakyat Sarawak (PGRS)

Apakah matlamat gerakan politik tersebut?

ms 121

- A Membentuk kerajaan republik
- B Melumpuhkan ekonomi negara
- C Menentang pentadbiran Jepun
- D Meraih sokongan kerajaan British

- 16 Kerajaan telah melaksanakan pelbagai usaha untuk membanteras kegiatan komunis di Sarawak.

Apakah usaha yang dilakukan melalui perang saraf?

ms 121

- I Memperkenalkan kad pengenalan
- II Mengisytiharkan kawasan putih
- III Mengadakan perhimpunan awam
- IV Menubuhkan pasukan keselamatan

- A I dan II
- B I dan IV
- C II dan III
- D III dan IV

- 17 Maklumat berikut berkaitan usaha kerajaan dalam melindungi rakyat daripada ancaman komunis di Sarawak.

- Menempatkan 7500 orang di petempatan baharu.
- 1200 orang berketurunan Hakka dipindahkan ke tiga kawasan petempatan baharu.

Bagaimanakah kerajaan menjamin keselamatan penduduk di petempatan tersebut?  
ms 122

- I Mengenakan perintah berkurung
- II Mengadakan catuan makanan
- III Menambahkan peluang pekerjaan
- IV Mengawal persekitaran dengan ketat

- A I dan II
- B I dan IV
- C II dan III
- D III dan IV

- 18 Dialog berikut mungkin berlaku di Sarawak pada 13 Oktober 1973.

Ketua Menteri : Bong Kee Chok, pemimpin komunis ada menulis surat untuk berunding dengan kita.  
Setiausaha Politik : Harapan kita masalah ini dapat diselesaikan.

Apakah kesan yang berlaku terhadap anggota komunis selepas peristiwa rundingan tersebut?

ms 122

- A Ramai menyerah diri
- B Menerima ganti rugi
- C Hubungan kaum terjejas
- D Dihantar pulang ke negara asal

- 19 Senarai berikut berkaitan operasi ketenteraan yang dilancarkan untuk membanteras ancaman komunis di Sarawak.

Tarikh	Usaha
6 Julai 1965	Operasi Hammer
24 Februari 1970	Operasi Jala Raja
21 Oktober 1973	Operasi Sri Aman

Apakah kejayaan operasi tersebut?

ms 123

- A Menandatangani perjanjian damai
- B Meningkatkan taraf hidup rakyat
- C Memperkenalkan perang saraf
- D Meluaskan sempadan negeri

- 20 Maklumat berkaitan pentadbiran yang diperkenalkan oleh Tun Abdul Razak Hussein di Bahagian Ketiga, Sarawak.

Tarikh	Pentadbiran
26 Mac 1972	Rajang Area Security Command (RASCOM)

Apakah matlamat pentadbiran tersebut?

ms 123

- A Perpaduan kaum
- B Kestabilan politik
- C Keselamatan negara
- D Pembangunan wilayah

- 21 Apakah bentuk ancaman yang dilakukan oleh Parti Komunis Malaya terhadap anggota keselamatan negara di Semenanjung Malaysia?

ms 124

- I Meletupkan jalan raya
- II Membuat serangan hendap
- III Membunuh pegawai kanan polis
- IV Memusnahkan pondok pengawal

- A I dan II
- B I dan IV
- C II dan III
- D III dan IV

- 22 Apakah tuntutan rakyat kepada kerajaan selepas peristiwa berikut berlaku di Kuala Lumpur?

ms 125

Tarikh	Peristiwa
26 Ogos 1975	Komunis mengebom Tugu Negara

- A Mengadakan tempoh berkabung
- B Mengisytiharkan undang-undang darurat
- C Menghantar pulang ahli komunis ke China
- D Memperkenalkan Akta Keselamatan Dalam Negeri

23 Senarai berikut berkaitan usaha mengatasi ancaman komunis di negara kita.

- |   |
|---|
| <ul style="list-style-type: none"> <li>• Strategi Counterinsurgency (COIN)</li> <li>• Operasi Hammer</li> <li>• Rancangan Briggs</li> </ul> |
|---|

Apakah kesan daripada pelaksanaan usaha tersebut?

ms 122 & 125

- I Membentuk kerjasama rakyat
- II Mengembalikan keamanan negara
- III Menggalakkan kemasukan imigran
- IV Mencetuskan penubuhan parti politik

- A I dan II
- B I dan IV
- C II dan III
- D III dan IV

24 Maklumat berikut berkaitan langkah kerajaan menangani ancaman komunis di negara kita.

Negara	Perkara
<ul style="list-style-type: none"> <li>• Kerajaan Malaysia</li> <li>• Kerajaan Thailand</li> </ul>	Perjanjian Kerjasama Sempadan Memerangi Komunis 1976

Apakah perkara yang dipersetujui dalam perjanjian tersebut?

ms 125

- A Memperkenalkan pas lawatan
- B Menawarkan pengampunan
- C Membina pagar sempadan
- D Mendapatkan bantuan luar

25 Maklumat berikut berkaitan dasar kerajaan yang diperkenalkan di negara kita.

<b>Tokoh</b>	Tun Abdul Razak Hussein
<b>Tahun</b>	1966 hingga 1970
<b>Tempat</b>	Bilik Gerakan Pembangunan Negara

Apakah dasar tersebut?

ms 126

- A Dasar Ekonomi Baru
- B Dasar Pembangunan Nasional
- C Rancangan Malaysia Pertama
- D Rancangan Malaysia Kedua

26 Gambar berikut berkaitan tokoh yang berjasa kepada negara kita.



Tun Abdul Razak Hussein

Apakah jawatan yang pernah disandang oleh beliau?

ms 127 & 130

- I Anggota Suruhanjaya Reid
- II Pengasas Pertubuhan UMNO
- III Timbalan Perdana Menteri
- IV Pengerusi MAGERAN

- A I dan II
- B I dan IV
- C II dan III
- D III dan IV

27 Senarai berikut berkaitan isu ekonomi yang perlu dihadapi oleh negara kita.

- Terlalu bergantung pada eksport getah dan bijih timah
- Petani merupakan golongan berpendapatan rendah
- Pertanian komersial kurang diusahakan oleh petani

Bagaimanakah kerajaan mengatasi isu tersebut?

ms 127

- A Menubuhkan pusat latihan teknikal
- B Membentuk integrasi antara penduduk
- C Mempelbagaikan industri pemprosesan
- D Menyusun semula penempatan masyarakat

28 Rancangan Malaysia Pertama telah diperkenalkan untuk menangani isu taraf hidup rakyat yang berbeza.

Bagaimanakah isu ini dapat diatasi ?

ms 128

- A Memperkenalkan industri berat
- B Menggalakkan aktiviti perkilangan
- C Mengadakan hubungan diplomatik
- D Menyusun semula struktur pentadbiran

29 Kerajaan berusaha untuk mengurangkan kadar kelahiran tidak normal dalam kalangan penduduk di negara kita.  
Apakah usaha yang dilakukan untuk menghadapi masalah tersebut?

Ms 128

- A Menyeragamkan pendidikan
- B Menyalurkan bantuan kewangan
- C Menyediakan makanan tambahan
- D Melaksanakan perancang keluarga

30 Apakah tujuan penubuhan pusat latihan vokasional dan teknikal di negara kita?

Ms 128

- I Mengawal kadar inflasi
- II Memilih pemimpin berwibawa
- III Menambah peluang pekerjaan
- IV Mengurangkan pengangguran

- A I dan II
- B I dan IV
- C II dan III
- D III dan IV

31 Maklumat berikut berkaitan peristiwa yang mencetuskan kekacauan di negara kita pada tahun 1969.

Ketegangan antara penyokong parti politik dalam Pilihan Raya Umum Ketiga

Apakah isu yang mencetuskan peristiwa tersebut?

Ms 129

- A Perebutan jawatan
- B Sentimen perkauman
- C Kadar cukai tinggi
- D Penindasan rakyat

32 Pengisytiharan darurat telah dibuat pada 16 Mei 1969 bagi menghentikan rusuhan kaum di negara kita.

Siapakah yang bertanggungjawab membuat pengisytiharan tersebut?

Ms 129

- A Perdana Menteri
- B Ketua Polis Negara
- C Yang di-Pertuan Agong
- D Ketua Panglima Tentera

- 33 Senarai berikut berkaitan langkah kerajaan yang dilakukan dalam tempoh darurat selepas peristiwa 13 Mei 1969.

- |   |
|---|
| <ul style="list-style-type: none"> <li>• Perlembagaan digantung</li> <li>• Berita daripada pihak media perlu ditapis</li> <li>• <b>X</b></li> </ul> |
|---|

Apakah **X** ?

ms 129

- A Penggabungan parti politik
- B Pelaksanaan pilihan raya
- C Perjanjian sempadan negara
- D Penubuhan pusat perlindungan

- 34 Tragedi rusuhan kaum telah berlaku pada 13 Mei 1969. Bagaimanakah kerajaan mengatasi masalah tersebut?

ms 129

- A Membubarkan Parlimen
- B Menyekat pergerakan rakyat
- C Membatalkan Akta Hasutan 1948
- D Menutup pintu sempadan negara

- 35 Maklumat berikut berkaitan usaha yang dilakukan dalam tempoh darurat pada tahun 1969.

- |  |
|--|
| <ul style="list-style-type: none"> <li>• Menapis berita palsu</li> <li>• Menerangkan usaha kerajaan</li> </ul> |
|--|

Apakah pihak yang bertanggungjawab menjalankan usaha tersebut?

ms 130

- A Jabatan Penerangan
- B Majlis Amanah Rakyat
- C Jawatankuasa Muhibah
- D Jawatankuasa Antara Kerajaan

- 36 Makluman berikut berkaitan penubuhan Majlis Gerakan Negara (MAGERAN) di negara kita.

Tarikh	Pengerusi
16 Mei 1969 hingga 23 Februari 1971	Tun Abdul Razak Hussein

Apakah peranan majlis tersebut?

ms 130

- A Mengukuhkan kedudukan pemerintah
- B Mengembalikan keamanan negara
- C Membanteras ancaman komunis
- D Mengadakan pilihan raya umum

- 37 Apakah perkara yang perlu diberi tumpuan oleh Majlis Gerakan Negara (MAGERAN) dalam mengawal ketenteraman negara?

ms 130

- A Perpaduan kaum
- B Pendidikan rakyat
- C Hubungan diplomatik
- D Keselamatan perairan

38 Pasangan manakah yang betul berkaitan langkah memulihkan keadaan negara pada tahun 1969?

ms129-131

Pilihan Jawapan	Nama	Langkah
A	Yang di-Pertuan Agong	Membubarkan Parlimen
B	Raja-raja Negeri Melayu	Meminta rakyat mematuhi undang-undang
C	Jabatan Penerangan	Menguatkuasakan perintah berkurung
D	Jawatankuasa Muhibah	Memagar Kampung Baru

39 Apakah usaha yang dilakukan oleh pemimpin masyarakat dan politik di Perak dalam memulihkan keadaan negara pada tahun 1969?

ms 131

- I Menggubal Akta Hasutan 1948
- II Membuat dasar ekonomi negara
- III Membentuk Jawatankuasa Muhibah
- IV Membantu mengekalkan keamanan

- A I dan II
- B I dan IV
- C II dan III
- D III dan IV

40 Senarai berikut berkaitan peristiwa penting yang berlaku pada tahun 1960-an.

- Pemisahan Singapura 1965
- Darurat di Sarawak 1966
- Tragedi 13 Mei 1969

Apakah persamaan kesan daripada peristiwa tersebut?

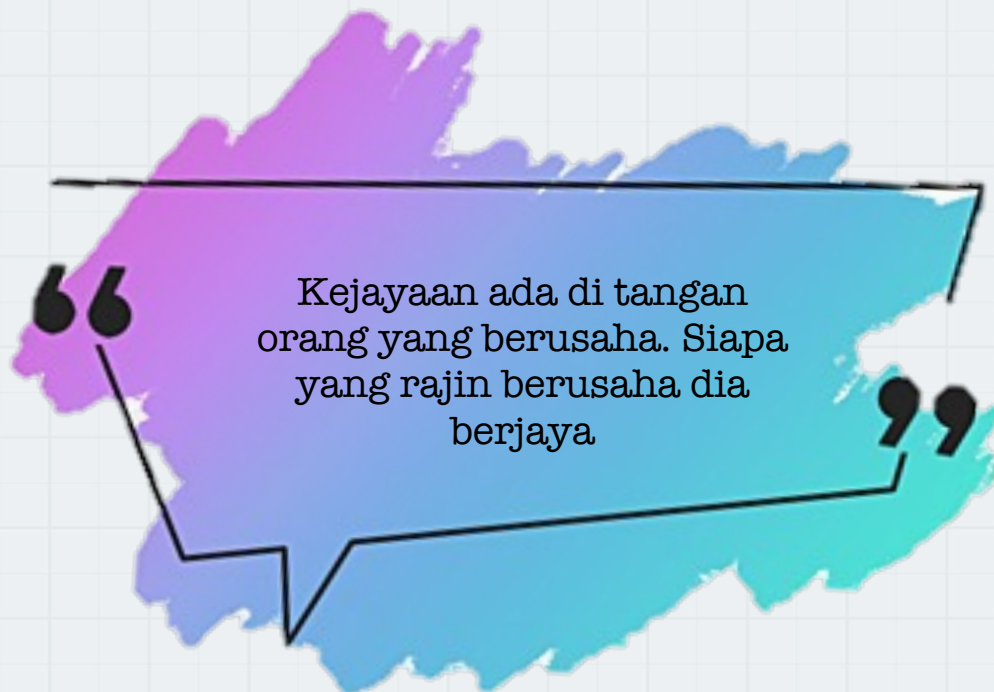
ms 118,119 & 129

- A Kuasa sultan tergugat
- B Kehilangan wilayah gabungan
- C Pertahanan sempadan lemah
- D Keharmonian kaum terjejas

## PERATURAN PEMARKAHAN

## BAB 6

NO	JAWAPAN	MUKA SURAT	NO	JAWAPAN	MUKA SURAT
1	A	116	21	C	124
2	B	116	22	D	125
3	D	117	23	A	125
4	D	117	24	C	125
5	A	117	25	C	126
6	D	117	26	D	127 & 130
7	C	118	27	C	128
8	B	118	28	B	128
9	A	118	29	D	128
10	C	119	30	D	128
11	B	119	31	B	129
12	C	120	32	C	129
13	B	120	33	D	129
14	A	121	34	B	129
15	A	121	35	A	130
16	C	121	36	B	130
17	B	122	37	A	130
18	A	122	38	B	129-131
19	A	123	39	D	131
20	C	123-124	40	D	118,119 & 129



## BAB 7 MEMBINA KESEJAHTERAAN NEGARA

1 Apakah yang dimaksudkan dengan integrasi nasional?

ms 140

- A Pameriksaan jati diri bangsa
- B Penghormatan terhadap perlembagaan negara
- C Pemberian hak rakyat untuk memilih pemerintah
- D Pengukuhan hubungan masyarakat antara negeri dan wilayah

2 Maklumat berikut berkaitan konsep pembinaan negara bangsa Malaysia.

- Perpaduan kaum
- Integrasi Nasional

Apakah teras kedua-dua konsep tersebut?

ms 140

- I Perlembagaan Persekutuan
- II Agama rasmi persekutuan
- III Kewarganegaraan
- IV Rukun Negara

- A I dan II
- B I dan IV
- C II dan III
- D III dan IV

3 Maklumat berikut berkaitan dasar pentadbiran British di Tanah Melayu.

Pekerja dibawa masuk dari luar untuk bekerja dalam perlombongan, perladangan dan perniagaan.

Apakah kesan pelaksanaan dasar tersebut?

ms 141

- A Hubungan kaum renggang
- B Melicinkan pentadbiran
- C Menjejaskan ekonomi
- D Taraf hidup meningkat

4 Mengapakah masalah hubungan antara kaum berterusan sehingga selepas merdeka?

ms141

- A Perkembangan ekonomi tidak memberangsangkan
- B Keselamatan masyarakat tidak diperkasa
- C Penyampaian maklumat tidak berkesan
- D Kehidupan terpisah antara kaum

- 5 Maklumat berikut berkaitan kawasan petempatan masyarakat Tanah Melayu pada abad ke-19 dan 20.

- Kawasan perlombongan
- Kawasan perladangan getah
- Kawasan perkampungan

Apakah kesan situasi tersebut?

ms141

- A Perpindahan penduduk kampung ke bandar
- B Perbezaan ekonomi antara kaum
- C Pertambahan kenderaan awam
- D Peluang pekerjaan terhad

- 6 Apakah kesan pelaksanaan sistem pendidikan vernakular kepada masyarakat Tanah Melayu sebelum dan selepas merdeka?

ms 141

- A Peningkatan budaya
- B Pertambahan penduduk
- C Kepelbagaian pemikiran
- D Keseimbangan ekonomi

- 7 Apakah peranan Majlis Gerakan Negara (MAGERAN) yang ditubuhkan pada tahun 1969?

ms142

- A Menyekat aliran komunisme
- B Merangka satu ideologi negara
- C Membentuk permuafakatan politik
- D Menggubal garis panduan kerjasama antara kaum

- 8 Maklumat berikut berkaitan Majlis Perundingan Negara yang ditubuhkan pada 29 Januari 1970.

- Menyediakan garis panduan bagi kerjasama antara kaum
- Mewujudkan integrasi nasional antara negeri dan wilayah
- X

ms 142

Apakah X?

- A Menyelaras sistem pendidikan kebangsaan
- B Mewujudkan masyarakat penyayang
- C Meningkatkan ekonomi penduduk
- D Memupuk identiti kebangsaan

9 Maklumat berikut berkaitan dasar ekonomi Malaysia.

- Dasar Ekonomi Baru
- Dasar Pembangunan Nasional

Mengapakah dasar tersebut diperkenalkan?

ms 143

- A Menghadkan buruh asing
- B Menghapuskan monopoli barat
- C Memakmurkan ekonomi rakyat
- D Mewujudkan bandar terancang

10 Apakah tujuan kerajaan memperkenalkan rancangan pembangunan tanah selepas merdeka?

ms 143

- A Menghasilkan inovasi dalam penanaman
- B Membina lebih banyak infrastruktur
- C Menyediakan pinjaman pertanian
- D Menambah pendapatan rakyat

11 Senarai berikut merujuk kepada kawasan Zon Perindustrian Bebas di Malaysia.

- Bayan Lepas
- Pasir Gudang
- Pelabuhan Klang

Bagaimanakah aktiviti tersebut merencanakan perkembangan ekonomi negara?

ms 143

- A Menambahbaik penyampaian maklumat
- B Mempromosi hasil kraftangan negara
- C Meningkatkan perkhidmatan bank
- D Memajukan sektor perdagangan

12 Pembangunan ekonomi di wilayah Sarawak dan Sabah dilaksanakan selepas penubuhan Malaysia pada tahun 1963. Apakah faedah yang diperolehi daripada usaha tersebut?

- A Persaingan ekonomi secara adil
- B Perkembangan sektor industri berat
- C Penstrukturan ekonomi mengikut etnik
- D Pertambahan penduduk yang seimbang

13 Apakah kepentingan Rukun Negara kepada warga negara kita?

ms 143

- A Identiti bahasa
- B Suluh kehidupan
- C Tunjang kesetiaan
- D Asas pembangunan

14 Senarai berikut berkaitan sistem pendidikan negara.

- Laporan Rahman Talib
- **X**
- Falsafah pendidikan negara

Apakah **X** ?

ms143

- A Rukun Negara
- B Dewan Bahasa & Pustaka
- C Dasar Pembangunan Nasional
- D Laporan Jawatankuasa Kabinet

15 Maklumat berikut berkaitan Dasar Pendidikan Kebangsaan.

- **X**
- Menyediakan tenaga kerja mahir
- Menggalakkan perkembangan kebudayaan, ekonomi dan politik

Apakah **X**?

ms144

- A Membentuk perpaduan
- B Mengagihkan kekayaan secara adil
- C Meningkatkan hasil keluaran negara
- D Memaksimumkan pendapatan tenaga pengajar

16 Maklumat berikut berkaitan cadangan tambahan Laporan Rahman Talib kepada Penyata Pelajaran 1956.

Penekanan kepada matapelajaran Sejarah

Apakah tujuan cadangan tersebut?

ms 145

- A Menanam perasaan cinta kepada negara
- B Melahirkan modal insan seimbang
- C Membentuk peribadi yang mulia
- D Menggilap bakat pelajar

17 Maklumat berikut berkaitan Kajian Aminuddin Baki.

- Sistem persekolahan aneka jurusan
- Memperkenalkan kursus kemahiran
- **X**

Apakah **X**?

ms 145

- A Penekanan terhadap aktiviti kokurikulum
- B Pelaksanaan institusi pendidikan swasta
- C Mewajibkan mata pelajaran Tatarakyat
- D Mewujudkan sekolah kebangsaan

18 Mengapakah sistem persekolahan aneka jurusan telah diperkenalkan pada tahun 1965?

ms 145

- A Membina jatidiri pelajar
- B Melahirkan tenaga kerja mahir
- C Membentuk pelajar yang seimbang
- D Memajukan bidang keusahawanan

19 Jawatankuasa Kabinet telah ditubuhkan pada September 1974. Apakah fungsi jawatankuasa tersebut?

ms 146

- A Menggubal dasar baharu negara
- B Memperkenalkan kurikulum baharu
- C Memperkukuh penggunaan Bahasa Melayu
- D Mengkaji semula sistem pelajaran kebangsaan

20 Maklumat berikut berkaitan sistem pendidikan negara.

- |  |
|--|
| <ul style="list-style-type: none"> <li>• Menguasai Bahasa Melayu</li> <li>• Menguasai tiga bidang asas iaitu komunikasi, kemanusiaan dan alam sekitar</li> </ul> |
|--|

Apakah sistem pendidikan tersebut?

ms 146

- A Kurikulum standard Sekolah Menengah (KSSM)
- B Kurikulum Baru Sekolah Menengah (KBSM)
- C Kurikulum Baru Sekolah Rendah (KBSR)
- D Falsafah Pendidikan Kebangsaan (FPN)

21 Kurikulum Standard Sekolah Menengah (KSSM) telah bermula pada tahun 2017. Apakah matlamat kurikulum tersebut?

ms 146

- A Pengenalan aneka jurusan
- B Pendidikan awal kanak-kanak
- C Pemantapan bahasa kebangsaan
- D Penguasaan kemahiran abad ke-21

22 Maklumat berikut berkaitan dasar pendidikan negara.

Tahun	Dasar
1956	Penyata Jawatankuasa Pelajaran 1956
1960	Laporan Rahman Talib
1974	Jawatankuasa Kabinet
1996	<b>X</b>

**X** merujuk kepada

ms 147

- A Akta Pelajaran
- B Akta Pendidikan
- C Kajian Aminuddin Baki
- D Akta Bahasa Kebangsaan

23 Apakah kepentingan penubuhan sekolah menengah kebangsaan berikut?

- Sekolah Alam Shah
- Sekolah Seri Puteri
- Kolej Sultan Abdul Halim

ms148

- A Melatih tenaga mahir
- B Merintis perpaduan kaum
- C Menempatkan pelajar luar bandar
- D Memartabatkan penggunaan Bahasa Melayu

24 Gambar berikut adalah logo Institut Alam dan Tamadun Melayu (ATMA ).



Apakah fungsi institusi tersebut?

ms 149

- A Penyelidikan kebudayaan Melayu
- B Penterjemahan karya asing
- C Penerbitan buku ilmiah
- D Percetakan Al Quran

25 Institut Bahasa, Kesusteraan dan Kebudayaan Melayu (IBKKM) telah ditubuhkan pada 1 Disember 1972.

Apakah tujuan penubuhan institusi tersebut?

ms 149

- A Perkembangan Ilmu Falak
- B Penterjemahan karya asing
- C Penyelidikan tamadun Melayu
- D Pengembangan sastera Melayu

26 Gambar berikut adalah logo Dewan Bahasa dan Pustaka (DBP).



Apakah peranan institusi tersebut ?

ms 149

- A Menterjemah karya asing
- B Memartabatkan bahasa Melayu
- C Melatih guru-guru bahasa Melayu
- D Meluluskan Akta Bahasa Kebangsaan

27 Senarai berikut merupakan tokoh yang telah menerima pengiktirafan daripada Universiti Kebangsaan Malaysia (UKM).

- Muhammad Haji Salleh
- Siti Zainon Ismail

Apakah pengiktirafan tersebut?

ms 149

- A Tokoh Pendidik
- B Profesor Emeritus
- C Tokoh Maal Hijrah
- D Sasterawan Negara

28 Gambar berikut merupakan logo slogan yang telah dilancarkan oleh Dewan Bahasa dan Pustaka (DBP) pada tahun 1960.



Apakah hasrat yang hendak dicapai melalui slogan tersebut?

ms 149

- A Pengembangan karya sastera
- B Pengukuhan jiwa melalui bahasa
- C Pembinaan masyarakat bersatu padu
- D Penggunaan bahasa Melayu di sekolah

29 Mengapakah dasar berikut dibentuk oleh kerajaan?

Dasar Kebudayaan Kebangsaan

ms 150

- I Menghalang kemasukan pengaruh barat
  - II Mengawal penggunaan bahasa asing
  - III Mengukuhkan perpaduan bangsa
  - IV Memelihara identiti kebangsaan
- A I dan II
  - B I dan IV
  - C II dan III
  - D III dan IV

30 Gambar berikut berkaitan program yang dianjurkan di negara kita.



Apakah tujuan penganjuran program tersebut?

ms 151

- A Memperlihatkan keindahan flora
- B Mempromosi pelancongan negara
- C Menyuburkan minda generasi muda
- D Mengiktiraf sumbangan budayawan tempatan

31 Senarai berikut merupakan tokoh-tokoh negara.

- Hamzah Dolmat
- Mathew Ngau Jau
- Samuel Dass

Apakah sumbangan tokoh tersebut?

ms 151

- A Penggiat penulisan kreatif
- B Penggiat seni budaya Melayu
- C Penggiat seni muzik tradisional
- D Penggiat bahasa dan kesusasteraan

32 Maklumat berikut berkaitan usaha kerajaan menuju ke arah kecemerlangan sukan negara.

1 Murid 1 Sukan

Ms 152

Bagaimanakah dasar tersebut memberi manfaat kepada pelajar?

- A Mewajibkan acara sukan antarabangsa
- B Meneroka permasalahan sukan negara
- C Mengetengahkan tokoh sukan tradisi
- D Memupuk semangat setia kawan

33 Gambar berikut merupakan logo badan sukan di negara kita.



Apakah matlamat penganjuran kedua-dua sukan tersebut?

ms 153

- A Mengumpul dana
- B Mencipta rekod dunia
- C Memupuk integrasi nasional
- D Menyasarkan pungutan pingat

34 Malaysia pernah menjadi tuan rumah bagi acara sukan berikut.

- Sukan Permotoran Formula One
- Sukan basikal Le Tour de Langkawi

Apakah faedah penganjuran sukan antarabangsa tersebut terhadap negara kita?

ms 153

- I Mencari tokoh sukan negara
  - II Meningkatkan disiplin peserta
  - III Menarik minat pasukan ternama dunia
  - IV Mendapat pengiktirafan peringkat antarabangsa
- A I dan II
  - B I dan IV
  - C II dan III
  - D III dan IV

35 Slogan "Malaysia Boleh" telah digunakan buat pertama kali dalam acara

ms 155

- A Kejohanan Olahraga Paralimpik Dunia 2016
- B Kehohanan Piala Thomas dan Uber 1992
- C Kejohanan Hoki Piala Dunia 1975
- D Sukan Olimpik Moscow 1980

36 Rukun negara telah dibentuk ekoran peristiwa 13 Mei 1969. Apakah agensi yang terlibat dalam pembentukan tersebut?

ms 157

- A Majlis Perundingan Negara
- B Majlis Keselamatan Negara
- C Institut Alam dan Tamadun Melayu
- D Institut Pentadbiran Awam Negara

37 Gambar berikut merupakan logo sambutan 50 tahun Rukun Negara.



Apakah yang dimaksudkan dengan lima jalur dalam logo tersebut?

ms 157

- A Kesetiaan kepada Raja
- B Lima prinsip Rukun Negara
- C Prinsip kepercayaan kepada Tuhan
- D Amalan perpaduan dan kesusilaan

38 Maklumat berikut berkaitan matlamat Rukun Negara.

Bebas mengamalkan agama, adat resam serta kebudayaan masing-masing sesuai dengan kepentingan perpaduan negara.

ms 158

Apakah matlamat tersebut?

- A Mewujudkan masyarakat liberal
- B Mendukung masyarakat yang adil
- C Memelihara cara hidup demokratik
- D Mencipta satu bangsa yang bersatu

39 Keluhuran perlembagaan merupakan antara prinsip Rukun Negara. Apakah yang dimaksudkan dengan keluhuran?

ms 159

- A Kesetiaan
- B Kedaulatan
- C Kepercayaan
- D Ketertinggian

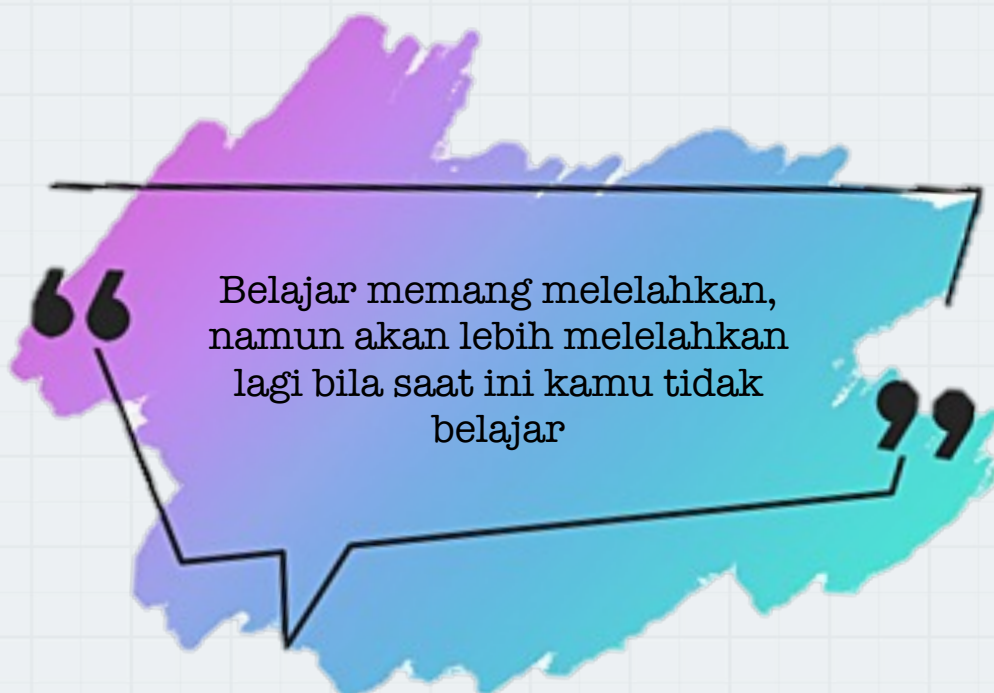
40 Prinsip Rukun Negara yang kelima ialah Kesopanan dan Kesusilaan. Apakah matlamat prinsip tersebut?

ms 159

- A Menghormati simbol kedaulatan negara
- B Memelihara kedaulatan undang-undang
- C Menjamin hubungan baik sesama kaum
- D Membentuk keperibadian yang baik

**PERATURAN PEMARKAHAN  
BAB 7**

SOALAN	JAWAPAN	MUKA SURAT	SOALAN	JAWAPAN	MUKA SURAT
1	D	140	21	D	146
2	B	140	22	B	147
3	A	141	23	D	148
4	D	141	24	A	149
5	B	141	25	C	149
6	C	141	26	B	149
7	B	142	27	D	149
8	D	142	28	C	149
9	C	143	29	D	150
10	D	143	30	B	151
11	D	143	31	C	151
12	A	143	32	D	152
13	C	143	33	C	153
14	D	143	34	D	153
15	A	144	35	B	155
16	A	145	36	A	157
17	D	145	37	B	157
18	B	145	38	A	158
19	D	146	39	D	159
20	C	146	40	C	159



## BAB 8 MEMBINA KEMAKMURAN NEGARA

- 1 Maklumat berikut berkaitan rancangan pembangunan ekonomi dan perpaduan negara.

<b>X</b>	<ul style="list-style-type: none"> <li>• Dilaksanakan dari tahun 1970 hingga 1990</li> <li>• Dilancarkan melalui Rangka Rancangan Jangka Panjang Pertama (RRJP 1)</li> </ul>
----------	--

Apakah X?

ms166

- A Dasar Belia Negara
- B Dasar Ekonomi Baru
- C Dasar Kebudayaan Kebangsaan
- D Dasar Pendidikan Kebangsaan

- 2 Senarai berikut berkaitan tokoh ekonomi yang terlibat dalam pembentukan dasar negara Malaysia.

Tokoh	Negara
Dr Rais Saniman	Malaysia
Dr Just Faaland	Norway
Dr Jack R Parkinson	Britain

Apakah sumbangan tokoh tersebut?

ms 166

- A Menggubal dasar luar
- B Merangka dasar ekonomi
- C Merancang dasar pentadbiran
- D Mengemaskini dasar perundangan

- 3 Apakah agensi yang ditubuhkan oleh kerajaan bagi menjayakan dasar berikut?

Dasar Ekonomi Baru (DEB)

ms 166

- A Majlis Perundingan Negara (MAPEN)
- B Majlis Gerakan Negara (MAGERAN)
- C Jawatankuasa Antara Kerajaan (JAK)
- D Jawatankuasa Setia Kawan Malaysia (JSKM)

- 4 Apakah tujuan Dasar Ekonomi Baru (DEB) diperkenalkan?

ms166

- A Meningkatkan eksport
- B Menggalakkan pelaburan asing
- C Memperkenalkan teknologi baru
- D Memulihkan ketidakseimbangan kaum

5 Apakah agensi yang dianggotai tokoh berikut?

- Dr. Rais Saniman
- Dr. Just Faaland
- Dr. Jaek R.Parkinson

ms 166

- A Lembaga Kemajuan Tanah Persekutuan (FELDA )  
 B Majlis Gerakan Negara (MAGERAN)  
 C Majlis Perundingan Negara (MAPEN)  
 D Majlis Amanah Rakyat (MARA)

6 Maklumat berikut berkaitan Dasar Ekonomi Baru (DEB).

Mencapai perpaduan dan kesejahteraan kaum dengan menggunakan strategi serampang dua mata.

Bagaimanakah matlamat tersebut boleh dicapai?

ms167

- A Memantapkan nilai murni  
 B Melancarkan proses perbandaran  
 C Menyusun semula masyarakat  
 D Menggalakkan penglibatan swasta

7 Pendekatan berikut adalah salah satu langkah yang digunakan kerajaan bagi mencapai matlamat Dasar Ekonomi Baru (DEB).

<b>Tujuan</b>	Meningkatkan Taraf Hidup Rakyat
<b>Sasaran</b>	Penduduk miskin luar bandar

Apakah cara bagi mencapai matlamat tersebut?

ms 168

- I Membuka tanah baharu  
 II Menggalakkan pelaburan asing  
 III Menubuhkan syarikat Kerjasama  
 IV Memperkasa Gerakan Koperasi

- A I dan II  
 B I dan IV  
 C II dan III  
 D III dan IV

8 Maklumat berikut berkaitan rancangan kerajaan dalam pembangunan negara.

Rancangan Buku Hijau

Mengapakah kerajaan mengambil langkah tersebut?

ms 169

- A Menggunakan teknologi hijau  
 B Memantapkan integriti pegawai  
 C Menambah pendapatan rakyat  
 D Menggalakkan pelaburan asing

- 9 Apakah agensi yang ditubuhkan untuk meningkatkan taraf hidup nelayan? ms 169
- A Lembaga Pertubuhan Peladang (LPP )
  - B Lembaga Kemajuan Ikan Malaysia (LKIM )
  - C Lembaga Beras dan Padi Negara (BERNAS)
  - D Rubber Industry Smallholder Development Authority (RISDA)

- 10 Mengapakah Tun Abdul Razak memperkenalkan Rancangan Buku Hijau pada tahun 1974? ms169
- A Meningkatkan pengeluaran makanan
  - B Melahirkan pembangunan lestari
  - C Membuka petempatan baru
  - D Mewujudkan pasar tani

- 11 Agensi berikut ditubuhkan bagi memastikan matlamat DEB tercapai.

Agensi	Peranan
LKIM	Memodenkan industri perikanan negara
BERNAS	Menstabilkan harga padi
RISDA	<b>X</b>

Apakah **X**?

- ms169
- A Mengawal selia harga padi
  - B Menyediakan kemudahan asas
  - C Meningkatkan pendapatan koperasi
  - D Membantu penanaman semula getah
- 12 Maklumat berikut berkaitan sebuah agensi di bawah Dasar Ekonomi Baru (DEB ).

- |  |
|--|
| <ul style="list-style-type: none"> <li>• Pembukaan tanah baharu</li> <li>• Rakyat diberi tanah 10 ekar untuk diusahakan</li> <li>• Kemudahan infrastruktur disediakan</li> </ul> |
|--|

Apakah agensi tersebut?

- ms 170
- A Lembaga Kemajuan Tanah Persekutuan (FELDA)
  - B Lembaga Kemajuan Ikan Malaysia (LKIM)
  - C Lembaga Beras dan Padi Negara (LPN)
  - D Lembaga Pertubuhan Peladang (LPP)

- 13 Kerajaan telah menubuhkan beberapa agensi bagi melaksanakan pembangunan wilayah terutama dalam industri getah dan kelapa sawit. Apakah agensi tersebut? ms 171

- I Majlis Amanah Rakyat (MARA)
  - II Beras Nasional (BERNAS)
  - III Lembaga Kemajuan Johor Tenggara (KEJORA)
  - IV Lembaga Kemajuan Terengganu Tengah (KETENGAH)
- A I dan II
  - B I dan IV
  - C II dan III
  - D III dan IV

- 14 Kerajaan berusaha untuk menambah pemilikan saham bumiputera dalam sektor korporat.

Apakah bentuk saham yang telah diperkenalkan?

ms 172

- I Amanah Saham Wawasan
- II Amanah Saham Bumiputera
- III Amanah Saham Nasional
- IV Amanah Saham Malaysia

- A I dan II
- B I dan IV
- C II dan III
- D III dan IV

- 15 Apakah matlamat yang ingin dicapai oleh kerajaan melalui pengenalan industri kecil dan sederhana (IKS)?

ms172

- A Meningkatkan kepakaran tempatan
- B Melahirkan usahawan muda
- C Menggalakkan pelaburan luar
- D Mewujudkan golongan professional

- 16 Senarai berikut berkaitan institusi pendidikan di negara kita.

- Maktab Perguruan Teknik
- Politeknik
- Universiti Teknologi Malaysia
- Universiti (Institut ) Teknologi MARA

Apakah persamaan institusi tersebut?

ms 173

- A Melatih pegawai awam
- B Menyedia peluang pekerjaan
- C Menawarkan kursus kemahiran
- D Menggalakkan industri pelancongan

- 17 Maklumat berikut berkaitan langkah kerajaan dalam pembangunan negara.

Dasar Pembangunan Nasional (DPN) 1991 - 2000

Bagaimanakah dasar tersebut boleh tercapai?

ms174

- A Pengurangan pelaburan asing
- B Pemodenan pendidikan swasta
- C Peningkatan pendapatan kerajaan
- D Pembangunan seimbang antara negeri

- 18 Bagaimanakah strategi DPN boleh dicapai melalui Kemudahan Fizikal dan Alam Sekitar?

ms175

- A Meningkatkan kemasukan pelajar asing
- B Merancang pembangunan yang mampan
- C Menubuhkan pusat pendidikan swasta
- D Mempelbagaikan teknologi kreatif

19 Apakah strategi asas DEB yang diteruskan dalam pelaksanaan DPN?

ms 176

- I Membentuk masyarakat berdaya saing
- II Menyusun semula masyarakat
- III Membasmi kemiskinan
- IV Memupuk perpaduan kaum

- A I dan II
- B I dan IV
- C II dan III
- D III dan IV

20 Senarai berikut berkaitan institusi kemahiran di Malaysia.

- Pusat Latihan kemahiran Giatmara
- Institut Latihan Perindustrian (ILP)

Apakah peranan institusi tersebut?

ms 176

- I Menjalankan kajian
- II Menyediakan modal
- III Meningkatkan kemahiran
- IV Mewujudkan pendapatan tinggi

- A I dan II
- B I dan IV
- C II dan III
- D III dan IV

21 Pernyataan berikut merujuk kepada usaha kerajaan dalam menyusun semula masyarakat.

Pembentukan Masyarakat Perdagangan dan Perindustrian Bumiputera (MPPB)

Apakah tujuan pembentukan tersebut?

ms 177

- A Meningkatkan daya saing
- B Meningkatkan pemilikan saham
- C Menyusun semula masyarakat
- D Menambah pendapatan rakyat

22 Maklumat berikut berkaitan sektor yang menjadi tumpuan dalam membentuk Masyarakat Perdagangan dan Perindustrian Bumiputera.

Meningkatkan tenaga kerja dan penyertaan bumiputera dalam sektor moden.

Apakah sektor tersebut?

ms 177

- A Pengurusan kewangan dan insurans
- B Pembuatan dan perkhidmatan
- C Penternakan dan peladangan
- D Pengurusan perniagaan

23 Maklumat berikut berkaitan agensi kerajaan di Malaysia.

- |  |
|--|
| <ul style="list-style-type: none"> <li>• MARA</li> <li>• PERNAS</li> <li>• PKEN</li> </ul> |
|--|

Apakah persamaan agensi tersebut?

ms178

- A Penswastaan syarikat
- B Pemodenan pengurusan
- C Penyusunan pentadbiran
- D Penggalakan pelaburan modal

24 Konsep pertanian pintar telah dipraktikkan bagi memudahkan bidang pertanian. Apakah agensi yang ditubuhkan bagi mencapai matlamat tersebut?

ms179

- A Majlis Amanah Rakyat (MARA)
- B Lembaga Kemajuan Tanah Persekutuan (FELDA)
- C Rubber Industry Smallholders Development Authority (RISDA)
- D Malaysia Agricultural Research and Development Institute (MARDI)

25 Apakah teknologi yang digunakan dalam konsep pertanian pintar?

ms 179

- A Dron
- B Kimpalan
- C Kapal korek
- D Jentera penuai

26 Jadual berikut berkaitan kadar kemiskinan negara Malaysia

Tahun	Kadar Penurunan Kemiskinan
1970	49.3%
1990	17.1%
2000	7.2%

Mengapakah berlaku penurunan tersebut?

ms 180

- A Kemasukan buruh luar
- B Kawalan harga barang
- C Kemudahan infrastruktur
- D Keberkesanan dasar kerajaan

27 Maklumat berikut berkaitan dasar kerajaan dalam pembangunan negara.

- Dasar Ekonomi Baru (DEB)
- Dasar Pembangunan Negara (DPN)

Apakah kesan pelaksanaan dasar tersebut dari aspek sosial?

ms180

- I Peningkatan kualiti hidup
- II Pelaburan modal luar negara
- III Perindustrian berteknologi tinggi
- IV Penurunan kadar kemiskinan

- A I dan II
- B I dan IV
- C II dan III
- D III dan IV

28 Apakah pekerjaan golongan pertengahan yang wujud menerusi pelaksanaan DEB dan DPN di negara kita?

ms181

- I Arkitek
- II Pensyarah
- III Ahli Politik
- IV Ahli Korporat

- A I dan II
- B I dan IV
- C II dan III
- D III dan IV

29 Senarai berikut berkaitan tokoh korporat yang berjaya dalam bidang perdagangan dan perindustrian bumiputera.

- Tan Sri Azman Hashim
- Tan Sri Syed Mokhtar al-Bukhari
- Tan Sri Mustapha Kamal

Apakah sumbangan mereka kepada negara?

ms182

- A Menjadi pegawai diplomatik
- B Menyediakan peluang pekerjaan
- C Mengekalkan budaya bangsa
- D Memodenkan pentadbiran negara

30 Maklumat berikut berkaitan sistem perhubungan dan pengangkutan negara.

- KLIA
- MRT
- Komuter

Apakah kesan yang diperolehi daripada kemajuan sistem tersebut?

ms 183

- A Membuka tanah baharu
- B Menjamin keselamatan serantau
- C Pemodenan pengangkutan awam
- D Penggunaan teknologi hijau

- 31 Berikut adalah kemudahan infrastruktur yang dibina melalui program perkembangan wilayah di Pahang.

- UiTM Kampus Jengka
- Stadium Bandar Tun Abdul Razak, Jengka

Apakah manfaat pembinaan infrastruktur tersebut?

ms184

- A Kemajuan bidang sukan
- B Kemunculan bandar baharu
- C Peningkatan aktiviti pelancongan
- D Pertambahan golongan professional

- 32 Apakah daerah yang terlibat dalam projek Segitiga Jengka di Pahang?

ms184

- I Temerloh
- II Jerantut
- III Bentong
- IV Kuantan

- A I dan II
- B I dan IV
- C II dan III
- D III dan IV

- 33 Apakah projek berteknologi tinggi yang menjadi pemacu kemajuan ekonomi negara di Bintulu, Sarawak?

ms185

- A Limbungan kapal
- B Loji gas cecair
- C Stesen janakuasa
- D Penapis petroleum

- 34 Jadual berikut berkaitan usaha kerajaan di bawah DEB dan DPN.

- Taman Teknologi Perindustrian Kulim Kedah
- Zon Perindustrian Bebas, Pelabuhan Klang

Mengapakah kerajaan memperkenalkan kawasan perindustrian tersebut?

ms186

- A Menarik pelaburan asing
- B Mengawal penggunaan buruh
- C Mengatasi kesesakan trafik
- D Mengelakkan pencemaran alam

- 35 Senarai berikut berkaitan kawasan perindustrian di negara ini

- Estet Perindustrian
- Taman Teknologi Perindustrian
- Zon Perindustrian Bebas

Apakah rasionalnya kerajaan memperkenalkan kawasan perindustrian berikut?

ms 186

- A Mengelakkan masalah setingan
- B Mempunyai sumber bahan mentah
- C Mengawal penyeludupan barangan
- D Memenuhi tuntutan pelabur

36 Apakah kawasan perindustrian yang diberi pelepasan atau tarif sebagai insentif kerajaan?

ms 186

- A Estet Perindustrian
- B Industri Kecil Sederhana
- C Zon Perindustrian Bebas
- D Taman Teknologi Perindustrian

37 Taman teknologi Perindustrian merupakan pusat penyelidikan dan pembangunan industri.

Apakah agensi yang mengurus pusat tersebut?

ms 186

- A Kementerian Pembangunan Luar Bandar dan Wilayah
- B Kementerian Sains, Teknologi dan Inovasi Malaysia
- C Kementerian Pembangunan Usahawan dan Koperasi
- D Kementerian Perdagangan Antarabangsa dan Industri

38 Senarai berikut berkaitan syarikat otomotif di Malaysia.

- PROTON
- PERODUA
- MODENAS

Apakah kesan kewujudan industri tersebut kepada negara?

ms187

- A Membuka peluang pekerjaan
- B Meningkatkan pelaburan asing
- C Menyediakan khidmat nasihat
- D Menggalakkan pemilikan saham

39 Penubuhan HICOM dan Kajian Dasar Perindustrian Malaysia pada tahun 1983 telah menyemarakkan industri otomotif negara.

Apakah syarikat yang terlibat dalam industri tersebut?

ms 187

- I HONDA
- II PROTON
- III MODENAS
- IV TOYOTA

- A I dan II
- B I dan IV
- C II dan III
- D III dan IV

40 Apakah nilai yang diperoleh daripada pencapaian berikut?

Pembuatan kenderaan jenama Malaysia

ms 187

- A Tabah
- B Inovatif
- C Toleransi
- D Jujur

**PERATURAN PEMARKAHAN  
BAB 8**

SOALAN	JAWAPAN	MUKA SURAT	SOALAN	JAWAPAN	MUKA SURAT
1	B	166	21	C	177
2	B	166	22	B	177
3	A	166	23	A	178
4	D	166	24	D	179
5	C	166	25	A	179
6	C	167	26	D	180
7	B	168	27	B	180
8	C	169	28	A	181
9	B	169	29	B	182
10	A	169	30	C	183
11	D	169	31	B	184
12	A	170	32	A	184
13	D	171	33	B	185
14	C	172	34	A	186
15	B	172	35	B	186
16	C	173	36	C	186
17	D	174	37	B	186
18	B	175	38	A	187
19	C	176	39	C	187
20	D	176	40	B	187

“  
Jika anda benar-benar mahu  
melakukan sesuatu dalam  
hidup anda perlu mencari jalan  
bukannya mencari alasan  
”

## BAB 9 DASAR LUAR MALAYSIA

- 1 Maklumat berikut berkaitan kerajaan-kerajaan Melayu yang mempunyai hubungan luar dengan China.

- Kerajaan P'an-p'an
- Langkasuka
- Chih-tu

Hubungan luar tersebut dilaksanakan melalui

ms 194

- A penghantaran utusan
- B penaklukan tentera
- C perkahwinan diraja
- D penukaran hadiah

- 2 Kerajaan Kesultanan Melayu Melaka telah menjalinkan hubungan dengan pelbagai kerajaan pada awal abad ke 15 dan 16. Bagaimanakah hubungan tersebut terjalin?

ms 194

- I diplomatik
- II perkahwinan
- III kebudayaan
- IV perdagangan

- A I dan II
- B I dan IV
- C II dan III
- D III dan IV

- 3 Maklumat berikut berkaitan dasar luar negara kita selepas merdeka.

Tokoh	Dasar luar
Tunku Abdul Rahman	<b>X</b>
Tun Abdul Razak	Tidak memihak kepada mana-mana negara

Apakah X?

ms195

- A Berkecuali
- B Buka pintu
- C Pro Barat
- D Pandang ke timur

- 4 Mengapakah dasar luar penting kepada Malaysia?

ms 196

- A Memudahkan perancangan negara
- B Meningkatkan produktiviti negara
- C Menentukan masa depan negara
- D Mempengaruhi tindakan negara

5 Maklumat berikut berkaitan sebuah kementerian di negara kita.

- Dikenali sebagai Kementerian Hal Ehwal Negeri pada peringkat awal.
- Nama baharu kementerian ini ialah Kementerian Luar Negeri.
- Beroperasi di Wisma Putra.

Apakah fungsi kementerian tersebut?

ms 196

- A Menggubal dasar luar negara
- B Mengurus pentadbiran negara
- C Melicinkan urusan perdagangan
- D Menyelaras kedatangan pelancong

6 Maklumat berikut berkaitan faktor penggubalan dasar luar Malaysia.

ms 197

- Ikatan sejarah
- Keperluan nasional
- Kepimpinan
- X

X merujuk kepada

- A Nilai Sejarah
- B Persekitaran luar
- C Kepentingan negara
- D Kebolehan pemimpin

7 Malaysia telah lama menjalinkan hubungan dengan negara berikut.

- Arab Saudi
- Yaman
- Mesir

Apakah faktor yang mempengaruhi hubungan tersebut?

ms 197

- A Ikatan keagamaan
- B Latihan persenjataan
- C Kepentingan pertahanan
- D Persamaan sumber ekonomi

8 Negara kita menjalinkan hubungan dengan semua negara tanpa mengira ideologi.

Apakah manfaat yang diperoleh negara daripada situasi tersebut?

ms 197

- A Penguatkuasaan undang-undang
- B Perkongsian sempadan
- C Pertambahan penduduk
- D Penguatan ekonomi

9 Penggubalan dasar luar Malaysia telah berubah beberapa kali selepas kemerdekaan.

Apakah faktor yang mempengaruhi situasi tersebut?

ms197

- A Kekayaan hasil bumi
- B Desakan pemimpin serantau
- C Kecekapan perkhidmatan awam
- D Perkembangan politik antarabangsa

- 10 Pertubuhan Bangsa-Bangsa Bersatu (PBB) telah ditubuhkan pada tahun 1945. Apakah matlamat pertubuhan tersebut?
- ms 198
- A Memajukan kegiatan perdagangan
  - B Membentuk pakatan ketenteraan
  - C Memastikan keamanan dunia
  - D Membantu negara miskin

- 11 Maklumat berikut berkaitan amalan negara kita dalam konteks hubungan antarabangsa.

Hidup bersama secara aman

Bagaimanakah Malaysia memenuhi aspirasi tersebut?

ms 198

- A Menyertai misi pengaman
  - B Mempertahankan kuasa veto
  - C Menangani penyakit berjangkit
  - D Menubuhkan agensi pendidikan
- 12 Negara kita sentiasa mendukung Piagam PBB. Bagaimanakah Malaysia merealisasikan perkara tersebut?
- ms 198
- I Menghormati kedaulatan negara lain
  - II Menyokong perkembangan globalisasi
  - III Memperkukuh ekonomi serantau
  - IV Menegakkan hak asasi manusia
- A I dan II
  - B I dan IV
  - C II dan III
  - D III dan IV
- 13 Agensi PBB telah mengiktiraf kawasan berikut sebagai Tapak Warisan Dunia.

- Gunung Mulu
  - Bandar Melaka
  - Lembah Lenggong

Apakah agensi tersebut?

ms199

- A United Nations of Educational, Scientific and Cultural Organization (UNESCO)
- B United Nations High Commissioner for Refugees (UNHCR)
- C Food and Agriculture Organization (FAO)
- D World Health Organization (WHO)

14 Pilih pasangan yang betul berkaitan bidang agensi di bawah PBB.

ms 199

	<b>Agensi</b>	<b>Bidang</b>
A	UNESCO	Pengeluaran makanan
B	FAO	Kesihatan dan perubatan
C	UNHCR	Pelarian
D	WHO	Pendidikan, sains dan kebudayaan

15 Berikut merupakan antara sumbangan Malaysia dalam misi pengaman anjuran PBB di negara yang berkonflik.

- Congo
- Namibia
- Somalia
- Bosnia dan Herzegovina

Apakah tugas pasukan pengaman di negara tersebut?

ms 200

- A Menjaga perpaduan rakyat
- B Mengawasi gencatan senjata
- C Membaikpulih kerosakan infranstruktur
- D Membebaskan negara yang dijajah

16 Maklumat berikut berkaitan seorang tokoh negara Malaysia dalam agensi PBB.

- Tokoh Diplomat
- Wakil Khas Setiausaha Agung PBB ke Myanmar (2000-2005)

Siapakah tokoh tersebut?

ms 204

- A Dr. Jomo Kwame Sundaram
- B Tan Sri Razali Razali Ismail
- C Datuk Maimunah Mohd. Sharif
- D Tan Sri Dr. Jemilah Mahmood

17 Gambar berikut merujuk logo Komanwel.



Apakah matlamat pertubuhan tersebut?

ms 206

- I Membentuk pakatan tentera
  - II Menyelaras sistem pentadbiran
  - III Membina semangat setiakawan
  - IV Mewujudkan kerjasama
- A I dan II
  - B I dan IV
  - C II dan III
  - D III dan IV

18 Maklumat berikut berkaitan rancangan pembangunan ekonomi dan sosial di bawah Komanwel.

Rancangan Colombo

Apakah matlamat rancangan tersebut?

ms 206

- I Menangani kemiskinan
  - II Menganjurkan program latihan
  - III Menyekat pengaruh komunis
  - IV Menubuhkan tabung kewangan
- A I dan II
  - B I dan IV
  - C II dan III
  - D III dan IV

19 Dasar Aparteid telah diamalkan oleh negara Afrika Selatan. Mengapakah Malaysia menentang dasar tersebut?

ms 207

- A Status sosio
- B Pendidikan
- C Warna kulit
- D Kewarganegaran

- 20 Gambar berikut merupakan logo sukan Komanwel yang pernah dianjurkan di Malaysia.



Apakah tujuan penganjuran sukan tersebut?

ms 207

- A Meningkatkan ekonomi
- B Memperkasa teknologi
- C Mengeratkan hubungan
- D Memperkukuh pertahanan

- 21 Maklumat berikut berkaitan dasar luar negara pada tahun 1970-an.

Malaysia menjalinkan hubungan dengan negara luar tanpa mengira ideologi

Situasi tersebut dapat dibuktikan melalui

ms 208

- A Lawatan Tun Abdul Razak ke China
- B Perjanjian Pertahanan Lima Negara
- C Persefahaman persempadanan negara
- D Latihan ketenteraan bersama negara jiran

- 22 Maklumat berikut berkaitan peristiwa di Asia Tenggara.

Pengaruh komunis telah meluas di Indochina

Apakah kesan peristiwa tersebut?

ms 208

- A Pencerobohan kuasa barat
- B Kegiatan perdagangan terganggu
- C Kebanjiran pendatang asing Vietnam
- D Kemunculan persatuan-persatuan Cina

23 Berikut adalah negara yang terlibat dalam dalam Perjanjian Anglo-Malaysian (AMDA).

- |   |
|---|
| <ul style="list-style-type: none"> <li>• Malaysia</li> <li>• X</li> </ul> |
|---|

Apakah X?

ms 208

- A Jepun
- B Britain
- C Australia
- D Singapura

24 Malaysia menghadapi cabaran dominasi ekonomi dari negara maju. Apakah tindakan negara maju tersebut?

ms209

- A Menyekat pasaran bebas
- B Mengawal mata wang dunia
- C Mengeksploitasi pasaran buruh
- D Menentukan harga komoditi utama

25 Malaysia telah menubuhkan agensi PETRONAS pada tahun 1974. Apakah sektor yang menjadi tumpuan agensi tersebut?

ms 209

- I Sektor gas
- II Sektor minyak
- III Sektor perindustrian
- IV Sektor perkilangan

- A I dan II
- B I dan IV
- C II dan III
- D III dan IV

26 Apakah kesan peristiwa berikut kepada Malaysia?

ms 209

Tahun	Peristiwa
1971	Perjanjian Pertahanan Lima Negara (FPDA)

- A Meningkatkan ekonomi
- B Mempelbagai kebudayaan
- C Memperkukuh keselamatan
- D Mengeratkan hubungan diplomatik

27 Jadual berikut berkaitan dengan pertubuhan di Asia Tenggara.

Tahun	Pertubuhan
1961	ASA
1963	X
1967	ASEAN

Apakah pertubuhan X tersebut?

ms 210

- A FPDA
- B GATT
- C ZOPFAN
- D MAPHILINDO

28 Malaysia telah melaksanakan pelbagai usaha untuk memperkukuh kestabilan rantau Asia Tenggara.

Apakah usaha tersebut?

ms 210

- I Menubuhkan pusat pengajian tinggi
- II Mempengerusi mesyuarat CHOGM
- III Mendukung Deklarasi ZOPFAN
- IV Menghantar misi pengaman

- A I dan II
- B I dan IV
- C II dan III
- D III dan IV

29 Deklarasi Zone of Peace Freedom and Neutrality (ZOPFAN ) telah diumumkan pada tahun 1971 di Kuala Lumpur.

Apakah langkah Malaysia terhadap deklarasi tersebut?

ms 210

- A Menandatangani perjanjian AMDA
- B Menghantar pasukan pengaman
- C Menjalin hubungan dengan China
- D Membentuk pakatan dengan Amerika

30 Apakah kejayaan Projek Industri ASEAN (AIP) antara Malaysia dan Indonesia?

ms 211

- A Pengeluaran baja urea
- B Penghasilan serbuk soda
- C Penanaman kelapa sawit
- D Pembuatan komponen elektronik

- 31 Gambar berikut adalah logo Pertubuhan Menteri-Menteri Pendidikan Asia Tenggara (SEAMEO).



Bagaimanakah pertubuhan tersebut membantu perkembangan pendidikan di Asia Tenggara?

ms 211

- A Penubuhan pusat serantau pendidikan  
 B Pembangunan pusat pengajian tinggi  
 C Pemeraksanaan program belia  
 D Pemberian biasiswa
- 32 Maklumat berikut berkaitan isu yang dibincangkan ketika sidang kemuncak Non-Aligned Movement (NAM) yang diadakan di Kuala Lumpur pada tahun 2003.

- X
- Isu Bosnia-Herzegovina
- Isu Palestin

Apakah X?

ms 212

- A Pencemaran alam sekitar  
 B Pencerobohan Iraq  
 C Dasar Apartied  
 D Kemiskinan
- 33 Maklumat berikut berkaitan penglibatan Malaysia dalam Non-Aligned Movement (NAM).

1970 - Malaysia menandatangani Perisytiharan Lusaka

Apakah saranan Malaysia dalam perisytiharan tersebut?

ms 213

- A Mengetengahkan hal ehwal pelarian  
 B Mendesak pengharaman senjata nuklear  
 C Membangkitkan isu pencerobohan hak asasi  
 D Membincangkan pencerobohan kuasa besar

34 Maklumat berikut berkaitan sebuah pertubuhan dunia.

- |   |
|---|
| <ul style="list-style-type: none"> <li>• Ditubuhkan pada 25 September 1969</li> <li>• Dianggotai 57 buah negara</li> <li>• Memperjuangkan kepentingan umat Islam</li> </ul> |
|---|

Apakah pertubuhan tersebut?

ms 214

- A MAPHILINDO
- B ASEAN
- C OIC
- D NAM

35 Maklumat berikut berkaitan seorang tokoh di negara kita.

Mencadangkan penubuhan sebuah pertubuhan Islam yang boleh menjaga kepentingan masyarakat Islam di seluruh dunia.
--

Siapakah tokoh tersebut?

ms 214

- A Tun Abdul Razak Hussein
- B Tun Dr Mahathir Mohamad
- C Tun Abdullah Ahmad Badawi
- D Tunku Abdul Rahman Putra al Haj

36 Apakah jawatan Tunku Abdul Rahman Putra Al Haj dalam Pertubuhan Kerjasama Islam (OIC)?

ms 214

- A Pengerusi Tetap
- B Bendahari Agung
- C Setiausaha Agung
- D Jawatankuasa Teknikal

37 Maklumat berikut berkaitan tanggapan sesetengah pihak terhadap masyarakat Islam.

<b>3K</b>	<ul style="list-style-type: none"> <li>• Keganasan</li> <li>• Kemiskinan</li> <li>• Kemunduran</li> </ul>
-----------	---

Bagaimanakah Malaysia mendepani tanggapan tersebut?

ms 215

- A Memperkasa media sosial
- B Memperkukuh undang-undang
- C Mengetengahkan nilai kesederhanaan
- D Menghantar bantahan ke peringkat antarabangsa

38 Sebuah institusi pendidikan telah terjaya dibina hasil usaha Malaysia dan pertubuhan OIC.

Apakah institusi pendidikan tersebut?

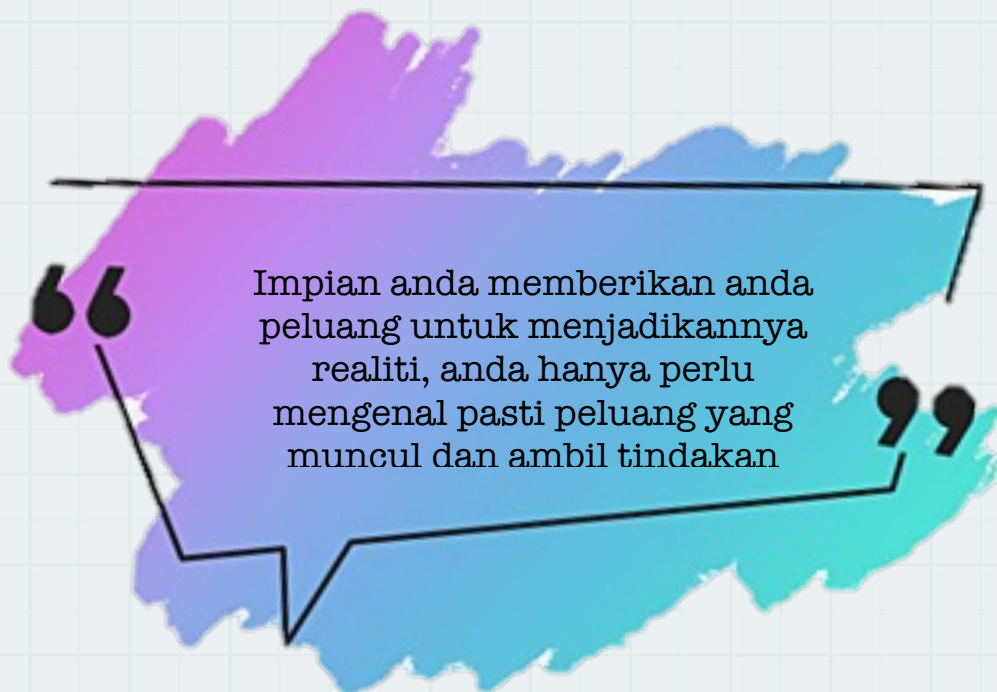
ms 216

- A Universiti Putra Malaysia
- B Universiti Sains Malaysia
- C Universiti Kebangsaan Malaysia
- D Universiti Islam Antarabangsa Malaysia

- 39 Malaysia telah memainkan peranan penting dalam menangani isu politik di negara Islam.  
Apakah isu tersebut?
- ms 216
- A Konflik Iran-Iraq
  - B Peperangan Syria
  - C Pencerobohan Serbia
  - D Permusuhan etnik Syiah-Sunni
- 40 Malaysia menyokong aktiviti Bank Pembangunan Islam (Islamic Development Bank IsDB) pada tahun 1974.  
Apakah kepentingan penubuhan institusi tersebut?
- ms 217
- A Menjalankan kutipan derma
  - B Membangunkan infrastruktur
  - C Mempelopori sistem perbankan
  - D Menyokong penggunaan wang dinar

**PERATURAN PEMARKAHAN  
BAB 9**

SOALAN	JAWAPAN	MUKA SURAT	SOALAN	JAWAPAN	MUKA SURAT
1	A	194	21	A	208
2	B	194	22	C	208
3	C	195	23	B	208
4	D	196	24	D	209
5	A	196	25	A	209
6	B	197	26	C	209
7	A	197	27	D	210
8	D	197	28	D	210
9	D	197	29	C	210
10	C	198	30	A	211
11	A	198	31	A	211
12	B	198	32	C	212
13	A	199	33	B	213
14	C	199	34	C	214
15	B	200	35	D	214
16	B	204	36	C	214
17	D	206	37	C	215
18	A	206	38	D	216
19	C	207	39	A	216
20	C	207	40	C	217



## BAB 10 KECEMERLANGAN MALAYSIA DI PERSADA DUNIA

- 1 Siapakah pemimpin Malaysia yang telah dilantik sebagai Ketua Jawatankuasa Antidadah Antarabangsa pada tahun 1988?

ms 226

- A Tun Muhamad Fuad Stephen
- B Tun Dr Mahathir Muhamad
- C Tun Dato Abdullah Badawi
- D Tun Abdul Razak Husien

- 2 Penyalahgunaan dadah merupakan isu global yang dihadapi oleh Malaysia. Apakah tindakan Malaysia dalam menangani isu tersebut?

ms 226

- I Menjalin kerjasama dengan Interpol
- II Menjatuhkan hukuman berat
- III Mewujudkan pakatan tentera
- IV Membina pusat pemulihan

- A I dan II
- B I dan IV
- C II dan III
- D III dan IV

- 3 Maklumat berikut berkaitan isu global yang di hadapi oleh Malaysia.

Pertindihan Sempadan

Apakah tindakan Malaysia dalam menangani isu tersebut?

ms 227

- A Membubarkan ASEAN
- B Membuat bantahan ke PBB
- C Memutuskan hubungan diplomatik
- D Membawa kes ke mahkamah antarabangsa

- 4 Peta berikut berkaitan negara yang terlibat dengan Kepulauan Spartyly.



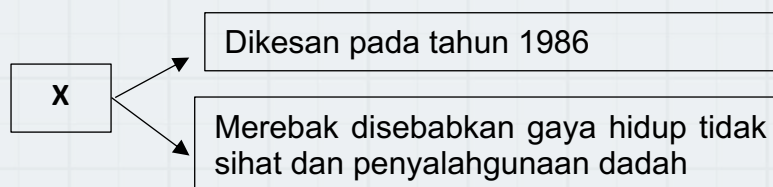
Mengapakah kepulauan ini menjadi rebutan negara-negara tersebut?

ms 227

- A Pertahanan
- B Perdagangan
- C Keselamatan
- D Kawalan sempadan

- 5 Mengapakah gerakan antiminyak kelapa sawit dilancarkan oleh negara maju?  
ms 228
- A Permintaan yang tinggi
  - B Kenaikan harga minyak sawit
  - C Memudaratkan kesihatan manusia
  - D Penjualan minyak kacang soya terjejas
- 6 Bagaimanakah Malaysia menangani isu gerakan antisawit oleh pengusaha dan pencinta alam Eropah?  
ms 228
- A Mendapatkan sijil
  - B Meningkatkan pengeluaran
  - C Mengurangkan penanaman
  - D Mengeksport ke negara Asia Tenggara
- 7 Mengapakah Malaysia menjadi tumpuan utama kegiatan pemerdagangan orang dalam kalangan warga asing?  
ms 229
- A Kedudukan strategik
  - B Kemakmuran ekonomi
  - C Kemajuan infrastruktur
  - D Kemudahan pelabuhan
- 8 Apakah usaha yang dilakukan oleh kerajaan Malaysia untuk menangani isu pemerdagangan orang di rantau Asia Tenggara?  
ms 229
- I Memeterai perjanjian
  - II Akta anti pemerdagangan
  - III Pelan Tindakan Kebangsaan
  - IV Menjalin hubungan dua hala
- A I dan II
  - B I dan IV
  - C II dan III
  - D III dan IV

- 9 Rajah berikut berkaitan wabak penyakit yang dihadapi oleh Malaysia.



Apakah penyakit X?

- A Beri-beri
- B Malaria
- C Denggi
- D AIDS

ms 229

- 10 Apakah cara yang digunakan oleh Kementerian Kesihatan Malaysia untuk menangani penyakit AIDS daripada terus merebak?

ms 229

- A Penciptaan vaksin
- B Pengawalan ubat
- C Pemeriksaan kesihatan
- D Penguatkuasaan undang-undang

- 11 Perjanjian berikut dimeterai dalam kalangan negara Asean.

ASEAN Free Trade Area (AFTA)

Apakah matlamat perjanjian tersebut?

ms 230

- A Penetapan harga barangan yang seragam
- B Pewartaan zon perniagaan bersepadu
- C Pengurangan tarif dan cukai barangan
- D Pemberian pinjaman tanpa faedah

- 12 Maklumat berikut berkaitan peranan Malaysia dalam hubungan ekonomi antarabangsa.

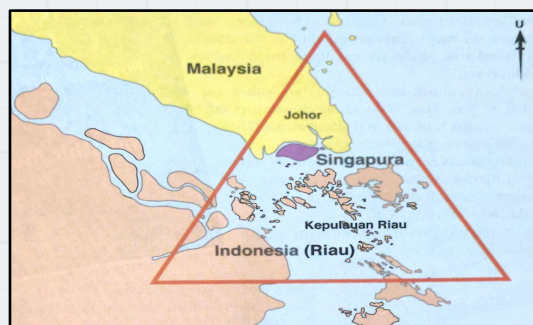
Malaysia sentiasa bersuara dalam pelbagai forum antarabangsa seperti forum Asia-Pacific Economic Cooperation (APEC)

Apakah cadangan Malaysia terhadap APEC?

ms 230

- A Hak kebebasan untuk berniaga
- B Bertindak mengawal perairan negara
- C Memperkukuhkan kerjasama ASEAN
- D Layanan yang saksama semua negara

- 13 Peta merujuk kepada Lingkungan kawasan SIJORI-GT yang melibatkan Singapura-Johor-Indonesia (Riau).




Apakah manfaat yang diperoleh oleh Malaysia melalui kerjasama tersebut?

ms 231

- A Menghadkan kemasukan pendatang tanpa izin
- B Mengurangkan monopoli pasaran barangan
- C Mewujudkan kawasan perdagangan bebas
- D Mengadakan kawasan industri berat

- 14 Gambar berikut berkaitan buku yang ditulis oleh Tun Dr Mahathir Mohamad tentang krisis ekonomi yang melanda negara pada tahun 1997 hingga 1998.



- Apakah usaha yang dilakukan untuk mengatasi masalah tersebut? ms 232
- A Menutup pintu pelaburan asing
  - B Mengecilkan saiz sektor industri
  - C Menambat kadar pertukaran ringgit
  - D Menggalakkan rakyat bercucuk tanam
- 15 Mengapakah kebanyakan negara Asia mengalami kemelesetan ekonomi sekitar tahun 1997 hingga 1998? ms 232
- A Pasaran saham terhad
  - B Kenaikan harga barang
  - C Spekulasi matawang
  - D Masalah inflasi
- 16 Apakah yang dilakukan oleh Malaysia untuk membangunkan sistem kewangan berlandaskan syarak? ms 232
- A Menubuhkan INCEIF (Pusat Antarabangsa Kewangan Islam)
  - B Menyuarakan pendirian dalam forum antarabangsa
  - C menambat kadar tukaran ringgit kepada dolar
  - D Merancang penubuhan tabung antarabangsa
- 17 Mengapakah isu Palestin menjadi perhatian utama dalam dasar luar dan domestik Malaysia? ms 234
- A Menjual peralatan senjata
  - B Menegakkan prinsip keadilan
  - C Merapatkan hubungan diplomatik
  - D Meningkatkan kedudukan ekonomi

- 18 Apakah bentuk sokongan yang diberikan oleh rakyat Malaysia kepada negara Palestin?  
ms 235
- I Menyediakan peralatan persenjataan
  - II Menyertai misi pengaman
  - III Mewujudkan tabung kemanusiaan
  - IV Menghantar bantuan makanan dan perubatan
- A I dan II
  - B I dan IV
  - C II dan III
  - D III dan IV
- 19 Apakah iktibar yang diperolehi oleh penduduk Malaysia terhadap isu Syria?  
ms 236 & KBAT
- A Mengelakkan perang saudara
  - B Menguasai bidang sains teknologi
  - C Meningkatkan peralatan ketenteraan
  - D Menghadkan kemasukan pendatang
- 20 Apakah bencana alam yang telah menimpa Sri Lanka dan Aceh pada tahun 2004?  
ms 237
- A Banjir
  - B Jerebu
  - C Tsunami
  - D Kebuluran
- 21 Apakah bentuk bantuan yang diberikan oleh Malaysia kepada negara Aceh yang terkesan dengan bencana alam?  
ms 237
- I perubatan
  - II makanan
  - III kewangan
  - IV peralatan
- A I dan II
  - B I dan IV
  - C II dan III
  - D III dan IV

22 Maklumat berikut berkaitan dengan sebuah pertubuhan Non-Governmental Organization (NGO) yang terdapat di negara kita.

- Ditubuhkan pada tahun 1999 oleh Dr. Jemilah Mahmood
- Bertindak memberikan bantuan perubatan
- Membina semula pusat kesihatan komuniti di Aceh
- Membangunkan infrastruktur di Sri Lanka

Apakah NGO tersebut?

ms 237

- A Global Peace Mission (GPM)
- B Angkatan Belia Islam Malaysia (ABIM)
- C Organisasi Humanitarian Care (MyCare)
- D Malaysian Medical Relief Society (MERCY)

23 Apakah yang dimaksudkan dengan kelestarian global?

ms 238

- A Pemulihan kemusnahan alam sekitar
- B Melindungi khazanah perhutanan
- C Kewujudan Kawasan hutan simpan
- D Pemeliharaan keaslian alam sekitar

24 Gambar berikut berkaitan usaha Malaysia dalam memastikan program kelestarian global di peringkat antarabangsa.



Apakah matlamat anugerah tersebut ?

ms 238

- A Sumbangan dalam alam sekitar
- B Kejayaan dalam teknologi hijau
- C Penglibatan untuk kesan rumah hijau
- D Kempen menggunakan tenaga solar

- 25 Maklumat berikut berkaitan deklarasi yang dimeterai sempena Mesyuarat Ketua-Ketua Negara Komanwel pada Oktober 1989.

Deklarasi Langkawi

Apakah kandungan pengisytiharan tersebut?

ms 238

- A Antartika
- B Alam sekitar
- C Kemanusiaan
- D Penyalahgunaan dadah

- 26 Apakah isu yang dibincangkan dalam Sidang Kemuncak Bumi di Rio de Janeiro?

ms 239

- A Perubahan iklim dunia
- B Hakisan pesisiran pantai
- C Pencemaran alam sekitar
- D Perlumbaan senjata nuklear

- 27 Maklumat berikut berkaitan pelibatan Malaysia di peringkat antarabangsa.

- Protokol Kyoto 1997
  - Persidangan Alam Sekitar Bali

Apakah perkara yang dipersetujui oleh Malaysia dalam persidangan tersebut ?

ms 239

- A Mengawal pencemaran
- B Menjaga kelestarian alam
- C Melancarkan teknologi solar
- D Membebaskan gas rumah hijau

- 28 Mengapakah Malaysia menganggap penerokaan Antartika dilakukan secara tidak adil?

ms 240

- A Didominasi sebahagian kecil negara sahaja
- B Negara membangun dinafikan hak mereka
- C Cadangan Malaysia telah diabaikan
- D Tanpa pelibatan ahli PBB

- 29 Pihak manakah yang dicadangkan oleh Malaysia untuk mentadbir Antartika?

ms 240

- A Pertubuhan Bangsa Bangsa Bersatu (PBB)
- B Pertubuhan Negara-Negara Berkecuali (NAM)
- C Persatuan Negara-Negara Asia Tenggara (ASEAN)
- D Pertubuhan Negara Bekas Tanah Jajahan (Komanwel)

30 Apakah gesaan dan cadangan yang dibuat oleh Malaysia berkaitan isu Antartika?

ms 240

- A Pewartaan kawasan
- B Penjagaan hidupan liar
- C Penjagaan alam sekitar
- D Perkongsian hasil benua

31 Gambar berikut berkaitan usaha Malaysia dalam isu Antartika.



Apakah tujuan penubuhan pusat penyelidikan tersebut?

ms 241

- A Meninjau tahap pencemaran alam
- B Melakukan penyelidikan saintifik
- C Menjaga kualiti alam sekitar
- D Mewujudkan rumah hijau

32 Gambar berikut adalah logo pertubuhan ASEAN.



Apakah matlamat pertubuhan tersebut?

ms 242

- I Menstabilkan harga minyak mentah
  - II Pakatan ketenteraan
  - III Perkongsian ekonomi
  - IV Mengeratkan integrasi negara anggota
- A I dan II
  - B I dan III
  - C I dan IV
  - D III dan IV

33 Bagaimanakah konsep keamanan serantau dikekalkan dalam komuniti ASEAN?

ms 242

- A Menghalang campur tangan asing
- B Menyelesaikan konflik secara damai
- C Menandatangani perjanjian keamanan
- D Menguatkan pertahanan negara anggota

34 Maklumat berikut berkaitan isu keselamatan makanan

Keselamatan makanan merujuk kepada setiap orang mempunyai akses kepada sumber makanan yang mencukupi, selamat dan berkhasiat

Apakah agensi yang membangkitkan isu tersebut?

ms 242

- A Pertubuhan Kesihatan Sedunia (WHO)
- B Jawatankuasa Bangsa Bersatu (UNC)
- C Mesyuarat Ketua-Ketua Negara Komanwel (CHOGM)
- D Pesuruhjaya Tinggi Bangsa-Bangsa Bersatu mengenai Pelarian (UNCHR)

35 Maklumat berikut berkaitan kerjasama Malaysia dengan negara ASEAN

Rizab Sekuriti Makanan ASEAN

Mengapakah usaha ini dilakukan?

ms 243

- A Membentuk Simpanan Beras Kecemasan
- B Menstabilkan harga barang keperluan
- C Melancarkan Dasar Teknologi Hijau
- D Menurunkan cukai import makanan

36 Bagaimanakah negara-negara ASEAN menangani isu jerebu di rantau Asia Tenggara?

ms 243

- A Memeterai perjanjian
- B Menubuhkan pusat penyelidikan
- C Meningkatkan hubungan dua hala
- D Memohon bantuan daripada PBB

- 37 Maklumat berikut berkaitan dengan persaingan kuasa besar dunia di Laut China Selatan.

Kapal perang Amerika Syarikat (AS) dikesan meronda sekitar perairan kepulauan Paracel, di Laut Cina Selatan semalam selepas melalui Selat Taiwan. Perbuatan itu disifatkan sengaja dilakukan bagi mencabar China yang menuntut hampir keseluruhan kawasan maritim di Laut China Selatan  
*Berita Harian Online, 22hb Mei 2021*

- Apakah pendirian Malaysia berkaitan isu Laut China Selatan? ms 244
- A Mewartakan hak milik setiap negara  
B Menekankan perjanjian persefahaman  
C Mewujudkan zon bebas senjata nuklear  
D Memastikan kekayaan dikongsi bersama
- 38 Mengapakah Malaysia tidak membenarkan kapal yang membawa senjata nuklear berlabuh di pelabuhannya? ms 244
- A Mengelak konflik buruk  
B Mengukuhkan sistem pertahanan  
C Meningkatkan keselamatan negara  
D Menyokong pertubuhan hak asasi manusia
- 39 Bagaimanakah Malaysia menangani isu kehadiran pendatang tanpa izin (PATI)? ms 245
- A Bermuafakat bersama negara di Asia Tenggara  
B Bertindak melakukan pengusiran beramai-ramai  
C Bersedia memberikan pekerjaan dan tempat tinggal  
D Bekerjasama dengan Pertubuhan Bangsa-Bangsa Bersatu (PBB)
- 40 Apakah implikasi kedatangan pendatang asing tanpa izin (PATI) ke negara kita? ms 245
- A Memajukan ekonomi negara  
B Memupuk perpaduan serumpun  
C Mengancam keselamatan negara  
D Mengurangkan produktiviti negara

**PERATURAN PEMARKAHAN  
BAB 10**

SOALAN	JAWAPAN	MUKA SURAT	SOALAN	JAWAPAN	MUKA SURAT
1	B	226	21	A	237
2	A	226	22	D	237
3	D	227	23	D	238
4	B	227	24	A	238
5	D	228	25	B	238
6	A	228	26	C	239
7	A	229	27	D	239
8	C	229	28	A	240
9	D	229	29	A	240
10	C	229	30	D	240
11	C	230	31	B	241
12	D	230	32	D	242
13	B	231	33	B	242
14	C	232	34	B	242
15	C	232	35	A	242
16	A	232	36	A	243
17	B	234	37	C	244
18	D	235	38	A	244
19	A	236	39	D	245
20	C	237	40	C	245

